



Національний університет  
водного господарства  
та природокористування

Міністерство освіти і науки, молоді та спорту України  
Національний університет водного господарства та  
природокористування

Кафедра автомобільних доріг, основ і фундаментів

**053-110**

### **Методичні вказівки**

до виконання розрахунково-графічної роботи з дисципліни  
“Проектування основ і фундаментів у складних інженерно-  
геологічних умовах“ студентами за напрямом підготовки 6.060101  
„Будівництво” професійного спрямування “Промислове і цивільне  
будівництво“ денної та заочної форм навчання

Рекомендовано методичною  
комісією за напрямом підготовки  
6.060101 „Будівництво”  
протокол №6 від 04.04.2012 р.

Рівне 2012



Методичні вказівки до виконання розрахунково-графічної роботи з дисципліни „Проектування основ і фундаментів у складних інженерно-геологічних умовах” студентами за напрямом підготовки 6.060101 „Будівництво” професійного спрямування „Промислове і цивільне будівництво” денної та заочної форм навчання/  
Г.Ф. Федорчук, В.В. Супрунюк. – Рівне: НУВГП, 2012,- 34 с.

Упорядники: Г.Ф. Федорчук, доцент, В.В. Супрунюк,  
канд.техн.наук

Відповідальний за випуск В.А. Гайдукевич, канд. техн. наук, доц.,  
завідуючий кафедрою автомобільних доріг, основ і фундаментів.

### Зміст

	стор.
Вступ.....	3
Завдання на РГР	4
1. Визначення типу ґрунтових умов за просіданням.....	5
2. Визначення загальної деформації осідання і просідання основ фундаменту.....	8
3. Ущільнення ґрунту важкими трамбівками.....	11
4. Проектування основ, ущільнених ґрунтовими палями.....	12
5. Пальові фундаменти на просідаючих ґрунтах.....	16
6. Влаштування піщаних подушок.....	24
Додаток.....	30
Список використаної літератури.....	34

© Федорчук Г.Ф.,  
Супрунюк В.В.,2012  
© НУВГП, 2012



## Вступ

Складні ґрунтові умови будівництва майже на всій території України створюють ускладнення як при зведенні будівель і споруд, так і в процесі їх експлуатації.

Найбільш складними для будівельників України є просідаючі лесові ґрунти, що розповсюджені більш як на 70% території і мають нерідко досить потужні товщі. Складними є умови будівництва на дуже стисливих ґрунтах, що мають місце в усіх природних зонах і найбільш поширені в поліській зоні. До дуже стисливих ґрунтів відносять болотні відкладення (мули, сапропелі, торфи і заторфовані ґрунти), пухкі піски, деякі різновиди глинистих водонасичених ґрунтів. Будівництво на вище вказаних ґрунтах вимагає додаткових суттєвих витрат на їх ущільнення або закріплення, або повну заміну. Тому від ґрунтового вивчення фізико-механічних властивостей цих ґрунтів і правильного вибору способів будівництва на них значно залежить вартість будівель чи споруд в цілому.

Мета даної розрахункової роботи – набуття студентами практичних знань з визначення типів ґрунтових умов за просіданням, проведення розрахунків сумісних осідань і можливих просідань основ і фундаментів у разі замочування товщі просідаючих ґрунтів, проектування пальових фундаментів на просідаючих ґрунтах, проектування піщаних подушок на дуже стисливих ґрунтах.

Вихідні дані для виконання розрахунково-графічної роботи студент виписує з табл. 1 за варіантом, який отримує у викладача під час проведення практичних занять.



Завдання на РГР

№ варіанта	№ ґрунту	Фізико-механічні характеристики ґрунтів											Товщина ґрунтів, м	d, м	ø×l, м	P, кПа
		$\rho_s$ , $\frac{\text{г}}{\text{см}^3}$	$\rho_s$ , $\frac{\text{г}}{\text{см}^3}$	W, %	W <sub>L</sub> , %	W <sub>p</sub> , %	$\phi$ , град	c, кПа	Відносне просідання $E_d$ при тисках p, кПа							
									100	200	300					
1	ПЕ-1	2.70	1.33	10.0	31.0	20.0	12	12	0.093	0.101	0.119	6.0	1.8	2,1×3,6	210	
	ПЕ-2	2.70	1.69	17.4	40.0	23.0	18	40	0.007	0.015	0.019	4.9				
2	ПЕ-1	2.76	1.43	8.0	26.0	18.0	20	28	0.07	0.09	0.108	5.2	1.6	1,8×3,0	215	
	ПЕ-2	2.67	1.57	6.9	32.0	17.0	24	13	0.003	0.018	0.023	6.0				
3	ПЕ-1	2.74	1.51	8.3	36.0	22.0	16	14	0.048	0.072	0.089	4.7	1.7	1,5×2,7	220	
	ПЕ-2	2.71	1.66	12.5	29.1	18.0	17	15	0.010	0.012	0.016	6.1				
4	ПЕ-1	2.68	1.53	17.6	36.4	20.0	20	10	0.062	0.091	0.105	4.2	1.8	2,0×3,0	225	
	ПЕ-2	2.72	1.47	10.6	42.0	24.0	14	14	0.009	0.017	0.027	6.2				
5	ПЕ-1	2.68	1.60	12.9	48.0	26.0	19	60	0.018	0.029	0.042	4.3	1.9	3,0×3,2	230	
	ПЕ-2	2.74	1.69	17.0	34.0	22.0	16	15	0.010	0.011	0.015	5.8				
6	ПЕ-1	2.76	1.43	8.0	28.0	16.5	17	16	0.077	0.099	0.106	4.8	1.6	1,6×2,6	235	
	ПЕ-2	2.74	1.69	17.0	34.0	18.0	19	50	0.005	0.015	0.021	5.6				
7	ПЕ-1	2.67	1.57	6.9	32.0	17.0	20	20	0.013	0.018	0.023	5.1	1.5	1,8×1,8	240	
	ПЕ-2	2.70	1.51	8.3	36.0	22.0	22	23	0.004	0.014	0.019	5.4				
8	ПЕ-1	2.70	1.62	15.5	27.9	16.8	15	14	0.020	0.025	0.030	4.6	2.2	2,0×3,6	180	
	ПЕ-2	2.76	1.43	8.0	28.0	15.5	18	15	0.008	0.013	0.018	5.5				
9	ПЕ-1	2.74	1.69	17.0	34.0	18.0	23	20	0.050	0.060	0.080	5.5	2.1	1,7×2,7	185	
	ПЕ-2	2.68	1.70	15.6	23.8	17.8	20	24	0.011	0.013	0.016	5.9				
10	ПЕ-1	2.68	1.72	16.2	24.2	18.0	22	22	0.019	0.027	0.034	5.5	1.7	1,9×2,9	190	
	ПЕ-2	2.68	1.57	6.9	32.0	18.0	23	25	0.009	0.018	0.028	5.8				
11	ПЕ-1	2.70	1.51	8.3	36.0	22.0	29	18	0.048	0.072	0.089	5.4	2.4	2,5×2,5	195	
	ПЕ-2	2.68	1.57	6.9	32.0	17.0	18	16	0.008	0.017	0.022	6.2				
12	ПЕ-1	2.70	1.51	8.3	36.0	22.0	19	52	0.048	0.072	0.089	5.0	2.6	1,5×1,5	205	
	ПЕ-2	2.68	1.70	15.6	23.8	17.8	17	18	0.05	0.06	0.09	6.4				
13	ПЕ-1	2.68	1.72	16.2	24.2	18.0	17	18	0.018	0.023	0.031	4.9	1.7	1,6×1,6	200	
	ПЕ-2	2.69	1.70	16.0	24.0	19.0	20	29	0.012	0.016	0.018	6.6				
14	ПЕ-1	2.69	1.67	14.6	23.1	17.7	16	46	0.019	0.026	0.033	5.9	2.3	3,0×3,5	210	
	ПЕ-2	2.70	1.66	17.5	31.0	19.2	18	35	0.008	0.022	0.028	6.8				
15	ПЕ-1	2.71	1.34	10.3	30.0	21.0	20	22	0.073	0.091	0.109	5.8	1.6	2,1×2,4	250	
	ПЕ-2	2.72	1.67	16.4	38.0	22.0	16	14	0.007	0.013	0.018	6.6				
16	ПЕ-1	2.73	1.45	8.1	26.5	18.5	16	44	0.06	0.08	0.098	5.3	2.1	2,0×2,5	245	
	ПЕ-2	2.68	1.56	7.2	31.0	17.2	19	28	0.004	0.013	0.019	6.4				
17	ПЕ-1	2.73	1.54	8.2	34.0	20.0	22	16	0.058	0.075	0.083	5.4	1.8	1,8×2,4	240	
	ПЕ-2	2.68	1.63	11.5	28.1	17.0	18	20	0.009	0.012	0.015	6.3				
18	ПЕ-1	2.67	1.52	17.1	35.4	21.0	7	29	0.061	0.092	0.102	4.5	1.5	1,5×1,5	235	
	ПЕ-2	2.71	1.49	10.5	41.0	25.0	18	47	0.009	0.014	0.021	6.3				
19	ПЕ-1	2.70	1.62	12.5	47.0	24.0	16	15	0.028	0.039	0.056	4.3	1.9	1,2×1,5	230	
	ПЕ-2	2.75	1.71	17.2	33.0	21.0	19	22	0.009	0.013	0.018	6.2				
20	ПЕ-1	2.76	1.43	8.0	28.0	16.5	29	17	0.071	0.093	0.101	4.9	2.1	1,4×2,1	225	
	ПЕ-2	2.74	1.69	16.5	33.0	17.0	17	16	0.007	0.013	0.017	6.5				
21	ПЕ-1	2.69	1.61	6.7	31.0	16.0	14	14	0.015	0.022	0.027	6.1	1.7	2,2×3,2	220	
	ПЕ-2	2.75	1.56	8.3	35.0	22.5	19	52	0.006	0.015	0.020	5.8				
22	ПЕ-1	2.73	1.61	15.0	27.4	16.5	21	20	0.022	0.027	0.033	6.6	1.8	2,4×3,4	215	
	ПЕ-2	2.77	1.48	8.3	27.6	15.4	20	28	0.009	0.014	0.019	5.3				
23	ПЕ-1	2.73	1.52	10.3	32.6	16.9	21	23	0.031	0.042	0.059	5.6	2.0	1,8×2,8	210	
	ПЕ-2	2.69	1.55	15.2	23.1	17.1	23	25	0.012	0.014	0.017	6.6				
24	ПЕ-1	2.70	1.51	15.2	23.2	18.1	14	14	0.021	0.027	0.033	5.4	2.2	2,0×2,5	205	
	ПЕ-2	2.69	1.58	6.5	31.0	18.3	18	46	0.009	0.016	0.025	6.4				
25	ПЕ-1	2.79	1.58	8.1	39.0	23.1	15	14	0.033	0.052	0.069	5.1	2.1	2,5×3,0	200	
	ПЕ-2	2.64	1.52	6.7	35.0	19.5	25	14	0.009	0.014	0.021	6.8				
26	ПЕ-1	2.66	1.60	6.8	32.0	16.6	13	35	0.011	0.021	0.026	6.0	1.8	2,1×3,1	195	
	ПЕ-2	2.71	1.58	8.1	31.0	22.0	20	19	0.005	0.014	0.019	5.6				
27	ПЕ-1	2.71	1.64	5.0	29.4	14.2	21	10	0.020	0.027	0.034	5.6	1.8	1,9×3,5	190	
	ПЕ-2	2.70	1.44	8.6	26.6	12.4	16	16	0.011	0.013	0.018	5.7				
28	ПЕ-1	2.74	1.71	7.3	28.6	16.5	26	15	0.032	0.043	0.058	5.2	1.6	3,0×3,5	185	
	ПЕ-2	2.73	1.70	5.2	23.6	17.5	19	18	0.013	0.016	0.019	6.5				
29	ПЕ-1	2.77	1.64	12.9	18.0	13.1	18	19	0.022	0.028	0.031	5.2	2.0	1,6×2,0	180	
	ПЕ-2	2.63	1.52	9.5	34.0	14.7	22	22	0.009	0.014	0.021	6.6				
30	ПЕ-1	2.72	1.54	9.1	31.0	25.0	16	19	0.031	0.042	0.049	5.7	1.7	1,5×2,5	170	
	ПЕ-2	2.69	1.51	16.7	33.0	19.8	17	18	0.007	0.012	0.018	6.2				



## 1. Визначення типу ґрунтових умов за просіданням

Специфічною особливістю просідаючих ґрунтів є те, що знаходячись в напруженому стані від зовнішнього навантаження і власної ваги, або тільки власної ваги, при замочуванні водою вони додатково деформуються. Ці додаткові деформації називаються просіданням. Деформації просідання враховуються лише при величині відносного просідання ґрунтів  $\varepsilon_{sl} \geq 0,01$ .

Ґрунтові умови будівельних майданчиків, складених просідаючими ґрунтами, залежно від величини можливого просідання під власною вагою при замочуванні в умовах повного водонасичення ( $S_r \geq 0,8$ ), діляться на два типи:

I тип – просідання від власної ваги відсутнє або не перевищує 5 см ( $S_{sl} \leq 5$  см);

II тип – просідання від власної ваги перевищує 5 см ( $S_{sl} > 5$  см).

**Задача. 1.** Визначити тип ґрунтових умов за просіданням, якщо на будівельному майданчику до глибини 11 м залягають лесові просідаючі ґрунти представлені двома інженерно-геологічними елементами (ІҒЕ). Характеристики ґрунтів наведені в табл. 1.1.

Таблиця 1.1

Таблиця фізико-механічних характеристик ґрунтів

№ ІҒЕ	$\rho_s$ , г/см <sup>3</sup>	$\rho$ , г/см <sup>3</sup>	$W$ , %	$W_L$ , %	$W_p$ , %	Відносне просідання $\varepsilon_{sl}$ при тисках $p$ , кПа			Товщина ґрунтів, м
						100	200	300	
ІҒЕ-1	2,70	1,58	10,0	18,0	12,0	0,02	0,03	0,04	5,0
ІҒЕ-2	2,69	1,61	11,0	27,0	15,0	0,008	0,013	0,018	6,0

### Розв'язок.

1) Визначаємо назви ґрунтів за числом пластичності  $I_p$  та показником текучості  $I_L$  за табл. Б11 і табл. Б14 [1] або табл. А і табл. Б додатку.

Для ІҒЕ - 1:  $I_p = W_L - W_p = 18 - 12 = 6\%$ . - ґрунт супісок;

$$I_L = \frac{W_L - W_p}{I_p} = \frac{10 - 12}{6} = -0,3 \text{ - супісок твердий.}$$

Для ІҒЕ - 2:  $I_p = W_L - W_p = 27 - 15 = 12\%$ . - ґрунт суглинок;

$$I_L = \frac{W_L - W_p}{I_p} = \frac{11 - 15}{12} = -0,3 \text{ - суглинок твердий.}$$



2) За табличними даними будемо графіки  $\varepsilon_{sl}=f(p)$  (рис.1.1).

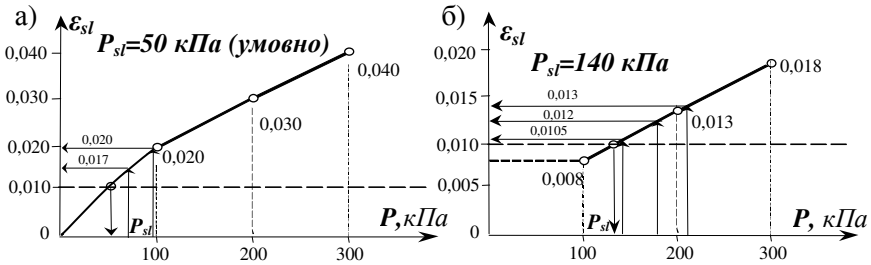


Рис.1. Графіки залежності  $\varepsilon_{sl}=f(p)$  для ІГЕ-1 (а) і ІГЕ-2 (б)

3) Просідаючу ґрунтову товщу ділимо на окремі розрахункові шари товщиною  $h_i \leq 2$  м. Окремий розрахунковий шар не повинен знаходитись в двох інженерно-геологічних елементах.

4) Ґрунти будуть просідати в замоченому стані, тобто коли  $S_r \geq 0,8$ . Тому визначаємо питому вагу ґрунтів при  $S_r=0,8$ , попередньо визначивши коефіцієнти пористості ґрунтів ІГЕ-1 і ІГЕ-2; у природному стані вологість замочених ґрунтів  $W_{sat}$ .

Для ІГЕ - 1:

- коефіцієнт пористості ґрунту

$$e = \frac{\rho_s}{\rho} (1 + W) - 1 = \frac{2,70}{1,58} (1 + 0,1) - 1 = 0,88 \quad (1)$$

- вологість замоченого ґрунту:

$$W_{sat} = \frac{S_r \cdot e \cdot \rho_w}{\rho_s} = \frac{0,8 \cdot 0,88 \cdot 1,0}{2,70} = 0,261 ; \quad (2)$$

- питома вага замоченого ґрунту

$$\gamma_{sat} = \frac{\rho}{1 + W} (1 + W_{sat}) \cdot g = \frac{1,58}{1 + 0,1} (1 + 0,261) \cdot 10 = 21,9 \text{ кН/м}^3. \quad (3)$$

Для ІГЕ - 2:

- коефіцієнт пористості ґрунту

$$e = \frac{\rho_s}{\rho} (1 + W) - 1 = \frac{2,69}{1,61} (1 + 0,11) - 1 = 0,85 \quad (4)$$

- вологість замоченого ґрунту

$$W_{sat} = \frac{0,8 \cdot 0,85 \cdot 1,0}{2,69} = 0,253 ; \quad (5)$$

- питома вага замоченого ґрунту



$$\gamma_{sat} = \frac{1,61}{1 + 0,11} (1 + 0,253) \cdot 10 = 18,2 \text{ кН/м}^3. \quad (6)$$

5) Визначаємо напруження в ґрунтовому масиві, які виникають від власної ваги замоченого ґрунту на нижніх межах кожного розрахункового шару:  $\sigma_{zg,sat} = \sum_{i=1}^n \gamma_{sat,i} \cdot h_i$  (табл. 1.2).

6) Визначаємо напруження в середині кожного розрахункового шару  $\sigma_{zg,sat,i}$ .

7) Визначаємо просідання  $S_{sl,i}$  кожного розрахункового шару просідаючої товщі:  $S_{sl,i} = \varepsilon_{sl,i} \cdot h_i \cdot k_{sl,i}$ , де  $k_{sl,i} = 1,0$  при визначенні просідання від власної ваги ґрунту. Для цього з графіків  $\varepsilon_{sl,i} = f(p)$  визначаємо відповідно для кожного ІГЕ початковий тиск просідання  $p_{sl}$  (мінімальний тиск, при якому проявляються просідаючі властивості ґрунтів у разі їх повного водонасичення) і відносне просідання  $\varepsilon_{sl,i}$  для кожного розрахункового шару. Якщо напруження в середині розрахункового шару  $\sigma_{zg,sat,i}$  менше початкового тиску просідання  $p_{sl}$ , то ґрунт в розрахунковому шарі при цьому тиску просідати не буде, тобто  $\varepsilon_{sl,i} = 0$ .

8) Визначаємо загальне просідання всієї товщі за формулою

$$S_{sl} = \sum_{i=1}^n S_{sl,i}$$

Розрахунки проводимо у табличній формі (табл.1.2)

Таблиця 1.2

До визначення типу ґрунтових умов за просіданням

№ ІГЕ	Назва ґрунту	Товщина ІГЕ, м	Питома вага замоченого ґрунту $\gamma_{sat}$ , кН/м <sup>3</sup>	Товщина розрахункового шару $h_i$ , м	$\sigma_{zg,sat}$ , кПа	$\sigma_{zg,sat,i}$ , кПа	$\varepsilon_{sl,i}$	$S_{sl,i}$ , м
ІГЕ -1	Супісок	5,0	21,9	2,0	43,8	21,9	$\sigma_{zg,sat,i} < p_{sl}$	0,000
				2,0	86,7	65,3	0,017	0,034
				1,0	109,5	98,1	0,020	0,020
ІГЕ -2	Суглинок	6,0	18,2	2,0	145,9	127,7	$\sigma_{zg,sat,i} < p_{sl}$	0,000
				2,0	182,3	164,1	0,012	0,024
				2,0	218,7	200,5	0,013	0,026
								0,104

Просідання всієї товщі  $S_{sl} = 0,104 \text{ м} = 10,4 \text{ см} > 5 \text{ см}$ . Отже, ґрунтові умови відносяться до **II-го типу за просіданням**.

Варіанти характеристик просідаючих ґрунтів для самостійної роботи представлені в табл. 1.



## 2. Визначення загальної деформації осідання і просідання основи фундаменту

Деформації основ будівель і споруд на лесових просідаючих ґрунтах визначають за умовою:

$$S + S_{sl} \leq S'_u, \quad (2.1)$$

де  $S$  – сумісна деформація основи і будівлі чи споруди, що визначається як для звичайних непросідаючих ґрунтів, виходячи з деформаційних характеристик при природній вологості;  $S_{sl}$  – деформація основи від просадки ґрунту;  $S'_u$  – гранично допустима сумісна деформація основи і будівлі чи споруди, що дорівнює:

$$S'_u = S_u \cdot \gamma_s, \quad (2.2)$$

де  $S_u$  – гранично допустима деформація основи і будівлі чи споруди, визначається за ДБН В.2.1-10-2009. „Основи та фундаменти споруд”. як для звичайних ґрунтів,  $\gamma_s$  – коефіцієнт умов роботи, що враховує імовірність одночасного сполучення найбільш несприятливих умов за просіданням та осіданням і приймається рівним одиниці при  $S_{sl} < 2 \cdot S$  і рівним 1,25 при  $S_{sl} \geq 2 \cdot S$ .

Просідання основи при замочуванні визначають за виразом:

$$S_{sl} = \sum_{i=1}^n \varepsilon_{sl,i} \cdot h_i \cdot k_{sl,i}, \quad (2.3)$$

де  $n$  – кількість розрахункових шарів в просідаючій товщі;  $\varepsilon_{sl,i}$  – відносне просідання  $i$ -го шару ґрунту;  $h_i$  – товщина  $i$ -го розрахункового шару ґрунту;  $k_{sl,i}$  – коефіцієнт, який при ширині підшви фундаменту  $b \geq 12$  м дорівнює одиниці; при ширині  $b \leq 3$  м вираховується за виразом:

$$k_{sl,i} = 0,5 + \frac{1,5 \cdot (P - P_{sl,i})}{P_0}, \quad (2.4)$$

тут  $P$  – середній тиск під підшвою фундаменту, кПа;  $P_{sl}$  – початковий тиск просідання  $i$ -го шару ґрунту, кПа;  $P_0$  – тиск, що дорівнює 100 кПа; при  $3 \text{ м} < b < 12 \text{ м}$  визначається за інтерполяцією між значеннями отриманими при  $b=3$  м і  $b=12$  м.

**Задача. 2.** Визначити загальні деформації осідання і просідання за наступних умов. Фундамент з розмірами підшви  $b \times l = 2,5 \times 3,5$  м заглиблений на величину  $d = 2$  м. Тиск по підшві фундаменту



$P = 200$  кПа. Грунтові умови з попереднього прикладу. Будівля з залізобетонним каркасом. Технологічний процес пов'язаний з витратами води, можливе замочування основи. Допустиме осідання  $S_u = 10$  см.

### Розв'язок.

Розрахунки виконуємо в табличній формі (табл. 2.1). В стовбчиках 1-9 визначаємо осідання основи і фундаменту як для звичайних ґрунтів природньої вологості: ділимо ґрунтову товщу на розрахункові шари товщиною  $h_i \leq 0,4 \cdot b$ ; визначаємо напруження від власної ваги ґрунту  $\sigma_{zg}$ , з питомою вагою ґрунту у природному стані  $\gamma_{II}$ ; визначаємо напруження від зовнішнього навантаження  $\sigma_{zp}$  на межах розрахункових шарів і  $\sigma_{zp,i}$  в серединях розрахункових шарів; визначаємо нижню межу стисливої товщі, де  $\sigma_{zp} \leq \sigma_{zg}$  (в задачі це на межі 6-го і 7-го шарів); визначаємо осідання в межах стисливої товщі за виразом  $S = \beta \cdot \sum_{i=1}^n \frac{\sigma_{zp,i} \cdot h_i}{E_i}$ .

В десятому-дванадцятому стовбчиках визначаємо напруження від власної ваги ґрунту  $\sigma_{zg,sat}$ , з питомою вагою в насиченому водою стані  $\gamma_{sat,II}$ ; сумарні напруження  $\sigma_{zg,sat} + \sigma_{zp}$ , на межах розрахункових шарів; тиск в серединях розрахункових шарів від напружень  $\sigma_{zg,sat} + \sigma_{zp}$ .

З графіків залежностей  $\varepsilon_{sl} = f(p)$  (див. рис.1.1) при визначених тисках знаходимо величини відносного просідання для кожного розрахункового шару (13-й стовбчик).

Визначаємо коефіцієнти  $k_{sl}$  для кожного ПГЕ.

$$\text{Для ПГЕ - 1: } k_{sl} = 0,5 + \frac{1,5 \cdot (P - P_{sl,1})}{P_0} = 0,5 + \frac{1,5 \cdot (200 - 50)}{100} = 2,75.$$

$$\text{Для ПГЕ - 2: } k_{sl} = 0,5 + \frac{1,5 \cdot (P - P_{sl,2})}{P_0} = 0,5 + \frac{1,5 \cdot (200 - 140)}{100} = 1,4.$$

Визначаємо просідання ґрунту в кожному розрахунковому шарі за виразом  $S_{sl,i} = \varepsilon_{sl,i} \cdot h_i \cdot k_{sl,i}$  та їх суму  $S_{sl}$ .

Визначаємо загальні деформації осідання і просідання  $S + S_{sl}$  і порівнюємо з гранично допустимою  $S'_u = S_u \cdot \gamma_s = 10 \cdot 1,25 = 12,5$  см.

Тиск під подошвою фундаменту від додаткового навантаження на ґрунт  $P_0 = P - \sigma_{zg,0} = 200 - 31,6 = 168,4$  кПа.

Загальні деформації осідання і просідання основи і фундаменту

Таблиця 2.1

№ ГЕ	Назва ГЕ	Товщина ГЕ, м	$\gamma_{II}$ , кН/м <sup>3</sup>	$\gamma_{II, sat}$ , кН/м <sup>3</sup>	E, кПа		№ розрах. шару	$h_i$ , м	$z_i$ , м	$\sigma_{zg}$ , кПа	$\xi = z/b$	$\alpha_i$	$\sigma_{zp}$ , кПа	$\sigma_{zp^i}$ , кПа	$S_i$ , м	$\sigma_{zg, sat}$ , кПа	$\sigma_{zg, sat} + \sigma_{zp}$ , кПа	Тиск в середині шару, кПа	$\epsilon_{sl, i}$	$S_{sl, i}$ , м
							1	2	3	4	5	6	7	8	9	10	11	12	13	14
ГЕ-1	Супісок твердий просідючий	5,0	15,8	21,9	20000		0	2,0	0,0	31,6	0,0	1,000	168,4	-	-	43,8	212,2	-	-	-
							1	1,0	1,0	47,4	0,8	0,848	142,8	155,6	0,0062	65,7	208,5	210,4	0,032	0,088
							2	1,0	2,0	63,2	1,6	0,532	89,6	116,2	0,0046	87,6	177,2	192,9	0,029	0,080
							3	1,0	3,0	79,0	2,4	0,325	54,7	72,2	0,0029	109,5	164,2	170,7	0,026	0,072
							4	1,0	4,0	95,1	3,2	0,210	35,4	45,1	0,0018	127,7	163,1	163,7	0,012	0,017
ГЕ-2	Суглинок твердий просідючий	6,0	16,1	18,2	20000		5	1,0	5,0	111,2	4,0	0,145	24,4	29,9	0,0012	145,9	170,3	166,7	0,012	0,017
							6	1,0	6,0	127,3	4,8	0,105	17,7	21,1	0,0008	164,1	181,8	176,1	0,012	0,017
							7	1,0	7,0	143,4	5,6	0,079	13,3	-	-	182,3	195,6	188,7	0,013	0,018
							8	1,0	8,0	159,5	6,4	0,062	10,4	-	-	200,5	210,9	203,3	0,014	0,020
							9	1,0	9,0	175,6	7,2	0,049	8,3	-	-	218,7	227,0	219,0	0,014	0,020
Σ																0,0175	Σ		0,349	

Сумарна деформація осідання і просідання фундаменту становить  $S + S_{sl} = 1,75 + 34,9 = 36,65$  см, що значно перевищує гранично допустиму сумісну деформацію основи будівлі чи споруди, що дорівнює:  $S_u = 12,5$  см.



### 3. Ущільнення ґрунту важкими трамбівками.

#### Задача 3.

1) Визначити, до якої глибини необхідно ущільнити просідаючу товщу ґрунту, щоб сумісні деформації осідання і просідання ґрунту не перевищували гранично допустиму сумісну деформацію основи будівлі чи споруди, що дорівнює:  $S'_u = 12,5$  см.

2) Підібрати важку трамбівку для ущільнення просідаючої товщі.

#### Розв'язок:

Ми бачимо, що осідання ґрунтової товщі для ґрунту у природньому стані  $S = 1,75$  см. Після замочування відбувається додаткове просідання, яке в 5–9 шарах дорівнює  $S_{s,l} = 1,7 + 1,7 + 1,8 + 2,0 + 2,0 = 9,2$  см. Це означає, що коли ущільнити верхні 4-ри шари (4 м) просідаючої товщі, то сумісне осідання та просідання нижніх 5–9 шарів не перевищить значення  $S'_u = 12,5$  см ( $S + S_{s,l,5-9} = 1,75 + 9,2 = 10,95$  см  $< S'_u = 12,5$  см).

Приймаємо рішення ущільнити важкими трамбівками ґрунт товщиною  $h_s = 4$  м від підшови фундаменту ще до його влаштування, для чого:

- визначаємо необхідний діаметр трамбівки

$$d_{mp} = \frac{h_s}{k} = \frac{4,0}{1,8} = 2,2 \text{ м}, \quad (3.1)$$

де  $h_s$  – товщина ущільнення 4 м;  $k$  – коефіцієнт, який для супісків і суглинків дорівнює 1,8; для глин – 1,5;

- визначаємо масу трамбівки

$$m_{mp} = \frac{P \cdot A}{g} = \frac{20 \cdot 3,8}{9,81} = 7,8 \text{ т} \quad (3.2)$$

де  $A = \pi d_{mp}^2 / 4 = 3,14 \cdot 2,2^2 / 4 = 3,8$  м<sup>2</sup> – площа підшови трамбівки;  $g = 9,81$  г/см<sup>3</sup> – пришвидшення вільного падіння;  $P = 20$  кПа – статичний тиск трамбівки на ґрунт;

- визначаємо величину недобору ґрунту при відкопуванні котловану  $\Delta h'$ , яка становить

$$\Delta h' = \Delta h + (10-15) \text{ см}, \quad (3.3)$$

де  $\Delta h$  – орієнтовне значення пониження поверхні ґрунту при ущільненні; (10-15) см – зрізання поверхні ґрунту в котловані при його вирівнюванні.



$$\Delta h = 1,2 \cdot h_s \cdot \left(1 - \frac{\rho_d}{\rho_{ds}}\right) = 1,2 \cdot 4,0 \cdot \left(1 - \frac{1,44}{1,7}\right) = 0,73 \text{ м}, \quad (3.4)$$

де  $\rho_d$  – щільність сухого ґрунту до ущільнення

$$\rho_d = \frac{\rho}{1 + W} = \frac{1,58}{1 + 0,1} = 1,44 \text{ г/см}^3; \quad (3.5)$$

$\rho_{ds} = 1,7 \text{ г/см}^3$  – щільність сухого ґрунту після ущільнення.

Приймаємо величину недобору з урахуванням зачистки ґрунту  $\Delta h' = \Delta h + 12 \text{ см} = 0,73 + 0,12 = 0,85 \text{ м}$ . Це означає, що котлован викопуємо не на  $d = 2 \text{ м}$ , а на  $d - \Delta h' = 2 - 0,85 = 1,15 \text{ м}$  від розпланованої поверхні землі.

При ущільненні тільки з метою ліквідації властивостей просідання ґрунтів, ширина ущільненої смуги

$$b_y = b + 0,5 \cdot (b - d_{mp}) = 2,5 + 0,5 \cdot (2,5 - 2,2) = 2,65 \text{ м}. \quad (3.6)$$

Але за іншою умовою ширина ущільненої смуги за межами фундаменту повинна бути не менше, як на  $0,2 \text{ м}$  більшою за ширину фундаменту з кожної сторони, тобто

$$b_y = b + 2 \cdot 0,2 = 2,5 + 2 \cdot 0,2 = 2,9 \text{ м}. \quad (3.7)$$

Довжина ущільненої смуги  $\ell_y$

$$\ell_y = \ell + 2 \cdot 0,2 = 3,5 + 2 \cdot 0,2 = 3,9 \text{ м}. \quad (3.8)$$

Площа ущільнення ґрунту під стовпчатий фундамент  $b_y \times \ell_y = 2,9 \times 3,9 \text{ м}$ .

#### 4. Проектування основ, ущільнених ґрунтовими палями

Ущільнення ґрунтовими палями рекомендується застосовувати при товщі просідаючого ґрунту від  $10$  до  $28 \text{ м}$  з коефіцієнтом водонасичення  $S_r = 0,3 \dots 0,7$ .

Цей спосіб дозволяє ліквідувати властивості просідання на всю глибину просідаючої товщі.

Параметри глибинного ущільнення просідаючих ґрунтів ґрунтовими палями (кількість, крок, розміри паль, тощо) повинні призначатись з умови досягнення заданої щільності ґрунту основи, за якої повністю ліквідується просадка ґрунту від власної ваги і зовнішнього навантаження, а розміри ущільненого майданчика на плані – з умови забезпечення несучої здатності ущільненого масиву і підстеляючого його ґрунту при можливому просіданні оточуючого ґрунту природної структури.



В проекті ущільнення ґрунтовими палями повинні вказуватись:

- розміри ущільненої площі з їх прив'язкою до схеми розташування фундаментів;
- план розташування і діаметр ґрунтових паль;
- глибина ущільнення;
- задана щільність ґрунту в ущільненому масиві;
- спосіб влаштування свердловин і ущільнення ґрунту;
- різновид, вологість і кількість ґрунтового матеріалу, необхідного для набивки свердловин;
- спосіб доущільнення або глибина зрізання буферного шару.

Провадження робіт складається з двох операцій: влаштування свердловин за рахунок витіснення ґрунту в боки під час пробивки їх ударним снарядом з наконечником та заповнення свердловин місцевим ґрунтом з заданої щільністю. Ці роботи виконують з поверхні ґрунту або з дна котлованів. Розміри котлованів повинні бути більшими розмірів площі ущільнення на 3 м в кожний бік.

Відмітка дна котлована призначається з урахуванням подальшого часткового зрізання буферного шару з розрахунку, що залишена товща не перевищуватиме 1,5 м. Часткове зрізання буферного шару виконується з недобором на 20 см до проектної позначки закладення фундаментів. Доущільнення буферного шару виконується важкими трамбівками на глибину не менше 1,5 м.

Площа ущільненої основи повинна перевищувати площу підшови фундаменту за рахунок смуги, що виступає за межі фундаменту по периметру на величину, що дорівнює:

а) в ґрунтових умовах I-го типу за просіданням –  $0,2 \cdot b$ , але не менше 0,8 м, а для окремо розташованих споруд з високим рівнем розташування центру ваги (димові труби, водонапірні вежі, тощо) – не менше  $0,3 \cdot b$  (де  $b$  – менша сторона прямокутного або діаметр круглого фундаменту, м);

б) в ґрунтових умовах II-го типу за просіданням – 0,2 величини просідаючої товщі ґрунту, м.

Ширина ущільненої площі на майданчиках з I-м типом ґрунтових умов за просіданням має бути не меншою 0,2 глибини ущільнення, а з II-м типом – не меншою 0,5 величини просідаючої товщі.

**Задача. 4.** Необхідно визначити основні параметри основи, ущільненої ґрунтовими палями, для 14-ти поверхового житлового

будинку, зведеного на суцільній залізобетонній плиті розміром в плані 20x40 м. Низ підосви суцільної плити (глибина закладання фундаменту)  $d=1,5$  м. Геологічні умови прийняті з попередніх прикладів.

**Розв’язок:**

1) Приймаємо, що буріння свердловин буде проводитись ударним способом з поверхні ґрунту. Діаметр свердловин 50 см.

2) Визначаємо відстань між центрами свердловин (ґрунтових паль) для верхнього шару (ІГЕ-1) за виразом

$$\ell = 0,95 \cdot d \cdot \sqrt{\frac{\rho_{ds}}{\rho_{ds} - \rho_d}} = 0,95 \cdot 0,5 \cdot \sqrt{\frac{1,65}{1,65 - 1,44}} = 1,33 \text{ м}, \quad (4.1)$$

де  $d=0,5$  м – діаметр свердловини;  $\rho_{ds}=1,65$  г/см<sup>3</sup> – щільність сухого ґрунту після ущільнення;  $\rho_d=1,44$  г/см<sup>3</sup> – щільність сухого ґрунту до ущільнення (див. 3.5).

Примітка: 1. На майданчиках з 1-м типом ґрунтових умов за просіданням, з умов достатності ущільнення, щільність сухого ґрунту після ущільнення повинна бути не меншою  $\rho_{ds}=1,65$  г/см<sup>3</sup>.

2. На майданчиках з другим типом ґрунтових умов за просіданням в межах верхнього шару на глибину  $H_s/2$  -  $\rho_{ds}=1,65$  г/см<sup>3</sup>, а нижче глибини  $H_s/2$  -  $\rho_{ds}=1,70$  г/см<sup>3</sup>, де  $H_s$  – товщина просідаючих ґрунтів.

3) Визначаємо відстані між центрами свердловин для нижнього шару (ІГЕ-2):

$$\ell = 0,95 \cdot d \cdot \sqrt{\frac{\rho_{ds}}{\rho_{ds} - \rho_d}} = 0,95 \cdot 0,5 \cdot \sqrt{\frac{1,7}{1,7 - 1,45}} = 1,24 \text{ м}, \quad (4.2)$$

де  $\rho_d = \frac{\rho}{1+W} = \frac{1,61}{1+0,11} = 1,45$  г/см<sup>3</sup> - щільність сухого ґрунту ІГЕ-2.

4) Приймаємо відстань між центрами свердловин  $\ell=1,25$  м і визначаємо відстані між рядами ґрунтових паль при їх шаховому розташуванні

$$\ell = \ell' \cdot \sqrt{\frac{3}{4}} = 1,25 \cdot \sqrt{\frac{3}{4}} = 1,08 \text{ м} \quad (4.3)$$

5) Визначаємо ширину смуги ущільнення  $b'$  по периметру фундаменту, яка повинна виступати за межі фундаменту в ґрунтах II-го типу ґрунтових умов за просіданням на величину  $0,2 \cdot H_s$ .

$$b' = 0,2 \cdot H_s = 0,2 \cdot 11 = 2,2 \text{ м} \quad (4.4)$$

6) Розміри ущільненого майданчика



$$b_s = b + 2 \cdot b' = 20 + 2 \cdot 2,2 = 24,4 \text{ м}; \quad (4.5)$$

$$\ell_s = \ell + 2 \cdot b' = 40 + 2 \cdot 2,2 = 44,4 \text{ м}. \quad (4.6)$$

Примітка: В ґрунтах II-го типу за просіданням ширина  $b_s$  має бути не меншою за  $0,5 \cdot H_s$ . У нашому випадку ця умова виконується.

7) Визначаємо кількість ґрунтових паль в ряду  $n'$  по довжині фундаменту, кількість рядів  $n''$  і кількість паль вцілому  $n$ .

$$n' = \frac{\ell_s}{\ell} + 1 = \frac{44,4}{1,25} + 1 = 36,5 \text{ паль}. \quad (4.7)$$

Приймаємо  $n' = 37$  паль.

$$n'' = \frac{b_s}{\ell'} + 1 = \frac{24,4}{1,08} + 1 = 23,6 \text{ рядів}. \quad (4.8)$$

Приймаємо  $n'' = 24$  ряда.

Загальна кількість ґрунтових паль

$$n = n' \cdot n'' = 37 \times 24 = 888 \text{ паль}. \quad (4.9)$$

8) Приймаємо рішення наповнити свердловини матеріалом ПГЕ-1.

9) Визначаємо масу ґрунту  $m$  оптимальної вологості для заповнення 1 м свердловини за виразом

$$m = k_g \cdot A \cdot \rho_{ds} \cdot (1 + W_0) = 1,4 \cdot 0,196 \cdot 1,75 \cdot (1 + 0,11) = 0,528 \text{ т}, \quad (4.10)$$

де  $k_g$  – коефіцієнт, що враховує збільшення діаметра ґрунтової пали при ущільненні засипаного ґрунту. Для суглинків і глин  $k_g = 1,1$ , для супісків –  $k_g = 1,4$ ;

$A$  – площа поперечного перерізу свердловини

$$(A = \pi \cdot d^2 / 4 = 3,14 \cdot 0,5^2 / 4 = 0,196 \text{ м}^2);$$

$\rho_{ds} = 1,75 \text{ г/см}^3$  – щільність сухого ґрунту після ущільнення в самій свердловині;

$W_0$  – оптимальна вологість ґрунту засипки ( $W_0 = W_p - (1\% - 3\%)$ ). При  $W_p = 12\%$ , приймаємо  $W_0 = 11\%$ .

10) Для заповнення однієї свердловини необхідно ґрунту масою

$$m' = m \cdot (H_s - 1) = 0,528 \cdot (11 - 1) = 5,28 \text{ т}. \quad (4.11)$$

11) Для ущільнення основи будинку

$$M = m' \cdot n = 5,28 \cdot 888 = 4688,6 \text{ т}. \quad (4.12)$$

12) Визначаємо товщину буферного шару ґрунту від поверхні, де ґрунт буде недоущільненим

$$h_0 = k_0 \cdot d = 4 \cdot 0,5 = 2,0 \text{ м}, \quad (4.13)$$



де  $k_{\sigma}$  – коефіцієнт пропорційності, за дослідними даними приймається для супісків 4,0, для суглинків 5,0, для глин 6,0.

13) При глибині закладання фундаменту  $d=1,5$  м і товщині буферного шару  $h_{\sigma}=2,0$  м буде 0,5 м недоуцільненого ґрунту, який потрібно доуцільнити важкими трамбівками або котками. Приймаємо рішення викопати котлован на глибину 1,3 м не добираючи до проектної відмітки на величину  $\Delta h$ , що дорівнює 0,2 м – величині зниження поверхні ґрунту при доуцільненні важкою трамбівкою залишеної частини  $h_{\sigma}$  буферного шару.

14) Виходячи з вимог, що ущільнюватись має товща ґрунту не менше 1,5 м, підбираємо трамбівку для ущільнення (див. приклад 3).

15) Визначаємо відстані між осями крайніх рядів паль по довжині і по ширині будинку.

$$\left. \begin{aligned} L_{\text{довж}} &= \ell \cdot (n' - 1) = 1,25 \cdot (37 - 1) = 45,0 \text{ м} \\ L_{\text{шир}} &= \ell' \cdot (n'' - 1) = 1,08 \cdot (24 - 1) = 24,84 \text{ м} \end{aligned} \right\} \quad (4.14)$$

Технологічна карта виконання робіт по ущільненню ґрунтів ґрунтовими палями наведена на рис. 4.1.

## 5. Пальові фундаменти на просідаючих ґрунтах

Згідно з ДБН В.2.1 – 10 – 2009, зміна 1. „Основи та фундаменти споруд” на територіях з просідаючими ґрунтами для споруд I-II класів можна застосовувати при прорізанні палями усіх просідаючих шарів. При цьому нижні кінці паль мають бути заглиблені в скельні ґрунти, піски щільні або середньої щільності, або глинисті ґрунти з показником текучості у водонасиченому стані  $I_L < 0,6$  для усіх видів паль в ґрунтових умовах I-го типу за просіданням,  $I_L < 0,4$  для забивних паль і  $I_L < 0,2$  для буронабивних паль при  $S_{slg} \leq S_u$  в ґрунтових умовах II-го типу за просіданням і  $I_L < 0,2$  для забивних паль та  $I_L \leq 0$  для буронабивних паль при  $S_{slg} > S_u$  в ґрунтових умовах II-го типу (де  $S_{slg}$  – просідання ґрунту від власної ваги).

Примітка: Якщо пробити палями тверді у природному стані просідаючі ґрунти важко, або неможливо, то палі забивають у попередньо пробурені свердловини діаметром на 50 мм меншим ніж діаметр або сторона поперечного перерізу палі. Лідерні свердловини бурять лише в межах просідаючої товщі  $H_s$ .

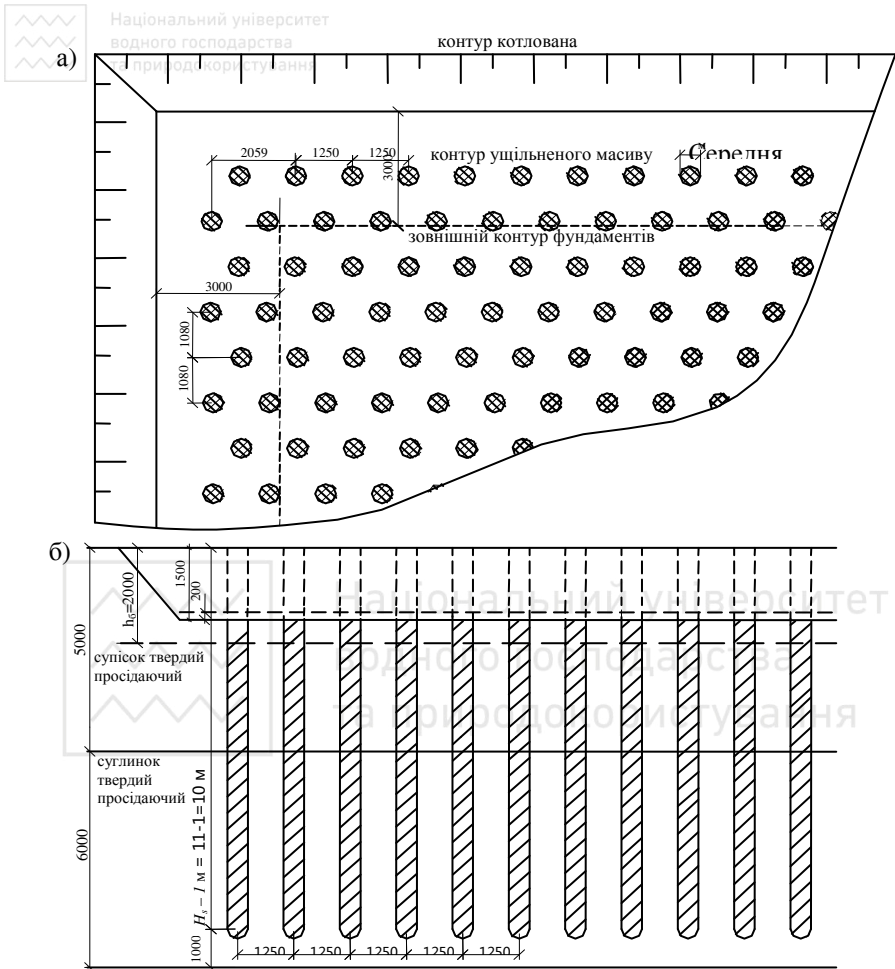


Рис.4.1. Технологічна карта виконання робіт по ущільненню ґрунтів ґрунтовими пальями  
а – фрагмент плану ґрунтових паль; б – розріз ущільненого масиву і котловану

**Задача 5.** На території, відведеній під забудову від поверхні ґрунту до глибини 11 м залягають два ПГЕ, характеристики яких наведені в прикладі №1 (умовно прийнявши, що ці ґрунти відносяться до I-го типу за просіданням). Нижче до глибини 17 м залягає глинистий ґрунт який не володіє властивостями просідання і має такі характеристики:  $\rho_s=2,71 \text{ г/см}^3$ ;  $\rho=1,85 \text{ г/см}^3$ ;  $W=15\%$ ;  $W_L=40\%$ ;  $W_p = 15\%$ . Планується влаштувати пальовий фундамент



під 5-ти поверховий житловий будинок (2-й клас капітальності).

Глибина закладання ростверка  $d=1,5$  м.

Примітка: В РГР ПЕ-3 слід приймати для варіантів з парним номером пісок середньої крупності, щільний; для варіантів з непарним числом – пісок крупний, середньої щільності.

### Розв'язок:

Згідно з [2] розрахунок паль в ґрунтових умовах I-го типу за просіданням виконується як і звичайних умовах, але з урахуванням того, що розрахунковий опір ґрунтів під нижніми кінцями паль  $R$  і на бічній поверхні  $f$  повинні визначатись:

а) якщо можливе замочування ґрунту – то при повному водонасиченні ґрунту розрахункові значення  $R$  і  $f$  слід визначати за показником текучості, визначеному за виразом:

$$I_L = \frac{0,9 \cdot e \cdot \rho_w - W_p}{W_L - W_p} \cdot \frac{\rho_s}{\rho_s}, \quad (5.1)$$

де  $e$  – коефіцієнт пористості ґрунту в природному стані;  $\rho_w=1,0$  г/см<sup>3</sup> – густина води;

$\rho_s$  – щільність твердих частинок ґрунту;  $W_L, W_p$  – межі пластичності ґрунту.

Якщо за формулою (5.1)  $I_L < 0,4$ , слід приймати  $I_L = 0,4$ .

б) якщо замочування ґрунту неможливе, то табличні значення  $R$  і  $f$  визначають при  $I_L$  у природному стані з урахуванням того, що  $W < W_p$ , приймається  $W = W_p$ .

Розв'язок виконуємо наступним чином:

1) Приймаємо рішення нижні кінці паль занурити в ПЕ-3 непросідаючий глинистий ґрунт. Для цього визначаємо показник текучості для ПЕ-3 у водонасиченому стані

$$I_L = \frac{0,9 \cdot e \cdot \rho_w - W_p}{W_L - W_p} = \frac{0,9 \cdot 0,68 \cdot 1 - 0,15}{0,4 - 0,15} = 0,3, \quad (5.2)$$

де  $e = \rho_s / \rho \cdot (1 + W) - 1 = 2,71 / 1,85 \cdot (1 + 0,15) - 1 = 0,68$ .

Ґрунт ПЕ-3 у водонасиченому стані має показник текучості  $I_L = 0,3$ , а це задовільняє умову, що при проектуванні палевих фундаментів в ґрунтах I-го типу за просіданням палі мають бути зануреними нижніми кінцями в ґрунт з  $I_L \leq 0,6$ .



2) Приймаємо рішення використати в проекті забивні залізобетонні призматичні палі квадратного перерізу. Забивку паль провести дизель-молотом.

3) Глибину котлована призначаємо з глибини закладання ростверка ( $d=1,5$  м).

4) Приймаємо жорстке заземлення паль в ростверку (це пов'язано з просідаючими ґрунтами) тобто паля виступатиме над дном котлована на 0,5 м.

5) Вирішуємо занурити палю в ПГЕ-3 на 2 м. Тоді паля матиме довжину 12 м. Поперечний переріз палі беремо 35х35 см згідно з ДСТУ Б В.2.6.-65:2008 „Палі залізобетонні”. Отже марка палі ПН 120.35.

6.) За формулою (Н.2.1 [2]), з урахуванням вище вказаних вимог, визначаємо несучу здатність палі

$$F_d = \gamma_c \cdot (\gamma_{cR} \cdot R \cdot A + u \cdot \sum \gamma_{cf,i} \cdot f_i \cdot h_i), \quad (5.3)$$

де  $\gamma_c$  – коефіцієнт умов роботи палі в ґрунті  $\gamma_c=1,0$ ;  $\gamma_{cR}$  – коефіцієнт умов роботи ґрунту під нижнім кінцем палі, визначається з табл. Н.2.3 [2]. При забивці паль дизель-молотом  $\gamma_{cR}=1$ ;  $R$  – розрахунковий опір під нижнім кінцем палі. Визначається з табл. Н.2.1 [2] або табл. Г додатку. На глибині 13 м від поверхні землі в глинистому ґрунті з  $I_L=0,4$  величина  $R=2700$  кПа;

Примітка: ґрунт ПГЕ-3 у водонасиченому стані має  $I_L=0,3$ , але ми враховуємо вимоги [2], що коли  $I_L<0,4$ , то приймаємо  $I_L=0,3$ ;

$A=0,35 \times 0,35=0,1225$  м<sup>2</sup> – площа поперечного перерізу палі;  
 $u=4 \cdot 0,35=1,4$  м – периметр поперечного перерізу палі;

$\sum \gamma_{cf,i} \cdot f_i \cdot h_i$  – розрахунковий опір ґрунту на бічній поверхні палі по усій її довжині в ґрунті. Визначається в табличній формі (табл. 5.1).

Пояснення до таблиці:

а) ґрунтову товщу по довжині палі ділимо на розрахункові шари товщиною  $h_i \leq 2$  м;

б) Визначаємо відстані від поверхні землі до середини розрахункових шарів  $\ell_i$ ;

в) Визначаємо показники текучості ПГЕ-1 та ПГЕ-2 за умови повного водонасичення:

$$\text{Для ПГЕ - 1: } I_L = \frac{0,9 \cdot e \cdot \rho_w - W_p}{W_L - W_p} = \frac{0,9 \cdot 0,88 \cdot 1}{2,7} - 0,12 = 2,89; \quad (5.4)$$



$$\text{Для ПГЕ - 2: } I_L = \frac{0,9 \cdot e \cdot \rho_w - W_p}{W_L - W_p} = \frac{0,9 \cdot 0,85 \cdot 1}{0,27 - 0,15} = 1,12; \quad (5.5)$$

Таблиця 5.1

Розрахункова схема-таблиця до визначення несучої здатності палі

Назва ПГЕ	Товщина ПГЕ, м		№ розрахункового шару	Товщина розрахункового шару, $h_i$ м	Середня глибина залягання розрахункового шару, м	$f_i$ , кПа	$\gamma_{cfi}$	$h_i f_i \gamma_{cfi}$ , кПа·м
супісок твердий просідаючий ( $I_L > 1$ у водонасиченому стані)	5,0			1	2,0	2,5	0	1,0
		2		1,5	4,25	0	1,0	—
суглинок твердий просідаючий ( $I_L > 1$ у водонасиченому стані)	6,0	3		2,0	6,0	0	1,0	—
		4		2,0	8,0	0	1,0	—
		5		2,0	10,0	0	1,0	—
глина напівтверда ( $I_L = 0,4$ у водонасиченому стані)	6,0	6		2,00	12,00	35,6	1,0	71,2
		Σ						

г) З табл. Н.2.2 [2] або табл. Д додатку визначаємо  $f_i$  для кожного розрахункового шару залежно від  $\ell_i$  та  $I_L$ . Для ПГЕ-1 та ПГЕ-2 приймаємо значення  $f_i = 0$ , тому що в цих ґрунтах у водонасиченому стані  $I_L > 1,0$ , для ПГЕ-3, в якого у водонасиченому стані  $I_L = 0,3$ , приймаємо  $I_L = 0,4$  згідно з вимогами [2];

д)  $\gamma_{cfi}$  – коефіцієнти умов роботи ґрунту на бічній поверхні палі, визначаються з табл. Н.2.3 [2]. При забивці паль дизель-молотом  $\gamma_{cfi} = 1$ ;

е) Знаходимо добутки  $h_i \cdot f_i \cdot \gamma_{cfi}$  та їх суму.

Тоді несуча здатність палі

$$F_d = 1,0 \cdot (1,0 \cdot 2700 \cdot 0,1225 + 1,4 \cdot 71,2) = 430,43 \text{ кН}. \quad (5.6)$$

7.) Визначаємо допустиме навантаження на палю

$$P = \frac{F_d}{\gamma_k} = \frac{430,43}{1,4} = 307 \text{ кН}. \quad (5.7)$$

**Задача 6.** На території, відведеній під забудову на глибину 11 м залягають просідаючі ґрунти II-го типу за просіданням з характеристиками наведеними в прикладі №1. Нижче до глибини



18 м залягає пісок крупний щільний. Глибина котлована під фундамент  $d=1,5$  м. Допустиме осідання будівлі  $S_u=10$  см. Можливе замочування ґрунту зверху.

Примітка: В РГР ІГЕ-3 слід приймати для варіантів з парним номером пісок середньої крупності, щільний; для варіантів з непарним числом – пісок крупний, середньої щільності.

### Пояснення

Згідно з [2] палі за несучою здатністю ґрунтів основи в умовах II-го типу за просіданням слід розраховувати виходячи з умови

$$P = N \leq \frac{F_d}{\gamma_k} - \gamma_c \cdot P_n, \quad (6.1)$$

де  $P=N$  – розрахункове допустиме навантаження на палю;  $F_d$  – несуча здатність палі, визначається в умовах повного водонасичення ґрунту нижче глибини  $h_{sl}$ ;  $\gamma_k=1,4$  – коефіцієнт надійності при визначенні несучої здатності палі розрахунками;  $\gamma_c$  – коефіцієнт умов роботи. При  $S_{slg} \leq 5$  см  $\gamma_c=0$ ; при  $S_{slg} \geq 2 \cdot S_u$  –  $\gamma_c=0,8$ ; для проміжних значень  $\gamma_c$  визначається лінійною інтерполяцією;  $S_{slg}$  – просідання ґрунту від власної ваги. (у кого в прикладі  $S_{slg} \leq 5$  см, приймає  $S_{slg}=10$  см);  $P_n$  – негативне тертя в просідаючій товщі.

Примітки: 1. Значення  $P_n$  слід визначати як для повністю насиченого ґрунту у випадку замочування зверху. Якщо замочування ґрунту знизу (при піднятті рівня підземної води)  $P_n$  визначається для ґрунту природної вологості.

2. За міцністю матеріалу палі мають бути розраховані на навантаження  $N+P_n=(P+P_n)$ .

Значення сил негативного тертя  $P_n$  приймається рівним найбільшому граничному опору палі довжиною  $h_{sl}$  при випробуванні палі на висмикування в водонасиченому ґрунті і в ґрунті природної вологості. До проведення таких випробувань  $P_n$  дозволяється визначати за формулою

$$P_n = u \cdot \sum_0^{h_{sl}} \tau_i \cdot h_i, \quad (6.2)$$

де  $u$  – периметр поперечного перерізу палі;  $h_{sl}$  – розрахункова глибина, до якої виконують підсумовування сил бокового тертя просідаючих шарів, приймається рівною глибині, де значення просідання ґрунту  $S_{sl}=5$  см;  $h_i$  – товщина  $i$ -го шару просідаючого



грунту, осідаючого при замочуванні і контактуючого з бічною поверхнею палі;  $\tau_i$  – розрахунковий опір кПа, визначається до глибини  $h=6$  м за виразом

$$\tau_i = \zeta \cdot \sigma_{zg} \cdot \operatorname{tg} \varphi_I + c_I, \quad (6.3)$$

де  $\zeta=0,7$  – коефіцієнт бокового тиску;  $\varphi_I$  і  $c_I$  – розрахункові усереднені значення кута внутрішнього тертя і питомого зчеплення по глибині  $h_{sl}$ . При глибині  $6 \text{ м} < h \leq h_{sl}$  значення  $\tau_i$  приймаються постійними і рівними  $\tau_i$  на глибині 6 м;  $\sigma_{zg}$  – вертикальні напруження від власної ваги водонасиченого ґрунту в середині розрахункових шарів.

Розв'язок виконуємо наступним чином:

1) Приймаємо рішення використати в проекті забивні залізобетонні призматичні палі квадратного перерізу.

2) Забивка палей буде проводитись дизель-молотом.

3) Приймаємо жорстке зацімлення палей у ростверки, тобто залишаємо верх палей на 0,5 м вище дна котлована.

4) Палі будуть занурені в ПГЕ-3 (пісок крупний щільний) на глибину 1 м. Загальна довжина палей становить 11 м. Приймаємо розміри поперечного перерізу палей 30x30 см. Отже марка палей буде ПН 110.30.

5) Визначаємо несучу здатність палей за формулою (Н.2.1 [2]) як для забивної висячої палей в умовах повного водонасичення ґрунту

$$F_d = \gamma_c \cdot (\gamma_{cR} \cdot R \cdot A + u \cdot \sum \gamma_{cf,i} \cdot f_i \cdot h_i) = \quad (6.4)$$

$$= 1,0 \cdot (1,0 \cdot 12640 \cdot 0,09 + 1,2 \cdot 87,2) = 1242,2 \text{ кН},$$

де  $\gamma_c=1,0$ ;  $\gamma_{cR}=1$ ;  $A=0,3 \times 0,3=0,09 \text{ м}^2$ ;  $R=(7900+7900 \cdot 0,6)=12640 \text{ кПа}$  – з урахуванням того, що в щільних пісках значення  $R$  необхідно збільшити на 60%;  $u=4 \cdot 0,3=1,2 \text{ м}$ ;  $\sum \gamma_{cf,i} \cdot f_i \cdot h_i=87,2 \text{ кН}$  – визначається в табличній формі за умови повного водонасичення (табл. 5.2).

Пояснення до таблиці:

а) З прикладу №1 визначаємо питому вагу ґрунту у водонасиченому стані  $\gamma_{sat}=21,9 \text{ кН/м}^3$  по глибині  $h_{sl}$ ;

б) визначаємо напруження від власної ваги ґрунту в серединах розрахункових шарів по глибині  $h_{sl}$  за виразом  $\sigma_{zg} = \bar{\gamma}_{sat} \cdot \ell_i$ ,

де  $\bar{\gamma}_{sat}$  – усереднене значення питомої ваги ґрунтів до глибини  $\ell_i$ ;



в) визначаємо розрахунковий опір за формулою (6.3).  $\varphi_I$  і  $c_I$  – розрахункові усереднені значення кута внутрішнього тертя і питомого щеплення по глибині  $h_{sl}$ . У прикладі №1 нормативні значення міцнісних характеристик  $\varphi_n=23^\circ$  і  $c_n=15$  кПа. Визначаємо розрахункові значення цих характеристик за I-ю групою граничних станів

$$tg \varphi_I = \frac{tg \varphi_n}{1,15} = \frac{tg 23^\circ}{1,15} = \frac{0,424}{1,15} = 0,368; c_I = \frac{c_n}{1,5} = \frac{15,0}{1,5} = 10,0 \text{ кПа};$$

Тоді для першого розрахункового шару

$$\tau_1 = 0,7 \cdot 54,75 \cdot 0,368 + 10 = 24,95 \text{ кПа};$$

для другого розрахункового шару

$$\tau_2 = 0,7 \cdot 93,08 \cdot 0,368 + 10 = 33,98 \text{ кПа};$$

г) Визначаємо добутки  $\tau_i \cdot h_i$  та їх суму.

Таблиця 5.2

Розрахункова схема-таблиця до визначення несучої здатності палі

№ ПГЕ	Назва ПГЕ	Говщина ПГЕ, м	№ розрахункового шару	$h_p$ , м	$\ell_i$ , м	$f_i$ , кПа	$\gamma_{efi}$	$h_i f_i \gamma_{efi}$ , кПа·м	$\gamma_{sat}$ , кН/м <sup>3</sup>	$\sigma_{zg}$ , кПа	$\tau_i$ , кПа	$\tau_i \cdot h_p$ , кН/м
			1	2	3	4	5	6	7	8	9	10
ПГЕ-1	супісок твердий просідаючий	5,0										
			1	2,0	2,5	0,0	1,0	0,0	21,9	54,75	24,95	49,9
			2	1,5	4,25	0,0	1,0	0,0	21,9	93,08	33,98	50,97
ПГЕ-2	суглинок твердий просідаючий	6,0										
			3	2,0	6,0	0,0	1,0	0,0	—	—	—	—
			4	2,0	8,0	0,0	1,0	0,0	—	—	—	—
			5	2,0	10,0	0,0	1,0	0,0	—	—	—	—
ПГЕ-3	Пісок крупний щільний	7,0										
			6	1,0	11,50	67,1 87,2	1,0	87,2	—	—	—	—
$\Sigma$								87,2	$\Sigma$			100,87

б) Визначаємо допустиме навантаження на палю за виразом (6.1)  $\gamma_k=1,4$  (несуча здатність палі визначається розрахунком);  $\gamma_c=0,288$  – коефіцієнт умов роботи при  $S_{slg}=10,4$  см; Негативну силу тертя  $P_n$  визначаємо за виразом

$$P_n = u \cdot \sum_0^{h_{sl,i}} \tau_i \cdot h_{sl,i}, \quad (6.5)$$



де  $h_{sl} = 3$  з прикладу №1 дорівнює 5 м, бо нижче цієї глибини сумарне просідання шарів становить  $(0+2,4+2,6)=5$  см. Значення  $\sum_0^{h_{sl,i}} \tau_i \cdot h_{sl,i}$  визначається в табличній формі (див. табл. 5.2, пункти 7-10).

Негативна сила тертя

$$P_n = u \cdot \sum_0^{h_{sl}} \tau_i \cdot h_i = 1,2 \cdot 100,87 = 121,04 \text{ кН}.$$

Допустиме навантаження на палю

$$P = N \leq \frac{F_d}{\gamma_k} - \gamma_c \cdot P_n = \frac{1242,2}{1,4} - 0,288 \cdot 121,04 = 852,43 \text{ кН}. \quad (6.6)$$

7) Нами було визначене допустиме навантаження на палю за властивостями ґрунтів основи. Необхідно ще визначити допустиме навантаження на палю за властивостями матеріалу.

За міцністю матеріалу перевірку виконуємо за виразом

$$P_u = P + P_n = 852,43 + 121,04 = 973,47 \text{ кН}. \quad (6.7)$$

Значення  $P_u$  порівнюємо з допустимою міцністю стовбура палі. Міцність стовбура палі за табл. 5.3 становить 1000 кН, це означає, що стовбур здатен витримати стискаюче навантаження 973,47 кН.

Таблиця 5.3.

Розрахункові навантаження, допустимі на палю, за міцністю її стовбура (орієнтовні)

Забивні квадратного перерізу за ДСТУ Б В.2.6.-65:2008		
Переріз палі, см	Довжина, м	Міцність стовбура, кН
25×25	3,0÷6,0	650
30×30	3,0÷12,0	1000
35×35	4,0÷16,0	1850
40×40	4,0÷18,0	2000

8) Порівнявши  $P$  та  $P_u$  для подальших розрахунків приймаємо менше з них. Приймаємо  $P=823$  кН.

## 6. Влаштування піщаних подушок

Піщані подушки є одним з найпростіших видів штучних основ. При їх влаштуванні слабкі ґрунти, а це дуже стисливі ґрунти (мули, торфи, заторфовані ґрунти, зв'язні ґрунти в текучо-пластичному



стані, насипні ґрунти тощо) замінюють піском крупним або середньої крупності, який вкладають із заданою щільністю. Застосування піщаних подушок сприяє зменшенню і вирівнюванню осідань споруд і більш швидкому їх припиненню.

При влаштуванні подушок пісок відсипають в підготовлений котлован і ущільнюють пошарово або зразу в межах всієї товщини подушки залежно від виду ущільнюючого механізму, а це можуть бути трамбівки, вібраційні механізми, котки тощо. Ущільнення проводять так, щоб щільність сухого ґрунту  $\rho_d \geq 1,65 \text{ г/см}^3$ ;  $e \leq 0,65$ .

Піщану подушку не рекомендується застосовувати якщо можлива суфозія (вимивання) піску з тіла подушки, тобто там, де є сталий потужний потік ґрунтової води.

**Задача №7.** Визначити розміри піщаної подушки під фундамент колони, яка передає такі навантаження  $N_{II}=1600 \text{ кН}$ ;  $M_{II}=100 \text{ кН}\cdot\text{м}$ ;  $F_{h,II}=30 \text{ кН}$ . На майданчику до глибини 11 м залягає суглинок текучопластичний з  $\gamma_{II}=19 \text{ кН/м}^3$ ;  $\varphi_{II}=15^\circ$ ;  $c_{II}=14 \text{ кПа}$ ;  $I_L=0,9$ . Підземна вода знаходиться на глибині 1,6 м від поверхні землі. Нижче рівня підземної води з урахуванням архімедової сили питома вага ґрунту  $\gamma_{sb,II}=9,8 \text{ кН/м}^3$ .

Глибина закладання фундаменту за конструктивними особливостями  $d=1,5 \text{ м}$ .

Для влаштування піщаної подушки буде використаний пісок середньої крупності з місцевого кар'єру, розташованого на відстані 35 км. Пісок буде ущільнений до середньої щільності і після ущільнення матиме такі характеристики:  $\gamma_{II,n}=20 \text{ кН/м}^3$ ;  $\gamma_{sb,II,n}=10 \text{ кН/м}^3$ ;  $\varphi_{II,n}=35^\circ$ ;  $c_{II,n}=0 \text{ кПа}$ .

#### Розв'язок:

1) У першому наближенні визначаємо площу підшови фундаменту за виразом:

$$A = \frac{N_{II}}{R_0 - \bar{\gamma} \cdot d} = \frac{1600}{400 - 20 \cdot 1,5} = 4,32 \text{ м}^2, \quad (7.1)$$

де  $R_0=400 \text{ кПа}$  – табличне значення розрахункового опору ґрунту піщаної подушки за [3], табл. Е-2;  $\bar{\gamma}=20 \text{ кН/м}^3$  – середнє значення питомої ваги матеріалу фундаменту і ґрунту на обрізах фундаменту;  $d=1,5 \text{ м}$  – глибина закладання фундаменту.

2) Визначаємо розміри підшови фундаменту:



$$\left. \begin{aligned} b &= \sqrt{\frac{A}{\eta}} = \sqrt{\frac{4,32}{1,3}} = 1,82 \text{ м} \\ \ell &= \frac{A}{b} = \frac{4,32}{1,82} = 2,35 \text{ м} \end{aligned} \right\} \quad (7.2)$$

де  $\eta=1,2-1,4$  - коефіцієнт, що враховує позациентрові навантаження на фундамент.

3) Приймаємо рішення влаштувати фундаменти в інвентарних опалубках, взявши розміри підшви за серією 1.412 кратні модулю 300 мм. Приймаємо  $b=1,8$  м і  $\ell=2,4$  м. Площа підшви такого фундаменту  $A=1,8 \cdot 2,4 = 4,32 \text{ м}^2$ .

4) Так, як фундамент позациентрово навантажений, перевіряємо достатність розмірів фундаменту за трьома умовами

$$P \leq R$$

$$P_{\max} \leq 1,2 \cdot R \quad (7.3)$$

$$P_{\min} > 0$$

Середній тиск під підшовою фундаменту

$$P = \frac{N_{II}}{A} + \bar{\gamma} \cdot d = \frac{1600}{4,32} + 20 \cdot 1,5 = 400,4 \text{ кПа} \quad (7.4)$$

Розрахунковий опір ґрунту піщаної подушки за формулою Е.1 додатку Е [3].

$$R = \frac{\gamma_{c1} \gamma_{c2}}{k} [M_{\gamma} k_z b \gamma_{II,n} + M_q d \gamma'_{II} + M_c c_{II,n}] = \frac{1,4 \cdot 1,0}{1,0} \times$$

$$\times [1,68 \cdot 1,0 \cdot 1,8 \cdot 11,1 + 7,71 \cdot 1,5 \cdot 19 + 9,58 \cdot 0] = 354,6 \text{ кПа} \quad (7.5)$$

$$P=400,4 \text{ кПа} > R=354,6 \text{ кПа}.$$

Примітка: У формулі Е.1 [3].  $\gamma_{II}$  – середньовизначена питома вага ґрунту нижче підшви фундаменту в межах шару товщиною  $0,5 \cdot b$ . В нашому випадку при  $b=1,8$  м.

$$\gamma_{II,n} = \frac{\gamma_{II,n} \cdot 0,1 + \gamma_{sb,II,n} \cdot 0,8}{0,5 \cdot b} = \frac{20 \cdot 0,1 + 10 \cdot 0,8}{0,5 \cdot 1,8} = 11,1 \text{ кН/м}^3 \quad (7.6)$$

Перша умова не виконується. Тому, без перевірки інших 2-х призначаємо більші розміри фундаменту. Приймаємо  $b=2,1$  м і  $\ell=2,4$  м. Площа підшви такого фундаменту  $A=2,1 \cdot 2,4 = 5,04 \text{ м}^2$ .

5) Визначаємо розрахунковий опір ґрунту піщаної подушки з новими розмірами підшви фундаменту.



$$R = \frac{\gamma_{c1}\gamma_{c2}}{k} [M_{\gamma} k_z b \gamma_{II} + M_q d \gamma'_{II} + M_{c,II}] = \frac{1,4 \cdot 1,0}{1,0} \times \quad (7.7)$$

$$\times [1,68 \cdot 1,0 \cdot 2,1 \cdot 10,95 + 7,71 \cdot 1,5 \cdot 19 + 9,58 \cdot 0] = 361,7 \text{ кПа},$$

$$\text{де } \gamma_{II,n} = \frac{\gamma_{II,n} \cdot 0,1 + \gamma_{sb,II,n} \cdot 0,8}{0,5 \cdot b} = \frac{20 \cdot 0,1 + 10 \cdot 0,95}{0,5 \cdot 2,1} = 10,95 \text{ кН/м}^3. \quad (7.8)$$

Перевіряємо виконання 3-х умов

$$P = \frac{N_{II}}{A} + \bar{\gamma} \cdot d = \frac{1600}{5,04} + 20 \cdot 1,5 = 347 \text{ кПа}. \quad (7.9)$$

Перша умова  $P=347\text{кПа} < R=361,7 \text{ кПа}$  виконується.

Друга умова

$$P_{\max} = P + \frac{\sum M_{II}}{W} = 347 + \frac{100 + 30 \cdot 1,5}{2,016} = 418 \text{ кПа} < \quad (7.10)$$

$$< 1,2 \cdot R = 1,2 \cdot 361,7 = 434,1 \text{ кПа},$$

де  $\sum M_{II} = M_{II} + F_h \cdot d = 100 + 30 \cdot 1,5 = 145 \text{ кН} \cdot \text{м}$ ;

$W = b \cdot \ell^2 / 6 = 2,1 \cdot 2,4^2 / 6 = 2,016 \text{ м}^3$ , умова виконується.

Третя умова

$$P_{\min} = P - \frac{\sum M_{II}}{W} = 347 - \frac{100 + 30 \cdot 1,5}{2,016} = 275 \text{ кПа} > 0. \quad (7.11)$$

Умова виконується.

Усі три умови виконані, отже розміри підшови фундаменту відносно характеристик ґрунту піщаної подушки підібрані вірно.

7) Визначаємо напруження від власної ваги ґрунту на рівні підшови фундаменту

$$\sigma_{zg,0} = \gamma'_{II} \cdot d = 19 \cdot 1,5 = 28,5 \text{ кПа}. \quad (7.12)$$

8) Визначаємо додатковий тиск на рівні підшови фундаменту

$$P_0 = P - \sigma_{zg,0} = 347 - 28,5 = 318,5 \text{ кПа}. \quad (7.13)$$

9) Задаємось товщиною піщаної подушки. Приймаємо  $h_n = 1,7 \text{ м}$ .

10) Визначаємо додаткове ущільнююче напруження  $\sigma_{zp} = \alpha \cdot P_0$  на рівні підшови піщаної подушки. Значення коефіцієнта  $\alpha$  визначаємо за табл. Д.1. [3], або табл. В додатку. при  $\zeta = 2 \cdot z / \ell = 2 \cdot h_n / b = 2 \cdot 1,7 / 2,1 = 1,6$  та  $\eta = \ell / \ell = 2,4 / 2,1 = 1,14$ .  $\alpha = 0,48$ . Тоді

$$\sigma_{zp} = \alpha \cdot P_0 = 0,48 \cdot 318,5 \text{ кПа} = 152,9 \text{ кПа}. \quad (7.14)$$

11) Визначаємо площу підшови умовного фундаменту, що ніби опирається на покрівлю слабого шару під піщаною подушкою



$$A_y = \frac{N_{II} + A \cdot \bar{\gamma} \cdot d}{\sigma_{zp}} = \frac{1600 + 5,04 \cdot 20 \cdot 1,5}{152,9} = 11,45 \text{ м}^2. \quad (7.15)$$

де  $A \cdot \bar{\gamma} \cdot d$  – орієнтовне значення ваги фундаменту і ґрунту на його обрізах.

12) Визначаємо ширину умовного фундаменту:

- для стрічкового фундаменту  $b_y = A_y / \ell$ ,

де  $\ell$  – довжина ділянки стрічкового фундаменту, в межах якої визначалось навантаження. Як за звичай  $\ell = 1$  м;

- для стовпчатого фундаменту  $b_y = \sqrt{A_y + a^2} - a$ ,

де  $a = 0,5 \cdot (\ell - b)$  – половина різниці довжини  $\ell$  і ширини  $b$  підшви прямокутного фундаменту.

Так як у нас прямокутний фундамент, то при  $a = 0,5 \cdot (2,4 - 2,1) = 0,15$  м.

$$b_y = \sqrt{A_y + a^2} - a = \sqrt{11,45 + 0,15^2} - 0,15 = 3,23 \text{ м}, \quad (7.16)$$

13) Визначаємо розрахунковий опір слабкого ґрунту на рівні підшви піщаної подушки при  $b_y = 3,23$  м.

$$R = \frac{\gamma_{e1} \gamma_{e2}}{k} [M_{\gamma k_z} b \gamma_{II} + M_q d \gamma'_{II} + M_c c_{II}] = \frac{1,1 \cdot 1,0}{1,0} \times \times [0,32 \cdot 1,0 \cdot 3,23 \cdot 9,8 + 2,3 \cdot 3,2 \cdot 14,53 + 4,84 \cdot 14] = 203,3 \text{ кПа}, \quad (7.17)$$

де  $\gamma_{II}$  – питома вага ґрунту під підшовою умовного фундаменту. Так як підшва умовного фундаменту, тобто підшва піщаної подушки знаходиться нижче рівня води, то для текучопластичного суглинку згідно з умовою прикладу  $\gamma_{II} = \gamma_{sb,II} = 9,8$  кН/м<sup>3</sup>;  $\gamma'_{II}$  – питома вага ґрунту вище підшви піщаної подушки. У нашому випадку

$$\gamma'_{II} = \frac{\gamma_{II} \cdot d + \gamma_{II,n} \cdot 0,1 + \gamma_{sb,II,n} \cdot (h_n - 0,1)}{d + 0,1 + (h_n - 0,1)} = \frac{19 \cdot 1,5 + 20 \cdot 0,1 + 10 \cdot (1,7 - 0,1)}{1,5 + 0,1 + (1,7 - 0,1)} = 14,53 \text{ кН/м}^3. \quad (7.18)$$

14) Визначаємо напруження від власної ваги ґрунту на рівні підшви піщаної подушки

$$\sigma_{zg,n} = \gamma_{II} \cdot d + \gamma_{II,n} \cdot 0,1 + \gamma_{sb,II,n} \cdot (h_n - 0,1) = \frac{19 \cdot 1,5 + 20 \cdot 0,1 + 10 \cdot (1,7 - 0,1)}{1,5 + 0,1 + (1,7 - 0,1)} = 46,5 \text{ кПа}. \quad (7.19)$$

15) Перевіряємо виконання умови



$$\sigma_{zg,n} + \sigma_{zp} \leq R,$$

$$46,5 + 152,9 = 199,4 \text{ кПа} < 203,3 \text{ кПа.}$$

(7.20)

Умова виконується. Якщо запас значний можна шляхом підбору зменшити товщину подушки з обов'язковою перевіркою умови  $\sigma_{zg,n} + \sigma_{zp} \leq R$ . Якщо умова не виконується, необхідно збільшити товщину піщаної подушки.

При конструюванні піщаної подушки приймаємо кут нахилу  $\alpha=40^\circ$  (див. рис. 6.1). Тоді ширина підшови подушки становитиме  $b_n = b + 2 \cdot h_n \cdot \text{tg} \alpha = 2,1 + 2 \cdot 1,7 \cdot \text{tg} 40^\circ = 4,96 \text{ м}$ . Приймаємо  $b_n=5 \text{ м}$ .

Довжина підшови подушки

$\ell_n = \ell + 2 \cdot h_n \cdot \text{tg} \alpha = 2,4 + 2 \cdot 1,7 \cdot \text{tg} 40^\circ = 5,26 \text{ м}$ . Приймаємо  $\ell_n=5,3 \text{ м}$ .

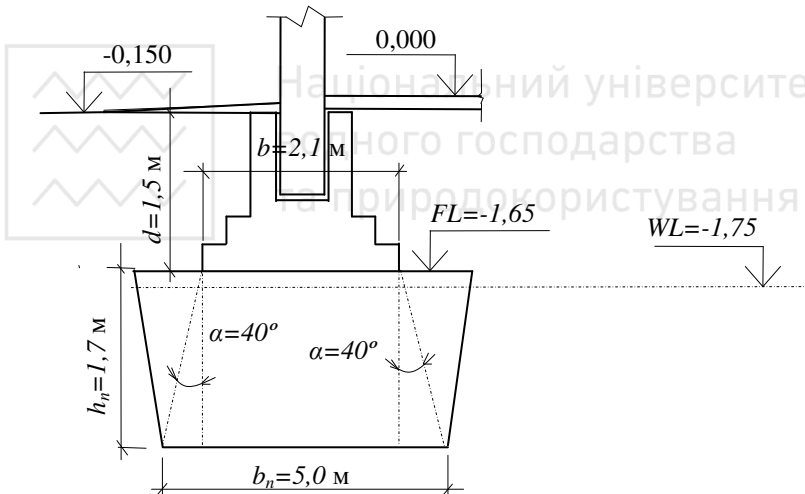


Рис. 6.1 До розрахунку піщаної подушки

Примітка: В РГР варіанти завдань слід приймати за табл. 6.1. Фундамент стовпчатий центрально-навантажений, з вертикальним навантаженням  $N_{II} = P \cdot b \cdot \ell$ . Глибину закладання  $d$ , тиск під підшовою фундамента  $P$ , площу  $b \cdot \ell$  і товщину слабкого шару ґрунту суглинка текучопластичного слід приймати за  $H_s$ , з табл.1. відповідно до варіантів завдань. Ґрунт піщаної подушки для варіантів з парним номером – пісок середньої крупності; для варіантів з непарним числом – пісок крупний.



Варіанти завдання для задачі №7

№ варіанта	Фізико-механічні характеристики										№ варіанта	Фізико-механічні характеристики									
	грунту основи					грунту піщаної подушки						грунту основи					грунту піщаної подушки				
	$\varphi_{п.г}$ град.	$c_{п.г}$ кПа	$\gamma_{п.г}$ кН/м <sup>3</sup>	$\gamma_{сб.п.г}$ кН/м <sup>3</sup>	$W_L$	$\varphi_{п.п}$ град.	$c_{п.п}$ кПа	$\gamma_{п.п}$ кН/м <sup>3</sup>	$\gamma_{сб.п.п}$ кН/м <sup>3</sup>	$W_L$		$\varphi_{п.г}$ град.	$c_{п.г}$ кПа	$\gamma_{п.г}$ кН/м <sup>3</sup>	$\gamma_{сб.п.г}$ кН/м <sup>3</sup>	$W_L$	$\varphi_{п.п}$ град.	$c_{п.п}$ кПа	$\gamma_{п.п}$ кН/м <sup>3</sup>	$\gamma_{сб.п.п}$ кН/м <sup>3</sup>	$W_L$
1	10	10	20	10	-2.1	31	1	21	11	16	16	9	20	10	-2.4	34	1	20.5	10.5		
2	12	14	19	9	-1.85	32	1	19.5	9.5	17	15	10	19.5	9.5	2.05	35	0	18.7	8.7		
3	8	16	20	10	-2.0	33	0	19.7	9.7	18	14	11	19	9	-1.9	34	1	18.8	8.8		
4	11	11	20	10	-2.05	34	0	20.1	10.1	19	13	18	18.5	8.5	-2.15	33	2	20.1	10.1		
5	13	10	19	9	-2.15	35	0	20.4	10.4	20	12	16	18	8	2.35	32	2	18.9	8.9		
6	14	13	19	9	-1.85	34	0	20.2	10.2	21	11	15	20.3	10.3	-2.0	31	0	19	9		
7	10	12	20	10	-1.8	33	0	19.8	9.8	22	10	13	19.7	9.7	-2.05	30	0	19.2	9.2		
8	13	15	19.5	9.5	-2.45	32	0	19.6	9.6	23	9	17	18.9	8.9	-2.4	29	0	19.3	9.3		
9	9	16	20	10	-2.4	31	2	18.9	8.9	24	11	16	19.1	9.1	-2.45	30	1	19.4	9.4		
10	10	15	20.5	10.5	-1.95	30	3	19.4	9.4	25	12	12	19.5	9.5	-2.45	31	4	19.6	9.6		
11	11	14	18.5	8.5	-2.65	29	4	19.5	9.5	26	13	10	19.9	9.9	-2.15	32	4	19.7	9.7		
12	12	13	19	9	-2.85	30	3	19.6	9.6	27	14	9	20.4	10.4	-2.2	33	3	20.1	10.1		
13	13	12	19.5	9.5	-1.95	31	2	19.8	9.8	28	15	8	20.1	10.1	-1.95	34	0	20.2	10.2		
14	14	11	20	10	-2.6	32	0	20.2	10.2	29	10	12	19.4	9.4	-2.25	35	0	20.3	10.3		
15	15	10	20.5	10.5	-1.95	33	1	20.3	10.3	30	8	20	19.6	9.6	-2.15	33	1	20.4	10.4		



Додаток

Таблиця А (табл. Б11 [1])

Класифікація глинистих ґрунтів за числом пластичності

Різновид ґрунту	Число пластичності $I_p$ , %
Супісок	$1 \leq I_p \leq 7$
Суглинок	$7 < I_p \leq 17$
Глина	$I_p > 17$

Таблиця Б (табл. Б14 [1])

Класифікація глинистих ґрунтів за показником текучості

Різновид ґрунтів	Показник текучості $I_L$	Різновид ґрунтів	Показник текучості $I_L$
Супісок:		Суглинки та глини:	
Твердий	$I_L < 0,00$	Тверді	$I_L \leq 0,00$
Пластичний	$0,00 \leq I_L \leq 1,00$	Напівтверді	$0,00 \leq I_L \leq 0,25$
Текучий	$I_L > 1,00$	Тугопластичні	$0,25 < I_L \leq 0,50$
		М'якопластичні	$0,50 < I_L \leq 0,75$
		Текучопластичні	$0,75 < I_L \leq 1,00$
		Текучі	$I_L > 1,00$



Таблиця В (табл. Д.1. [3])

Коефіцієнт  $\alpha$  для фундаментів

$\zeta=2z/b$	круглих	Прямокутних зі співвідношенням $\eta=l/b$						стрічкових $l/b \geq 10$
		1,0	1,4	1,8	2,4	3,2	5,0	
0,0	1,000	1,000	1,000	1,000	1,000	1,000	1,000	1,000
0,4	0,949	0,960	0,972	0,975	0,976	0,977	0,977	0,977
0,8	0,756	0,800	0,848	0,866	0,876	0,879	0,881	0,881
1,2	0,547	0,606	0,682	0,717	0,739	0,749	0,754	0,755
1,6	0,390	0,449	0,532	0,578	0,612	0,629	0,639	0,642
2,0	0,285	0,336	0,414	0,463	0,505	0,530	0,545	0,550
2,4	0,214	0,257	0,325	0,374	0,419	0,449	0,470	0,477
2,8	0,165	0,201	0,260	0,304	0,349	0,383	0,410	0,420
3,2	0,130	0,160	0,210	0,251	0,294	0,339	0,360	0,374
3,6	0,106	0,131	0,173	0,209	0,250	0,285	0,319	0,337
4,0	0,087	0,108	0,145	0,176	0,214	0,248	0,285	0,306
4,4	0,073	0,091	0,123	0,150	0,185	0,218	0,255	0,280
4,8	0,062	0,077	0,105	0,130	0,161	0,192	0,230	0,258
5,2	0,053	0,067	0,091	0,113	0,141	0,170	0,208	0,239
5,6	0,046	0,058	0,079	0,099	0,124	0,152	0,189	0,223
6,0	0,040	0,051	0,070	0,087	0,110	0,136	0,173	0,208
6,4	0,036	0,045	0,062	0,077	0,099	0,122	0,158	0,196
6,8	0,031	0,040	0,055	0,064	0,088	0,110	0,145	0,185
7,2	0,028	0,036	0,049	0,062	0,080	0,100	0,133	0,175
7,6	0,024	0,032	0,044	0,056	0,072	0,091	0,123	0,166
8,0	0,022	0,030	0,040	0,051	0,066	0,084	0,113	0,158
8,4	0,021	0,028	0,037	0,046	0,060	0,077	0,105	0,150
8,8	0,019	0,024	0,033	0,042	0,055	0,071	0,098	0,143
9,2	0,017	0,022	0,031	0,039	0,051	0,065	0,091	0,137
9,6	0,016	0,020	0,028	0,036	0,047	0,060	0,085	0,132
10,0	0,015	0,019	0,026	0,033	0,043	0,056	0,079	0,126
10,4	0,014	0,017	0,024	0,031	0,040	0,052	0,074	0,122
10,8	0,013	0,016	0,022	0,029	0,037	0,049	0,069	0,117
11,2	0,012	0,015	0,021	0,027	0,035	0,045	0,065	0,113
11,6	0,011	0,014	0,020	0,025	0,033	0,042	0,061	0,109
12,0	0,010	0,013	0,018	0,023	0,031	0,040	0,058	0,106

Примітки: **1.** В табл. позначено  $b$  – ширина або діаметр фундаменту;  $l$  – довжина фундаменту. **2.** Для фундаментів, що мають підшву у формі правильного многокутника з площею  $A$ , значення  $\alpha$  приймаються як для круглих фундаментів з радіусом  $r = \sqrt{A/\pi}$ . **3.** Для проміжних значень  $\zeta$  і  $\eta$  коефіцієнти  $\alpha$  визначаються інтерполяцією.



Розрахунковий опір ґрунту під нижнім кінцем палі (табл. Н.2.1 [2])

Глибина занурення нижнього кінця палі, $m$	Розрахунковий опір під нижнім кінцем забивних палей і палеоболонок, заглиблених без виймання ґрунту $R$ , $kPa$						
	пісків середньої щільності						
	гравіюватих	крупних	---	середньої крупності	дрібних	пилуватих	---
	глинистих ґрунтів з показником текучості $I_L$ , що дорівнює						
	0	0,1	0,2	0,3	0,4	0,5	0,6
3	7500	6600/4000	3000	3100/2000	2000/1200	1100	600
4	8300	6800/5100	3800	3200/2500	2100/1600	1250	700
5	8800	7000/6000	4000	3400/2800	2200/2000	1300	800
7	9700	7300/6900	4300	3700/3300	2400/2200	1400	850
10	10500	7700/7300	5000	4000/3500	2600/2400	1500	900
15	11700	8200/7500	5600	4400/4000	2900	1650	1000
20	12600	8500	6200	4800/4500	300	1800	1100
25	13400	9000	6800	5000	3500	1950	1200
30	14200	9500	7400	5600	3800	2100	1300
35	15000	10000	8000	6000	4100	2250	1400

Примітки: **1.** Над ризкою даються значення  $R$  для піщаних ґрунтів, під ризкою – для глинистих. **2.** В таблицях заглиблення нижнього кінця палі і середню глибину розташування розрахункового шару ґрунту при розплануванні території зрізуванням, підсіпкою, намиванням до 3 м слід приймати від рівня природного рельєфу, а при зрізуванні, підсіпці, намиванні від 3 до 10 м - від умовної позначки, розташованої відповідно на 3 м вище рівня зрізки, або на 3 м нижче рівня підсіпки. **3.** Для проміжних заглиблень палей та проміжних значень показника текучості глинистих ґрунтів значення  $R$  і  $f_i$  в табл.18 і 19 визначаються інтерполяцією. **4.** Для щільних пісків, ступінь щільності яких визначається за даними статичного зондування, значення  $R$  в табл. 18 для палей, заглиблених без використання підмиву або лідерних свердловин, слід збільшити на 100%. Якщо ступінь щільності ґрунту визначалася за даними інших видів інженерних досліджень за відсутності даних статичного зондування, то для щільних пісків значення  $R$  в табл. 4.1 слід збільшити на 60%, але не більше як до 20000  $kPa$ . **5.** Значення розрахункового опору  $R$  під нижнім кінцем забивних палей з поперечним перерізом  $0,15 \times 0,15$  м і менше, які використовуються в фундаментах внутрішніх перегородок одноповерхових виробничих будівель, допускається збільшувати на 20%. **6.** Для супісків з числом пластичності  $I_p \leq 4$  та коефіцієнтом пористості  $e \leq 0,8$  розрахункові опори  $R$  і  $f_i$  слід визначати як для пилуватих пісків середньої щільності.



Розрахунковий опір ґрунту на бічній поверхні палі (табл. Н.2.2 [2])

Середня глибина розташу- вання шару ґрунту, м	Розрахунковий опір на бічній поверхні забивних паль $f_i$ , кПа								
	пісків середньої щільності								
	крупних і серед- ньої крупності	дріб- них	пилу- ватих	---	---	---	---	---	---
	глинистих ґрунтів з показником текучості $I_L$ , що дорівнює								
	$\leq 0,2$	<b>0,3</b>	<b>0,4</b>	<b>0,5</b>	<b>0,6</b>	<b>0,7</b>	<b>0,8</b>	<b>0,9</b>	<b>1,0</b>
<b>1</b>	35	23	15	12	8	4	4	3	2
<b>2</b>	42	30	21	17	12	7	5	4	4
<b>3</b>	48	35	25	20	14	8	7	6	5
<b>4</b>	53	38	27	22	16	9	8	7	5
<b>5</b>	56	40	29	24	17	10	8	7	6
<b>6</b>	58	42	31	25	18	10	8	7	6
<b>8</b>	62	44	33	26	19	10	8	7	6
<b>10</b>	65	46	34	27	19	10	8	7	6
<b>15</b>	72	51	38	28	20	11	8	7	6
<b>20</b>	79	56	41	30	20	12	8	7	6
<b>25</b>	86	61	44	32	20	12	8	7	6
<b>30</b>	93	66	47	34	21	12	9	8	7
<b>35</b>	100	70	50	36	22	13	9	8	7

Примітки: **1.** При визначенні розрахункового опору ґрунту на бічній поверхні палі  $f_i$  з табл. 3. слід урахувати вимоги приміток 2 і 3 до табл. 18. **2.** При визначенні з табл. 19 розрахункових опорів ґрунтів на бічній поверхні палі  $f_i$  верстви ґрунту слід розчленувати на однорідні шари товщиною не більше 2 м. **3.** Значення розрахункового опору щільних пісків на бічній поверхні палі  $f_i$  слід збільшувати на 30% в порівнянні зі значеннями, даними в табл. 19. Розрахунковий опір супісків і суглинків з коефіцієнтом пористості  $e \leq 0,5$  і глин з коефіцієнтом пористості  $e \leq 0,6$  слід збільшувати на 15% у порівнянні зі значеннями, наведеними в табл. 19, при різних значеннях показника текучості  $I_L$ .



## Список використаної літератури

1. ДСТУ Б В.2.1-2-96. Ґрунти. Класифікація.
2. ДБН В.2.1–10–2009, зміна 1. „Основи та фундаменти споруд”. К. 2001–49 с.
3. ДБН В.2.1-10-2009. Основи та фундаменти споруд. К. 2009 – 78с.
4. ДСТУ Б В.2.6.-65:2008 „Палі залізобетонні”.
5. Бабич Є. М., Крусь Ю. А., “Механіка ґрунтів, основ та фундаментів”. Рівне: видавництво РДТУ, 2001.– 367 с.
6. Зоценко М.Л., Коваленко В.І., Хілобок В.Г., Яковлев А.В. Інженерна геологія. Механіка ґрунтів. Основи і фундаменти К.: Вища школа. - 1992 .
7. Лабораторний практикум з механіки ґрунтів: Навчальний посібник/ Г.Ф.Федорчук. - Рівне: НУВГП, 1995. – 141 с.

