

Міністерство освіти та науки України  
Національний університет водного господарства та  
природокористування  
Кафедра автоматизації, електротехнічних та комп'ютерно-  
інтегрованих технологій

**04-03-440М**

### **МЕТОДИЧНІ ВКАЗІВКИ**

до виконання лабораторних робіт з навчальної дисципліни  
**«Електромеханіка та електропривод»**  
для здобувачів вищої освіти першого (бакалаврського) рівня  
за освітньо-професійною програмою  
«Автоматизація, комп'ютерно-інтегровані технології та  
робототехніка»  
спеціальності 174 «Автоматизація, комп'ютерно-інтегровані  
технології та робототехніка» денної та заочної форм навчання

Рекомендовано науково-методичною  
радою з якості ННІ ЕАВГ  
Протокол № 6 від 28.01.2025 р.

Рівне – 2025

Методичні вказівки до виконання лабораторних робіт з навчальної дисципліни «Електромеханіка та електропривод» для здобувачів вищої освіти першого (бакалаврського) рівня за освітньо-професійною програмою «Автоматизація, комп'ютерно-інтегровані технології та робототехніка» спеціальності 174 «Автоматизація, комп'ютерно-інтегровані технології та робототехніка» денної та заочної форм навчання. [Електронне видання] / Маланчук Є. З., Христюк А. О. – Рівне : НУВГП, 2025. – 72 с.

Укладачі: Маланчук Є. З., д.т.н., професор кафедри автоматизації, електротехнічних та комп'ютерно-інтегрованих технологій; Христюк А. О., к.т.н., доцент кафедри автоматизації, електротехнічних та комп'ютерно-інтегрованих технологій.

Відповідальний за випуск: Древецький В. В., д.т.н., професор, завідувач кафедри автоматизації, електротехнічних та комп'ютерно-інтегрованих технологій.

Керівник освітньої програми «Автоматизація, комп'ютерно-інтегровані технології та робототехніка»: Христюк А. О., к.т.н., доцент кафедри автоматизації, електротехнічних та комп'ютерно-інтегрованих технологій.

Попередня версія методичних вказівок: 04-03-355 М.  
(<https://ep3.nuwm.edu.ua/25866/>)

© Є. З. Маланчук,  
А. О. Христюк, 2025  
© НУВГП, 2025

## Зміст

Вступ .....	4
Робота 1. Дослідження однофазного трансформатора .....	5
Робота 2. Дослідження тягових електромагнітів.....	20
Робота 3. Дослідження характеристик трифазного синхронного генератора .....	30
Робота 4. Дослідження характеристик трифазного асинхронного двигуна з короткозамкненим ротором .....	41
Робота 5. Дослідження однофазного асинхронного двигуна та випробування трифазного асинхронного двигуна в режимі однофазного .....	58
Додатки .....	70

## Вступ

Метою виконання лабораторних робіт з дисципліни “Електромеханіка та електропривод” здобувачами вищої освіти першого (бакалаврського) рівня спеціальності 174 “Автоматизація, комп'ютерно-інтегровані технології та робототехніка” є допомога студентам зрозуміти теоретичні концепції, які вивчаються на лекціях, шляхом практичних експериментів та досліджень.

Виконання лабораторних робіт дозволяє студентам отримати практичний досвід у роботі з електричними і електромеханічними системами, засвоїти навички роботи з електричними приладами та інструментами, а також навчитися розв'язувати конкретні технічні задачі. Крім того, лабораторні роботи дають змогу студентам вчитися працювати в команді, збільшувати їх знання з області електротехніки та електромеханіки, а також підвищувати їхню мотивацію для навчання та зростання у цій галузі..

# Робота 1. Дослідження однофазного трансформатора

## 1.1. Мета роботи

Вивчити будову і дослідити роботу трансформатора в режимах холостого ходу, короткого замикання і під навантаженням.

## 1.2. Теоретичні положення

Трансформатор - це статичний електромагнітний апарат, який призначений для перетворення однієї - первинної систем змінного струму, в другу-вторинну систем змінного струму, яка має інші характеристики, зокрема, іншу напругу і інший струм.

Механічним аналогом трансформатора може бути редуктор. На рис.1.1 зображені функціональні схеми трансформатора і редуктора.

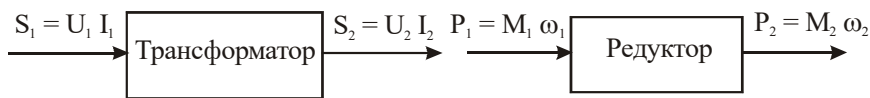


Рис.1.1.

До трансформатора від джерела електричної енергії підводиться потужність  $S_1 = U_1 I_1$ , а трансформатор перетворює її в потужність  $S_2 = U_2 I_2$ , якою живляться споживачі. Аналогічний процес має місце і в механічному редукторі, до якого від вала двигуна (джерела механічної енергії) підводиться потужність  $P_1 = M_1 \omega_1$ , редуктор перетворює її в потужність  $P_2 = M_2 \omega_2$  з другими значеннями моменту  $M_2$  і кутової швидкості  $\omega_2$ .

В електроенергетиці трансформатор є одним із основних елементів системи електропостачання із-за можливості створювати напруги, які задовільняють потреби різних споживачів.

Місце розташування джерел електричної енергії (теплових, атомних і гідроелектростанцій) не завжди територіально співпадає з розташуванням споживачів. Тому приходится передавати електричну енергію на значні віддалі. Передача електроенергії здійснюється по

лініях електропередач (ЛЕП). При передачі електроенергії по проводах мають місце втрати потужності

$$\Delta p = i^2 r_n, \quad /1.1/$$

де  $i$  – струм в лінії ;  $r_n$  – активний опір лінії.

Щоб зменшити втрати  $\Delta p$ , необхідно зменшити силу струму, зберігши величину потужності, що передається, незмінною ( $p = ui = const$ ). Це можна зробити, збільшивши напругу. Можна зменшити  $\Delta p$  і за рахунок зменшення опору  $r_n$ . Зменшення опору вимагає збільшення діаметру проводів, що дуже дорого. Тому передачу електроенергії здійснюють високою напругою.

Електричні станції виробляють енергію напругою 3, 6, 10, 15 і 20 кВ. В залежності від віддалі передачі напругу підвищують до 35, 110, 220, 400, 500 і 800 кВ. Чим більша віддаль, тим більша напруга ЛЕП. Хоча вартість ЛЕП при підвищенні напруги зростає, але економія на втратах енергії перевищує додаткові витрати на спорудження високовольтних ЛЕП.

Масові споживачі енергії виготовляють на напругу 220/380 В, рідше на напруги 600, 3000 і 6000 В. Необхідні напруги для живлення споживачів електроенергії забезпечують трансформатори.

Трансформатор складається із магнітопроводу і двох або, у загальному випадку, декількох обмоток, зв'язаних між собою електромагнітно, а в автотрансформаторах - і електрично.

За кількістю фаз трансформатори поділяються на однофазні , трифазні і багатофазні. Найбільш широко використовуються такі типи трансформаторів :

- силові - для передачі і розподілу електричної енергії ;
- силові спеціального призначення, а саме : пічні, зварювальні, для випрямних установок, автотрансформатори та інші;
- вимірювальні - для підключення вимірювальних приладів .

Номінальною потужністю трансформатора є потужність вторинної обмотки , яка вказана на щитку. Номінальною первинною напругою  $U_{1H}$  називається напруга, яка вказана на щитку трансформатора. Номінальною вторинною напругою  $U_{2H}$  називається напруга на затискачах вторинної обмотки при холостому ході трансформатора і

при номінальній напрузі на первинній обмотці .

Номінальними струмами трансформатора - первинним  $I_{1H}$  і вторинним  $I_{2H}$  - є струми, які вказані на щитку або які вираховують за номінальними потужностями і напругами.

Незалежно від призначення та конструктивного виконання основні процеси , які відбуваються в трансформаторах, майже однакові . Тому достатньо вивчити будову, принцип дії і характеристики однофазного двообмоточного силового трансформатора .

Будова однофазного двообмоточного трансформатора показана на рис.1.2,а, а умовне позначення - на рис 1.2,б.

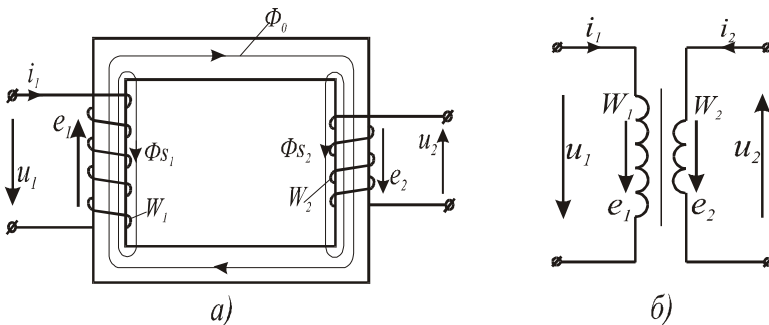


Рис.1.2.

Трансформатор складається з феромагнітного магнітопроводу (ярма і осердя) і двох обмоток: високої напруги (ВН) з кількістю витків  $w_1$  і низької напруги (НН) з числом витків  $w_2$ . Магнітопровід виготовляють із листів електротехнічної сталі товщиною 0,35...0,5 мм, які ізолюють один від одного тонким шаром лаку або іншим ізоляційним матеріалом. Така будова магнітопроводів всіх електромагнітних пристроїв змінного струму зумовлена необхідністю зменшення втрат енергії внаслідок виникнення в магнітопроводі вихрових струмів.

Обмотки трансформатора намотують ізольованим мідним проводом у вигляді котушок, які ізолюють одна від одної і від магнітопроводу. Обмотку НН розміщують на осерді магнітопроводу, а обмотку ВН – концентрично відносно обмотки НН.

До первинної обмотки підводять напругу від джерела живлення, до вторинної – під'єднують споживачів електричної енергії.

Принцип дії трансформатора ґрунтується на законі електромагнітної індукції. Якщо до первинної обмотки з числом витків  $w_1$  прикласти синусоїдну напругу  $u_1$ , то в ній буде протікати струм  $i_0 = I_{0m} \sin \omega t$ , який спричинить появу двох магнітних потоків: основного  $\Phi_0$ , який замикається по магнітопроводу, і потоку розсіювання  $\Phi_{S1}$ , який зв'язаний з первинною обмоткою і який замикається по повітрю.

Основний магнітний потік  $\Phi_0 = \Phi_{0m} \sin \omega t$  індукуює в первинній обмотці е.р.с. самоіндукції

$$\begin{aligned} \Phi_{0m} \cos \omega t &= w_1 \omega \Phi_{0m} \sin(\omega t - \pi/2) = \\ &= E_{1m} (\sin \omega t - \pi/2) \end{aligned} \quad /1.2/$$

і в вторинній обмотці з числом витків  $w_2$  е.р.с. взаємоіндукції

$$\begin{aligned} e_2 &= -w_2 \frac{d\Phi_0}{dt} = -w_2 \omega \Phi_{0m} \cos \omega t = w_2 \omega \Phi_{0m} \sin(\omega t - \pi/2) = \\ &= E_{2m} (\sin \omega t - \pi/2), \end{aligned} \quad /1.3/$$

де  $E_{1m} = w_1 \omega \Phi_{0m}$  і  $E_{2m} = w_2 \omega \Phi_{0m}$  – амплітудні значення е.р.с. первинної і вторинної обмоток. Ці е.р.с. відстають від потоку  $\Phi_0$  на кут  $\pi/2$ .

Відношення  $\frac{e_1}{e_2} = \frac{w_1}{w_2} = k$  називається коефіцієнтом трансформації трансформатора.

Дія магнітного потоку розсіювання  $\Phi_{S1}$  на первинну обмотку кількісно оцінюється сталим індуктивним опором  $x_1 = \omega L_1$ .

Якщо до вторинної обмотки підключити навантаження з опором  $Z_n$ , то в ній буде протікати струм  $i_2 = u_2 / Z_n$ , який згідно з законом Ленца створить магнітний потік, який буде протидіяти основному магнітному потоку  $\Phi_0$ .



Розмагнічуюча дія магнітного потоку вторинної обмотки спричиняє збільшення струму у первинній обмотці настільки, щоб основний магнітний потік трансформатора залишався сталим за амплітудою  $\Phi_{0m} = const$ , що еквівалентно  $i_0 = i_1 + i_2$ , де  $i_1$  – струм в первинній обмотці.

Для спрощення розрахунків і побудови векторної діаграми трансформатора е.р.с., напругу, струм і опори вторинної обмотки зводять до первинної за формулами:

$$e'_2 = k \cdot e_2; u'_2 = k \cdot u_2; i'_2 = \frac{i_2}{k}; L'_2 = k^2 L_2; r'_2 = k^2 \cdot r_2. \quad /1.4/$$

За цих умов рівняння однофазного трансформатора матимуть вигляд :

$$\begin{aligned} u_1 &= r_1 i_1 + x_1 i_1 + e_1; \\ e'_2 &= r'_2 i'_2 + x'_2 i'_2 + u'_2; \\ i_0 &= i_1 + i'_2; \end{aligned} \quad /1.5/$$

де  $r_1$  і  $r'_2$  - відповідно активний опір первинної і зведений активний опір вторинної обмотки;  $x'_2 = \omega L'_2$  - зведений індуктивний опір вторинної обмотки ;  $i_0$  - струм намагнічування /холостого ходу/ трансформатора .

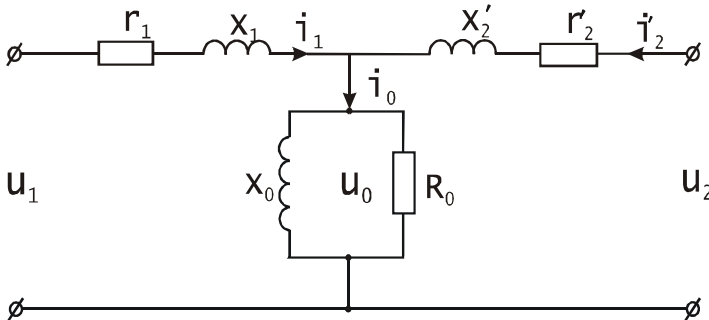
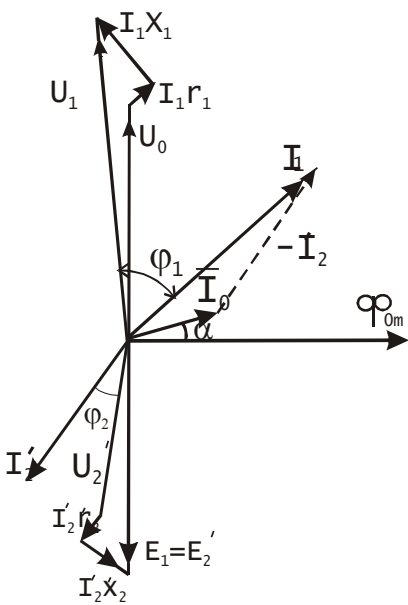


Рис.1.3.

Системі рівнянь /1.5/ відповідає заступна схема трансформатора, яка наведена на рис.1.3.

Щоб краще з'ясувати співвідношення між синусоїдними величинами, які входять до системи рівнянь /1.5/, необхідно вміти будувати векторну діаграму трансформатора. Для цього рівняння трансформатора /1.5/ представляють у векторній формі:

$$\begin{aligned} \bar{U}_1 &= \bar{I}_1 r_1 + \bar{I}_1 x_1 + \bar{E}_1; \\ \bar{E}'_2 &= \bar{I}'_2 r'_2 + \bar{I}'_2 x'_2 + \bar{U}'_2; \\ \bar{I}_0 &= \bar{I}_1 + \bar{I}'_2. \end{aligned} \quad /1.6/$$



При побудові векторної діаграми всі вектори орієнтують відносно вектора  $\bar{\Phi}_0$ , який зображає основний магнітний потік трансформатора /рис.1.4/. Вектори е.р.с.  $\bar{E}_1$  і  $\bar{E}'_2$ , які індукуються потоком  $\bar{\Phi}_0$ , рівні за величиною і відстають від нього на кут  $\pi/2$ . Вектор намагнічуючого струму  $\bar{I}_0 = \bar{I}_1 + \bar{I}'_2$  із-за втрат в сталі опередує вектор  $\bar{\Phi}_0$  на кут магнітного запізнення

$$\alpha_0 = \arcsin(p_{cm} : E_1 I_0), \quad /1.7/$$

Рис.1.4 де  $p_{cm}$  - втрати в сталі, які визначають

на підставі дослідів холостого ходу.

Знаючи  $\bar{E}'_2$ , опори вторинної обмотки  $r'_2, x'_2$  і опір зовнішнього кола  $Z_n$ , можна знайти струм  $I'_2$  і побудувати вектор  $\bar{I}'_2$ , який буде зсунутий відносно вектора  $\bar{U}'_2$  на кут  $\varphi_2$ . Побудувавши вектори  $\bar{I}_0$  і  $\bar{I}'_2$ , знаходять вектор  $\bar{I}_1 = \bar{I}_0 - \bar{I}'_2$ . Побудову векторів  $\bar{U}_1$  і  $\bar{U}'_2$  виконують на підставі рівнянь первинної і вторинної

обмоток . Із рівняння первинної обмотки видно, що  $\bar{U}_1$  має три складові :  $\bar{U}_0$  , яка зрівноважує е.р.с.  $\bar{E}_1$  і яку зображають вектором  $\bar{U}_0$  , рівним і протилежним вектору  $\bar{E}_1$  ; складову  $\bar{I}_1 x_1$  , яка випереджує вектор  $\bar{I}_1$  на кут  $\pi/2$  , і складову  $\bar{I}_1 r_1$  , яка співпадає за напрямком з  $\bar{I}_1$  . Геометрична сума цих векторів дає вектор  $\bar{U}_1$  .

Аналогічно будують вектор  $\bar{U}'_2$  , віднімаючи від вектора  $\bar{E}'_2$  вектор  $\bar{I}'_2 x'_2$  , який перпендикулярний до вектора  $\bar{I}'_2$  , і вектор  $\bar{I}'_2 r'_2$  , паралельний йому , як це показано на рис.1.4. Вектор  $\bar{U}'_2$  зображає напругу вторинної обмотки трансформатора.

Із діаграми видно, що струм вторинної обмотки  $I'_2$  , визначає величину струму первинної обмотки  $I_1$  , бо струм намагнічування  $I_0$  можна вважати величиною сталою. Крім того, при зміні характеру навантаження змінюється  $\cos \varphi_2 = r_2 / Z_n$  і відповідно змінюється коефіцієнт потужності кола первинної обмотки  $\cos \varphi_1$  . Отже, при зміні навантаження на виході трансформатора змінюється потужність, яку споживає трансформатор з мережі живлення, тобто трансформатор здійснює перетворення енергії напругою  $U_1$  в енергію напругою  $U_2$  і ці синусоїдні напруги зміщені в часі на кут, дещо більший  $\pi$  при активно-індуктивному навантаженні і дещо менший  $\pi$  при активно-емнісному.

При перетворенні первинної системи змінного струму у вторинну мають місце втрати енергії як в магнітопроводі, так і в обмотках трансформатора. Ці втрати визначають величину коефіцієнта корисної дії.

Коефіцієнт корисної дії трансформатора , як і будь-якої машини, є відношення потужності  $P_2$  , яку віддає трансформатор, до потужності  $P_1$  , яку він споживає , тобто

$$\eta = \frac{P_2}{P_1} . \quad /1.8/$$

При роботі трансформатора під навантаженням мають місце втрати потужності в сталі на гістерезис і вихрові струми  $p_{cm}$  та втрати в обмотках на нагрівання /втрати в міді/  $p_m$ . З врахуванням цих втрат формулу /10.8/ можна представити у вигляді

$$\eta = \frac{P_2}{P_2 + p_{cm} + p_m}. \quad /1.9/$$

Визначити втрати  $p_{cm}$  і  $p_m$  аналітичним шляхом неможливо із-за складності електромагнітних процесів, які мають місце в трансформаторі. Тому їх визначають на підставі дослідів холостого ходу і короткого замикання.

**Дослід холостого ходу** проводить при розімкненій вторинній обмотці і при номінальній напрузі на первинній. За цих умов в первинній обмотці протікає струм холостого ходу  $I_0$ , який в сучасних трансформаторах не перевищує  $2 \dots 10\%$  номінального струму. При такому струмі втратою потужності в міді первинної обмотки ( $p_{m1} = I_0^2 r_1$ ) можна знехтувати, так як вона не перевищує  $2\%$  від втрат холостого ходу. Тому вважають, що втрати холостого ходу  $p_0$  приблизно дорівнюють втратам в сталі  $p_{cm}$ . При холостому ході струм  $I_0$  малий і падіння напруги в первинній обмотці не перевищує  $0,5\%$  від прикладеної напруги  $U_1$ . Тому при холостому ході приймають, що  $U_1 = E_1$ ,  $U_{20} = E_2$  і коефіцієнт трансформації

$$k = \frac{E_1}{E_2} = \frac{U_{1n}}{U_{2o}} = \frac{U_{1n}}{U_{2n}}. \quad /1.10/$$

Отже, з дослідів холостого ходу експериментальним шляхом визначають струм холостого ходу  $I_0$ , втрати в сталі  $p_0$  і напругу  $U_{2n}$ . На підставі цих даних обчислюють коефіцієнт трансформації /формула 1.10/ і кут магнітного запізнення /формула 1.7/, який необхідний для побудови векторної діаграми трансформатора.

**При досліді короткого замикання** вторинну обмотку замикають накоротко, а на первинну подають таку напругу  $U_k$ , при якій струми в

первинній і вторинній обмотках будуть дорівнювати номінальним. За цих умов е.р.с. первинної обмотки мала і струм намагнічування не перевищує  $0,1I_0$ . Тому втратами в сталі можна знехтувати і вважати, що підведена потужність  $p_k$  витрачається на нагрівання обмоток і приблизно дорівнює втратам в міді:

$$p_k = p_{m_1} + p_{m_2} = I_{1n}^2 r_1 + I_{2n}^2 r_2 = I_{1n}^2 r_k = I_{1k}^2 r_k. \quad /1.11/$$

Визначивши експериментально напругу  $U_k$ , струм  $I_{1n}$  і потужність короткого замикання  $p_k$ , вираховують параметри короткого замикання

$$z_k = \frac{U_k}{I_{1n}}; \quad /1.12/$$

$$r_k = \frac{p_k}{I_{1n}^2}; \quad /1.13/$$

$$x_k = \sqrt{z_k^2 - r_k^2}. \quad /1.14/$$

При навантаженні трансформатора, яке відрізняється від номінального, потужність  $P_2 = P_{2n} k_n$ , де  $k_n = I_2 / I_{2n}$  – коефіцієнт навантаження трансформатора, і формулу /1.9/ можна представити у загальному вигляді:

$$\eta = \frac{S_n k_n \cos \varphi_2}{S_n k_n \cos \varphi_2 + p_0 + k_n^2 p_k} = 1 - \frac{p_0 + k_n^2 p_k}{k_n S_n \cos \varphi_2 + p_0 + k_n^2 p_k}. \quad /1.15/$$

Так як при заданому значенні  $\cos \varphi_2$  єдиною змінною в формулі /1.15/ є коефіцієнт навантаження  $k_n$ , то можна визначити, при якому значенні  $k_n$  досягає максимального значення  $\eta$ . Для цього необхідно знайти похідну  $\frac{d\eta}{dk_n}$  і прирівняти її до нуля. Виконавши цю операцію, одержимо

$$p_0 = k_n^2 p_k. \quad /1.16/$$

Вираз /1.16/ означає, що к.к.д. досягає максимального значення при такому навантаженні, коли втрати в сталі дорівнюють втратам в міді обмоток.

Коефіцієнт оптимального навантаження

$$k_{н\text{опт}} = \sqrt{\frac{p_0}{p_k}}. \quad /1.17/$$

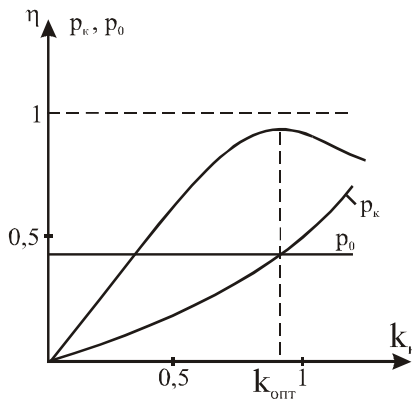


Рис.1.5.

На рис.1.5 наведені залежності к.к.д. трансформатора  $\eta = f(k_n)$ , втрати в міді обмоток  $p_k = f(k_n)$  і величина втрат в магнітопроводі  $p_0$ , із яких видно, що максимальний к.к.д. лежить на перетині кривої  $p_k = f(k_n)$  і прямої  $p_0 = const$ .

Втрати потужності в сучасних трансформаторах незначні. Зокрема, втрати в сталі складають 0,3...1,5%, а в міді – 0,5...3% номінальної потужності. При цьому менші втрати відносяться до трансформаторів великої потужності. Отже, найбільш економічна робота трансформаторів буде при коефіцієнті завантаження  $k_{н\text{опт}} = 0,77...0,71$ .

Для надійного і безперебійного забезпечення споживачів

електроенергією, особливо в години “пік”, і створення резерву на підстанціях встановлюють декілька трансформаторів, які вмикають на паралельну роботу.

При паралельній роботі трансформаторів розподіл навантаження між ними залежить від падіння напруг на їх вторинних обмотках. Тому необхідно вміти будувати зовнішню характеристику трансформатора  $U_2 = f(I_2)$  при  $U_1 = const$  і  $\cos \varphi_2 = const$ . Її знімають експериментально або розраховують на підставі параметрів короткого замикання за формулою

$$U_2 = U_{2н} - k_n I_{2н} (r_k \cos \varphi_2 + x_k \sin \varphi_2). \quad /1.18/$$

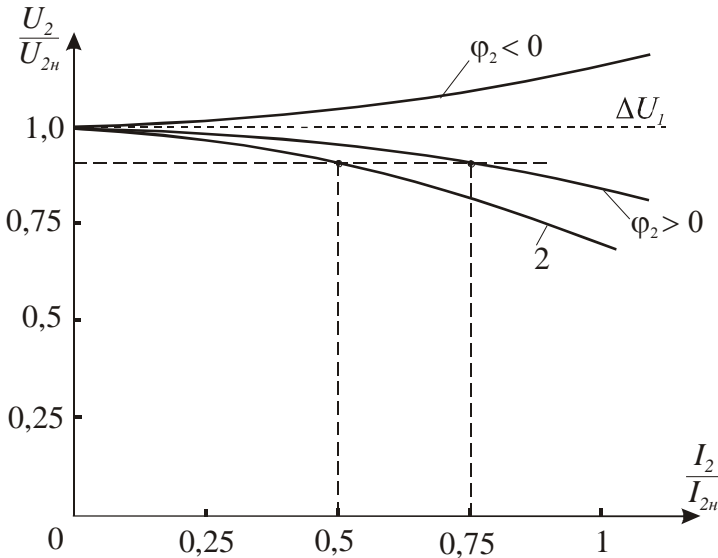


Рис.1.6.

На рис. 1.6 наведені у відносних одиницях зовнішні характеристики трансформатора для ємнісного ( $\varphi_2 < 0$ ) і індуктивного ( $\varphi_2 > 0$ ) характеру навантаження. Там же наведена зовнішня характеристика трансформатора (крива 2) з більшим значенням напруги короткого замикання. При паралельній роботі

таких трансформаторів завантаження їх буде різним, бо напруга на загальних шинах однакова. Як видно з рис. 1.6 трансформатор з більш жорсткою зовнішньою характеристикою буде завантажений більше, що треба враховувати при підборі трансформаторів для паралельної роботи.

### 1.3. Програма роботи

1. Ознайомитись з будовою однофазного трансформатора і лабораторними стендом.
2. Провести дослід холостого ходу, визначити коефіцієнт трансформації та кут магнітного запізнення.
3. Провести дослід короткого замикання, вичислити параметри короткого замикання і оптимальне значення коефіцієнта навантаження.
4. Дослідити роботу трансформатора під навантаженням. Побудувати залежності  $U_2 = f(I_2)$ ,  $I_1 = f(I_2)$  і  $\eta = f(k_n)$ .
5. На підставі експериментальних і розрахункових даних побудувати векторну діаграму для заданого  $Z_n$ .
6. Зробити висновок про вплив  $\cos\varphi$  на напруги і струми в первинній і вторинній обмотках трансформатора.

### 1.4. Опис лабораторної установки

Дослідження проводяться на спеціалізованому лабораторному стенді, на якому розташовані:

- мережевий вимикач SB;
- джерело змінної напруги - лабораторний автотрансформатор;
- однофазний трансформатор TV з виводами кінців первинної (A,X) і вторинної (a,x) обмоток на набірне поле стенда;
- прилади для вимірювання напруг PV1 і PV2, струмів PA1 і PA2 та потужності PW;
- блок резисторів  $R_n$  з перемикачем SA.

Схема електричного кола для дослідження трансформатора наведена на рис.1.7.



Для складання електричної схеми використовують набір перемичок і провідів.

## 1.5. Порядок виконання роботи

1. Знайомлячись з будовою силового трансформатора, необхідно звернути увагу на конструкцію магнітопровода та на розташування обмоток. Після цього, використовуючи провідники і перемички, складають електричну схему, зображену на рис.1.7.

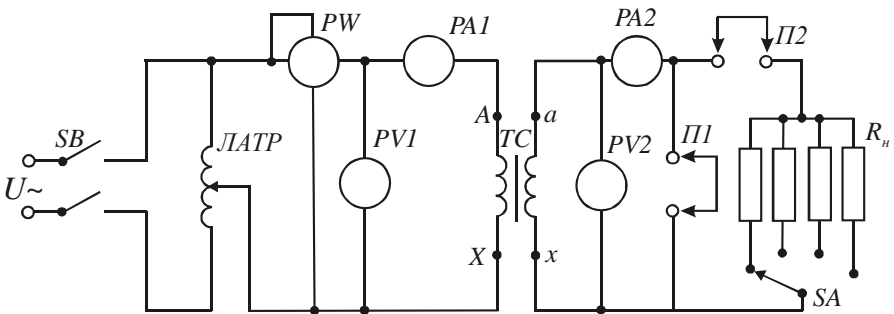


Рис. 1.7.

Ручку автотрансформатора треба перевести в крайнє лівє положення, а перемичак SA - в крайнє правє. Паспортнє данє трансформатора занєсти до звїту. Пїсля перевїрки електричнї схеми викладачєм можна приступати до проведення дослїджень.

2. Для проведення дослїду холостого ходу необхїдно зняти перемички П1 і П2. Включити вимикач SB. Поворотом ручки автотрансформатора встановити номїнальну напругу на первиннїй обмотцї трансформатора. Покази вольтметрїв PV1, PV2, амперметра PA1 і ватметра PW занєсти в табл.1.1.

За даними вимїрювань вирахувати коефїцієнт трансформацїї (формула 1.9) і коефїцієнт магнїтного запїзнєння (формула 1.7), а також струм і потужнїсть холостого ходу в долях вїд номїнальних значень.

Таблиця 1.1

Виміряти				Вирахувати			
$U_{1н}, В$	$U_{20}, В$	$I_0, А$	$P_0, Вт$	$k$	$\alpha_0$	$I_0 / I_{1н}$	$p_0 = P_0 / P_{1н}$

3. Дослід короткого замикання провести у такій послідовності:

- ручку автотрансформатора перевести у нульове положення;
- поставити перемичку П1;

- плавно підвищувати напругу на первинній обмотці трансформатора доти, доки струм у вторинній обмотці не досягне номінального значення;

- покази всіх приладів занести в табл.1.2.

За формулами /1.11/, /1.12/, /1.13/ і /1.15/ обчислити параметри короткого замикання і оптимальний коефіцієнт навантаження.

Таблиця 1.2

Виміряти				Вирахувати				
$U_k, В$	$I_{1к}, А$	$I_{2к}, А$	$P_{1к}, Вт$	$Z_k, Ом$	$r_k, Ом$	$x_k, Ом$	$k_{н.опт}$	$U_k/U_{1н}, \%$

4. Для дослідження роботи трансформатора під навантаженням необхідно зняти перемичку П1 і поставити перемичку П2. Встановити режим холостого ходу. Покази приладів занести в табл.1.3. Після, змінюючи за допомогою перемикача SA опір навантаження, виміряти напруги, струм і потужність для умов, вказаних в табл.1.3. При проведенні дослідів необхідно підтримувати напругу на первинній обмотці рівною номінальній, змінюючи коефіцієнт трансформації автотрансформатора.

Таблиця 1.3

№ п/п	Умови вимірювання	Виміряти					Вирахувати			
		$U_{1н},В$	$P_1,Вт$	$I_1,А$	$U_2,В$	$I_2,А$	$P_2,Вт$	$\eta$	$\cos\varphi_1$	$U_2^*$
1	$I_2 = 0$									
2	$I_2 = 0,25 I_{2н}$									
3	$I_2 = 0,5 I_{2н}$									
4	$I_2 = 0,75 I_{2н}$									
5	$I_2 = I_{2н}$									
6	$I_2 = 1,25 I_{2н}$									

За даними вимірювань визначити коефіцієнти навантаження  $k_n$ , потужності вторинної обмотки  $P_2$ , к.к.д.  $\eta$  і  $\cos \varphi_1$ . За даними вимірювань і обчислень побудувати на одному графіку залежності  $U_2 = f(I_2)$ ,  $I_1 = f(I_2)$  і  $\eta = f(k_n)$ .

Для визначених значень  $x_k$  і  $r_k$  за формулою /1.17/ підрахувати  $U_2^*$ , побудувати залежність  $U_2^* = f(I_2)$ , порівняти її з експериментальною і оцінити похибку розрахунків.

5. Побудову векторної діаграми проводять для заданого викладачем значення опору навантаження  $Z_n = r_n + jx_n$  і  $U_1 = U_{1n}$  за викладеною вище методикою, знаючи, що струм  $I_2 = U_{2n} / Z_2$ , де  $Z_2 = \sqrt{(r_n + r_2)^2 + (x_n + x_2)^2}$  і  $r_2$  і  $x_2$  - активний і реактивний опори вторинної обмотки, значення яких наведені на лабораторному стенді. Там же вказані і опори первинної обмотки  $r_1$  і  $x_1$ . Слід знати, що кут зсуву фаз між векторами  $\vec{I}'_2$  і  $\vec{E}'_2$   $\varphi_2^* = \arccos \frac{x_n + x_2}{Z_2}$ .

6. Щоби зробити висновок про вплив  $\cos \varphi = \frac{x_n}{Z_n}$  на напруги і струми трансформатора, потрібно на підставі побудованої векторної діаграми провести аналіз зміни модулів векторів напруг і струмів при зміні величини кута  $\varphi$ .

## 1.6. Контрольні запитання

1. Яке призначення силових трансформаторів?
2. Що може бути механічним аналогом трансформатора?
3. Яку потужність трансформатора приймають за номінальну?
4. Яку напругу вторинної обмотки приймають за номінальну?
5. На підставі якого досліду визначають коефіцієнт трансформації трансформатора?
6. Для чого будують векторну діаграму трансформатора?
7. Чи залежить амплітуда основного магнітного потоку від навантаження трансформатора?
8. Як визначають напругу короткого замикання трансформатора?
9. Які втрати потужності мають місце в трансформаторі?
10. Від чого залежить коефіцієнт оптимального навантаження?

## Робота 2. Дослідження тягових електромагнітів

### 2.1. Мета роботи

Вивчити будову, принцип дії та дослідити тягові характеристики електромагнітів постійного та змінного струмів.

### 2.2. Короткі теоретичні відомості

Електромагніти є основою багатьох електротехнічних пристроїв. Вони дуже різноманітні за призначенням і конструктивним виконанням. Значна частина електромагнітів використовується для здійснення поступального або обертового переміщення, для створення утримуючої сили. Дія таких електромагнітів зумовлена силою взаємодії феромагнітного тіла з зовнішнім магнітним полем. Тому їх називають тяговими електромагнітами.

На рис. 2.1 зображено магнітне коло тягового електромагніта. Воно складається з намагнічуючої котушки 1; нерухомої частини (ярма) 2; і рухомої частини (якоря) 3. Ярмо і якір розділяє повітряний проміжок  $\delta_0$ .

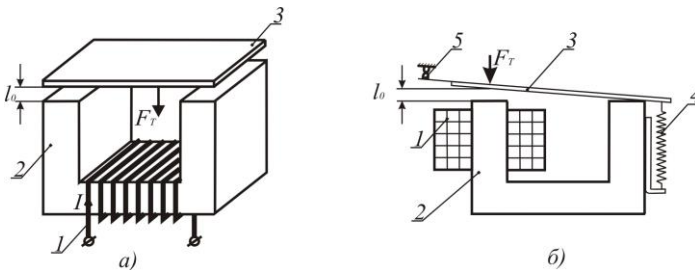


Рис. 2.1

При протіканні струму в котушці з кількістю витків  $W$  виникає намагнічуюча сила  $F = IW$ , яка збуджує магнітне поле (магнітний потік), магнітні силові лінії якого замикаються через нерухоме ярмо (магнітопровід), повітряний проміжок і якір.

При цьому звернені одна до одної поверхні нерухомого ярма і рухомого якоря намагнічуються різнополярно і притягуються з силою

$F_T$  яку називають тяговою електромагнітною силою, а пристрій - електромагнітом. Якір механічно зв'язаний з механізмом, який необхідно перемістити.

Другим прикладом електромагнітного механізму є реле струму (рис. 2.1,б), яке широко використовується в автоматичі. Реле складається з намагнічуючої котушки 1, ярма 2, якоря 3, протидіючої пружини 4 і електричних контактів 5. Електротягова сила  $F_T$ , що діє на якір в напрямку зменшення повітряного проміжку  $\delta_0$ , долаючи опір пружини 4, притягує якір до ярма. При цьому контакти 5 (група контактів) розмикаються, комутуючи відповідне електричне коло.

При зміні повітряного проміжку  $\delta_0$  змінюється магнітний опір магнітного кола  $R_\mu$ , що призводить до зміни величини магнітного потоку

$$\Phi = \frac{IW}{R_\mu},$$

а значить і електротягової сили  $F_T$ . Залежність сили  $F_T = f(g)$ , де  $g$  – узагальнена координата положення рухомої частини ( $\delta_0$ ,  $\alpha$  тощо), які змінюються під дією цієї сили, називається тяговою характеристикою електромагніта. Електромагнітна тягова сила діє завжди в напрямку такої зміни координати  $g$ , при якій зменшується довжина силових ліній, при цьому одночасно зменшується магнітний опір  $R_\mu$  кола електромагніта і збільшуються магнітний потік  $\Phi$ , індуктивність котушки збудження та енергія магнітного поля.

В загальному випадку електромагнітна тягова сила при  $I = const$  визначається за формулою

$$F_T = -\frac{\partial W}{\partial g},$$

де  $W$  – енергія магнітного поля електромагніта.

Для електромагніта, наведеного на рис. 2.1,а, величина тягової сили

$$F_T = -\frac{\partial W}{\partial l_0} = \frac{B_0^2}{2\mu_0} S = \frac{\Phi^2}{2\mu_0 S'}, \quad [H] \quad /2.1/$$

де  $B_0 = \frac{\Phi}{S}$  - магнітна індукція в повітряному проміжку,  $[Тл]$ ;  
 $\mu_0 = 4\pi \cdot 10^{-7} \text{ Гн/м}$  - магнітна проникність повітря;  $S$  - площа взаємодії ярма і якоря,  $[м^2]$ ;  $\Phi$  - магнітний потік між ярмом і якорем,  $[Вб]$ .

Тягова сила, яка діє на якір реле струму (рис. 2.1,б),

$$F_T = -\frac{\partial W}{\partial l} = 6.3 \cdot 10^{-7} (IW)^2 \frac{S}{\delta^2}, \quad /2.2/$$

і тягова характеристика має вигляд, наведений на рис. 2.2.

Змінюючи геометрію (конфігурацію) електромагнітів, формують їх тягові характеристики відповідно до вимог конкретного електромагнітного механізму.

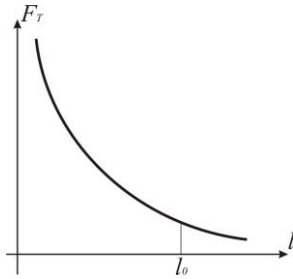


Рис. 2.2

Котушки електромагнітів можуть живитись як від постійного струму (електромагніти постійного струму), так і від джерела змінного струму (електромагніти змінного струму). Тягові характеристики і конструктивне виконання електромагнітів змінного і постійного струму мають суттєві відмінності.

Магнітний потік, який збуджується котушкою, по якій проходить неперіодичний змінний струм, теж періодично змінюється за величиною і напрямком. При синусоїдній формі напруги живлення котушки електромагніта струм в котушці також буде синусоїдним і магнітний потік

$$\Phi(t) = \Phi_m \sin \omega t$$

і згідно з формулою /2.1/ електромагнітна тягова сила

$$F_T(t) = \frac{\Phi^2}{2\mu_0 S} = \frac{\Phi_m^2}{2\mu_0 S} \sin^2 \omega t. \quad /2.3/$$

На рис. 2.3 зображені електромагніт і графіки зміни в часі магнітного потоку і тягової сили. Із наведених графіків видно, що

тягова сила буде змінюватись (пульсувати) від нуля до максимального значення з подвійною частотою відносно частоти напруги живлення.

Зазвичай, переміщенню якоря електромагніта протидіє сила пружини  $F_n$ . В момент часу, коли сила  $F_T > F_n$ , якір притягується до ярма, а коли  $F_T < F_n$  пружина відтягує якір. В результаті якір рухається зворотно-поступально з подвійною частотою мережі і невеликою амплітудою, що супроводжується звуковим ефектом. Це явище використовують для створення електромагнітних вібраторів, електромолотів тощо.

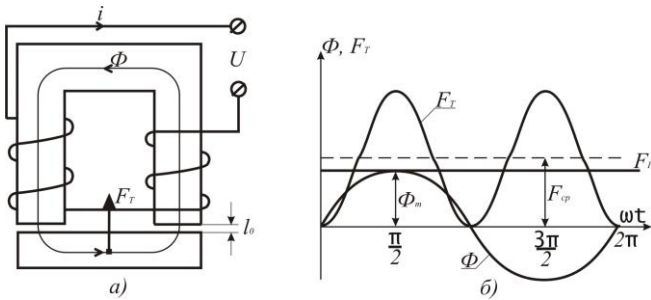


Рис. 2.3

Для усунення вібрацій в тягових електромагнітах застосовують додаткові засоби, які унеможливають зменшення тягової сили нижче сили пружини. Одним із таких засобів є розчеплення одного з полюсів магнітопровода на дві частини і накладання на одну з них короткозамкнутого витка або декількох витків, як зображено на рис. 2.4. Часто короткозамкнену обмотку виконують у вигляді мідного кільця і називають її екраном.

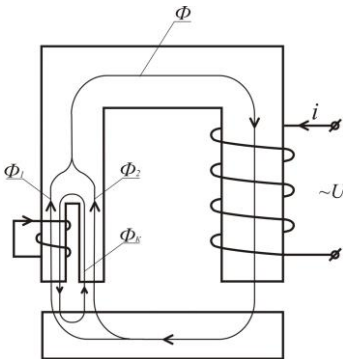


Рис. 2.4

Дія короткозамкнутого витка така: створений обмоткою збудження магнітний потік  $\Phi = \Phi_m \sin \omega t$  в розщепленому полюсі ділиться на потоки  $\Phi_1$  і  $\Phi_2$ . Магнітний потік  $\Phi_1$ , пронизуючи короткозамкнений виток,

індукує в ньому електрорушійну силу взаємоіндукції  $e_K = -\frac{d\Phi_1}{dt} = -\Phi_m \omega \cos \omega t$ , як у вторинній обмотці однофазного трансформатора в режимі короткого замикання. Ця е.р.с., зсунута в часі відносно потоку  $\Phi_1$  на кут  $\pi/2$ , зумовлює протікання струму  $i_K = \frac{e_K}{Z_K}$ , де  $Z_K$  - повний опір короткозамкнутого витка. Цей струм великий, бо опір  $Z_K$  дуже малий. Протікання струму  $i_K$  супроводжується магнітним потоком  $\Phi_K$ , який направлений проти потоку  $\Phi_1$  і співпадає з потоком  $\Phi_2$ . Магнітний потік  $\Phi_K$ , зсунутий в часі відносно потоків  $\Phi_1$  і  $\Phi_2$ , бо е.р.с.  $e_K$  зсунута відносно  $\Phi_1$  на кут  $\pi/2$ . В результаті в розщепленій частині магнітного полюса створюються різні магнітні потоки як за амплітудою, так і за фазою. Зумовлені цими магнітними потоками тягові сили будуть пульсуючими, але їх нульові значення будуть зсунуті в часі. В результаті тягова сила електромагніта буде змінною, але мінімальні значення будуть більшими нуля. Підбором площ розщеплених частин полюса і параметрів короткозамкнутого витка добиваються того, що мінімальні значення результуючої тягової сили більші за силу пружини, як зображено на рис. 2.5.

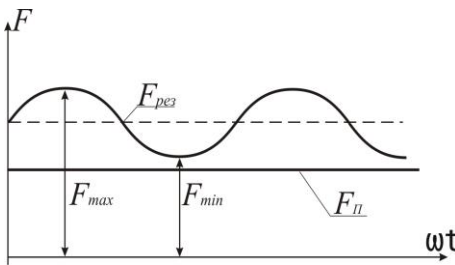


Рис. 2.5

Особливістю електромагнітів змінного струму на відміну від електромагнітів постійного струму є те, що струм в котушці збудження залежить від величини повітряного проміжку. Це зумовлено тим, що магнітний опір кола

$$R_{\mu} = R_{\mu F} + R_{\delta l} = \frac{l_F}{\mu_F S} + \frac{\delta}{\mu_0 S},$$

де  $R_{\mu F}$  - магнітний опір магнітопроводу;  $R_{\mu \delta}$  - магнітний опір повітряного проміжку,  $\mu_F$  - магнітна проникливість матеріалу, з якого виготовлений магнітопровід;  $\mu_0$  - магнітна проникливість



повітря, яку приймають рівною магнітній проникливості вакууму;  
 $S$  - площа поперечного перерізу магнітопроводу.

Оскільки магнітна проникливість листової електротехнічної сталі, з якої виготовлений магнітопровід, значно більша  $\mu_0$  [ $\mu_0 = 4\pi \cdot 10^{-7} \text{ Гн/м}$ ,  $\mu_F = \mu_0(10^2 \dots 10^5)$ ], то можна вважати, що магнітний потік обернено-пропорційний величині повітряного проміжку згідно закону Ома для магнітного кола  $\left( \Phi \approx \frac{F}{R_{\mu\delta}} = \frac{F}{\delta} \mu_0 S \right)$ .

Отже, великому (початковому) повітряному проміжку буде відповідати мінімальний магнітний потік, мінімальним буде індуктивний опір котушки  $x_{L\min} = L_{K\min} \omega$  і максимальним буде струм

$$I_{\max} = \frac{U}{Z_K} = \frac{U}{\sqrt{r_K^2 + x_{L\min}^2}}, \quad /2.4/$$

де  $U$  - напруга живлення котушки.

По мірі зменшення повітряного проміжку магнітний потік і відповідно опір котушки будуть збільшуватись, а струм в котушці – зменшуватись. Відношення початкового струму ( $\delta = \delta_0$ ) до усталеного ( $\delta = 0$ )

$$\frac{I_{\max}}{I_{\min}} = 10 \dots 15. \quad /2.5/$$

Співвідношення /2.5/ показує, що тривале живлення електромагнітів змінного струму при розімкнутому магнітопроводі ( $\delta \neq 0$ ) призведе до перегріву котушки. Перегріву котушок збудження електромагнітів постійного струму не буває, оскільки струм не залежить від повітряного проміжку.

## 2.3 Програма роботи

1. Ознайомитись з будовою Ш-подібного електромагніта і магніта соленоїдного типу

2. Зняти тягові характеристики  $F = f(\delta)$  Ш-подібного електромагніта при живленні котушки збудження від джерела постійної і змінної напруги.

3. Зняти тягові характеристики  $F = f(\delta)$  електромагніта з внутрішнім лінійним переміщенням при живленні котушки збудження від джерела постійної і змінної напруги.

4. Зробити порівняльний аналіз отриманих результатів.

## 2.4. Опис лабораторної установки

Лабораторна установка складається з Ш-подібного електромагніта з лінійним переміщенням якоря та електромагніта соленоїдного типу, пружинного динамометра, набору немагнітних каліброваних прокладок, джерел живлення постійного і змінного струмів та вимірювальних приладів.

Електрична схема під'єднання Ш-подібного електромагніта до джерела живлення змінного струму наведена на рис. 2.6.

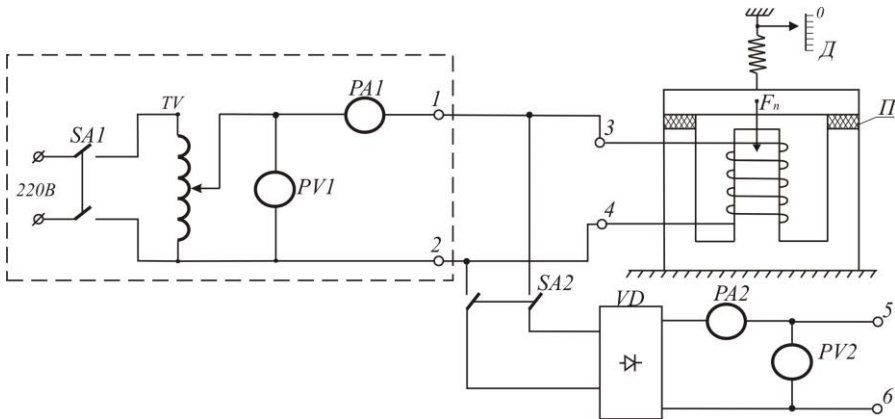


Рис. 2.6.

Частина схеми, виділена на рис. 2.6. пунктирними лініями, розміщена на лабораторному столі. Вона складається із вимикача SA1, лабораторного автотрансформатора TV, вольтметра PVI і амперметра PA1. До клем 1-2 під'єднують котушку досліджуваного електромагніта при живленні його змінним струмом. На переносному стенді розташовані два електромагніти з пристроями вимірювання

сили тяги, перемикач  $SA2$ , випрямляч  $VD$ , набір немагнітних прокладок  $П$ , амперметр  $PA2$  для вимірювання постійного струму та клем 5-6 для під'єднання котушок електромагнітів при живленні їх постійним струмом.

## 2.5. Порядок виконання роботи

1. Ознайомитись з конструкціями Ш-подібного і соленоїдного електромагнітів та з пристроями вимірювання сили тяги. Під'єднати до клем 1-2, які розташовані на панелі лабораторного стола, вимикач  $SA2$  і котушку Ш-подібного електромагніта. Після перевірки електричної схеми викладачем приступають до проведення експериментів.

2. Тягові характеристики Ш-подібного електромагніта  $F_T = f(\delta)$  при живленні котушки збудження змінним і постійним струмом знімають у такій послідовності:

- ручку автотрансформатора  $TV$  переводять в нульове (крайнє ліве) положення і вмикають вимикач  $SA1$ ;

- плавно збільшують напругу на виході автотрансформатора  $TV$  до тих пір, поки якір не притягнеться до ярма, при цьому пружина динамометра не повинна натягуватись. Покази амперметра  $PA1$  і вольтметра  $PV1$  заносять в табл. 2.1. Потім за допомогою важеля плавно збільшують силу тяги пружинного динамометра доти доки якір не відірветься від ярма. В цей момент за шкалою визначають силу тяги динамометра  $F_\delta$ , яка буде дорівнювати силі тяги електромагніта  $F_T$ . Силу  $F_\delta$  фіксують в кг, а потім перераховують її в ньютони за формулою  $F_T = gF_\delta$ , де  $g = 9,81 \text{ м} \cdot \text{с}^{-2}$ . Ці дані заносять в табл. 2.1;

- потім ручку автотрансформатора знову переводять в нульове положення і вмикають вимикач  $SA1$ ; котушку електромагніта відмикають від клем 1-2 і під'єднують до клем 5-6; вмикають вимикачі  $SA1$  і  $SA2$  і далі плавно збільшують напругу автотрансформатором доти, доки не притягнеться якір до ярма. Покази амперметра  $PA2$  і вольтметра  $PV2$  заносять в табл. 2.1. Після цього визначають силу відриву якоря від ярма, перераховують її у ньютони і ці дані заносять в табл. 2.1.

При цих експериментах повітряний проміжок  $\delta = 0$ .

Таблиця 2.1

№ п/п	$\delta$ , мм	Змінний струм					Постійний струм					$x_L$ Ом
		$U$ , В	$I$ , А	$F_{\delta}$ , кГ	$F_T$ , Н	$Z_k$ , Ом	$U$ , В	$I$ , А	$F_{\delta}$ , кГ	$F_T$ , Н	$r_k$ , Ом	
1	0											
2	0,5											
3	1,0											
4	2,0											
5	3,0											
6	4,0											

Крім того, вираховують повний опір котушки електромагніта  $Z_k = \frac{U}{I}$ , опір при постійному струму  $r_k = \frac{U}{I}$ , а також індуктивний опір  $x_L = \omega L = 50 \sqrt{Z_k^2 - r_k^2}$ .

Наступну точку характеристик визначають для  $\delta = 0,5$  мм. Для цього калібровані пластини товщиною 0.5 мм встановлюють в проміжки між якорем і ярмом так, як зображено на рис. 2.6, і дослід повторюють за вищенаведеною методикою. Аналогічно знімають точки тягових характеристик для  $\delta = 1.0; 2.0; 3.0$  і 4.0 мм.

За даними експериментів і розрахунків в одних координатах будують залежності  $F_T = f(\delta)$  при живленні котушок електромагнітів постійним і змінним струмом і характеристику  $x_L = f(\delta)$ . За видом цієї характеристики зробити висновок про зміну струму при спрацюванні електромагніта.

3. Тягові характеристики електромагніта соленоїдного типу знімають також при живленні котушки збудження постійним і змінним струмом за методикою, описаною вище. Натяг пружини динамометра здійснюють за допомогою гвинта і гайки. Дані вимірювань і обчислень заносять в табл. 2.2.

За даними табл. 2.2 в одних координатах будують характеристики  $F_T = f(\delta)$  при живленні котушки електромагніта постійним і змінним струмом, а також залежність  $F_T = f(I_k)$ .

Таблиця 2.2

№ п/п	$\delta$ , мм	Змінний струм			Постійний струм		
		$I_k$ , А	$F_g$ , кг	$F_T$ , Н	$I_k$ , А	$F_g$ , кг	$F_T$ , Н
1	0						
2	0,5						
3	1,5						
4	3						
5	6						
6	10						

За даними досліджень роблять висновки про відмінності роботи електромагнітів при живленні їх котушок збудження постійним і змінним струмами.

## 2.6. Контрольні запитання

1. Яку залежність відображає тягова характеристика електромагніта?
2. Який вид має тягова характеристика електромагніта?
3. Для чого необхідно знати тягові характеристики електромагнітів?
4. Чому при живленні котушки електромагніта змінним струмом сила тяги не змінює свого напрямку?
5. З якою метою магнітопроводи електромагнітів змінного струму виконують з тонкої листової електротехнічної сталі?
6. Що може бути причиною виникнення вібрації якоря в електромагнітах змінного струму?
8. Від чого залежить струм в котушці електромагніта змінного струму?
9. Від чого залежить струм в котушці електромагніта постійного струму?
10. Чому після виключення електромагніта його якір рухається зі змінним прискоренням?

## Робота 3. Дослідження характеристик трифазного синхронного генератора

### 3.1. Мета роботи

Вивчити будову і принцип дії трифазного синхронного генератора та дослідити основні його характеристики.

### 3.2. Короткі теоретичні відомості

Трифазні синхронні генератори призначені для перетворення механічної енергії в електричну. За їх допомогою виробляється електрична енергія на електричних станціях. На теплових і атомних електростанціях генератори приводяться в рух паровими турбінами, а на гідроелектростанціях – гідравлічними турбінами. Синхронні генератори також використовують на пересувних дизельних електростанціях. Отже, основним джерелом електричної енергії є синхронні трифазні генератори. Їх виготовляють на одиничні потужності від десятків ват до мільйона кіловат.

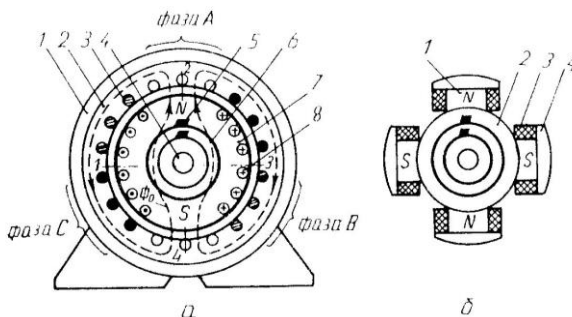


Рис. 3.1

Синхронний генератор складається з двох основних частин: нерухомого статора і ротора, який обертається первинним двигуном (рис. 3.1). Статор представляє собою сталевий корпус 1, в якому закріплене циліндричне осердя 2, виготовлене з листів електротехнічної сталі. В пазах осердя розташовані три однофазні обмотки, які зміщені по колу одна від однієї на 120 електричних градусів. Обмотки 3, як правило, з'єднують зіркою з метою створення трифазної системи струмів. Фазні обмотки називають фазами і

позначають латинськими літерами  $A$ ,  $B$  і  $C$ .

Ротори синхронних генераторів бувають з неявно вираженими і явно вираженими полюсами. Ротор з неявно вираженими полюсами 7 представляє собою суцільний сталений циліндр, в пазах якого розміщена обмотка збудження 8. На валу 4 закріплені два кільця 6, на які через щітки 5 подається напруга постійного струму. Такі ротори виготовляють на швидкість обертання 3000 об/хв.

Явно полюсний ротор (рис 3.1,б) складається із сталюого обвода 2, на якому закріплені виготовлені із листової електротехнічної сталі полюси 1, обмоток збудження 3, полюсних наконечників 4, вала з двома кільцями і щіток. Кількість пар полюсів  $p$  при частоті змінного струму  $f = 50 \text{ Гц}$  зв'язана з швидкістю обертання ротора залежністю

$$p = \frac{60f}{n_p} = \frac{3000}{n_p}, \quad /3.1/$$

де  $n_p$  - швидкість обертання ротора в обертах за хвилину.

Принцип роботи синхронного генератора полягає в наступному. Якщо в обмотці збудження буде протікати постійний струм  $I_z$ , то він спричинить появу магнітного потоку  $\Phi_0$ . Цей магнітний потік, як зображено на рис. 3.1,а пунктирними лініями, буде проходити по осердям ротора і статора, а також через повітряні проміжки між ротором і статором. При обертанні ротора первинним двигуном разом з ним буде обертатись і магнітний потік, який, перетинаючи провідники в обмотках статора, буде індукувати в них е.р.с. однієї амплітуди і частоти, але зсунуті в часі на  $120^\circ$ . Щоб при постійній швидкості обертання ротора в обмотках статора індукувались синусоїдні е.р.с., магнітна індукція вздовж повітряного проміжку між ротором і статором повинна змінюватись також за синусоїдним законом. В генераторах з явно вираженими полюсами це досягається відповідною зміною величини повітряного проміжку між наконечниками полюсів і статором (рис. 3.2), а в роторах з неявно вираженими полюсами – відповідним розміщенням обмотки в пазах ротора. За цих умов у фазних обмотках статора будуть індукуватись е.р.с., миттєві значення яких визначатимуться такими співвідношеннями:

$$\begin{aligned}
 e_A &= E_m \sin \omega t; \\
 e_B &= E_m \sin(\omega t - 2\pi/3); \\
 e_C &= E_m \sin(\omega t + 2\pi/3),
 \end{aligned}
 \tag{3.2}$$

де  $E_m = 4,44k\omega f\Phi_0$  - амплітуда е.р.с.;  $\omega$  - кількість витків однієї фази обмотки статора;  $k$  - обмоточний коефіцієнт;  $f = \frac{pn_p}{60}$  - частота е.р.с. в обмотках статора.

Щоб частота бала 50 Гц при різних швидкостях обертання ротора, синхронні генератори виготовляють з різною кількістю пар полюсів. Так, турбогенератори виготовляють на швидкість обертання 3000 об/хв і мають одну пару полюсів ( $p=1$ ). Гідрогенератори в залежності від напору води виготовляють на швидкості від 50 до 750 об/хв і вони мають відповідно від 60 до 4 пар полюсів.

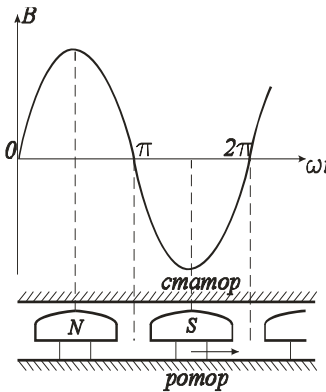


Рис.3.2.

При роботі синхронної машини під навантаженням трифазна система е.р.с. зумовлює трифазну систему струмів, яка створює магнітне поле, швидкість обертання якого

$$n_0 = \frac{60f}{p} = n_p.
 \tag{3.3}$$

Рівність /3.3/ показує, що магнітні поля статора і ротора обертаються синхронно. Від цього і походить назва синхронних машин.

Основними характеристиками генератора є характеристика холостого ходу, зовнішня та регульовальна характеристики.

Характеристика холостого ходу представляє собою залежність е.р.с. генератора від струму збудження  $E = f(I_z)$  при струмі статора  $I = 0$  і  $n_p = const$ . Оскільки е.р.с. пропорційна основному магнітному потоку  $\Phi_0$ , який залежить від струму збудження, то  $E = f(I_z)$  буде повторювати залежність  $\Phi_0 = f(I_z)$  тільки в іншому масштабі. Отже, характеристика холостого ходу буде подібна до



характеристики намагнічування сталі, із якої виготовлені ротор і статор машини. Якщо знехтувати залишковим магнетизмом, то характеристика холостого ходу генератора буде мати вигляд, наведений на рис. 3.3. При збільшенні  $I_z$  е.р.с. майже лінійно зростає, а потім із-за насичення швидкість зростання знижується. Точка А відповідає номінальному режиму роботи генератора і знаходиться на перегині кривої.

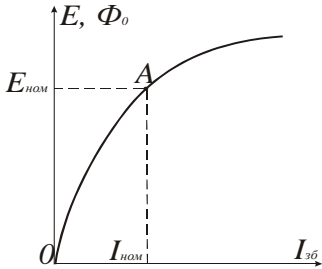


Рис.3.3.

Зовнішня характеристика – це залежність напруги на клеммах генератора від струму навантаження  $U = f(I)$  при постійних значеннях коефіцієнта потужності  $\cos\varphi$ , струму збудження і швидкості обертання ротора. Залежність фазної напруги синхронного генератора від струму описується векторним рівнянням

$$\bar{U} = \bar{E} - Z\bar{I}, \quad /3.4/$$

де  $Z = \sqrt{r^2 + x_L^2}$  - повний опір фазної обмотки;  $r$  і  $x_L$  - відповідно її активний і індуктивний опори. Зміщення у часі струму відносно е.р.с., залежить не тільки від  $Z$ , але і від зміщення в часі струму відносно напруги, тобто коефіцієнта навантаження  $\cos\varphi$ . Щоб виключити вплив  $\cos\varphi$  на вид залежності  $U = f(I)$ , її аналізують при  $\cos\varphi = const$ , який може бути як від'ємним (активно-ємнісне навантаження), так і додатним (активно-індуктивне навантаження).

При симетричному навантаженні генератора (при рівних модулях фазних струмів) кожний фазний струм супроводжується магнітним потоком  $\Phi_\phi$ . Частина цього потоку замикається навколо провідників обмотки, не виходячи за межі статора (потік розсіювання). Потік розсіювання визначає індуктивний опір  $x_L = \omega L$ . Основна частина магнітного потоку кожної фази  $\Phi_a$  замикається через полюси ротора, утворюючи обертове магнітне поле, яке обертається з частотою ротора. Отже, магнітні поля ротора і статора взаємно нерухомі, вони взаємодіють, утворюючи результуючий магнітний потік

$$\bar{\Phi} = \bar{\Phi}_p + \bar{\Phi}_a. \quad /3.5/$$

Взаємодію магнітних потоків статора і ротора за аналогією з машинами постійного струму називають реакцією якоря. Отже, в результаті реакції якоря е.р.с. статора буде залежати і від струму статора, бо вона створюється результуючим магнітним потоком.

Зазвичай, аналіз рівнянь у векторній формі проводять на підставі векторних діаграм при різних навантаженнях. Розглянемо спочатку векторну діаграму при активно-індуктивному навантаженні.

При побудові векторних діаграм в якості основного вектора вибирають вектор е.р.с.  $\bar{E}$  (рис. 3.4), від якого під кутом  $\psi$  проводимо вектор струму  $\bar{I}$ . У відповідності з рівнянням /3.4/ напруга на клемі генератора  $\bar{U}$  менша е.р.с.  $\bar{E}$  на величину падіння напруги на

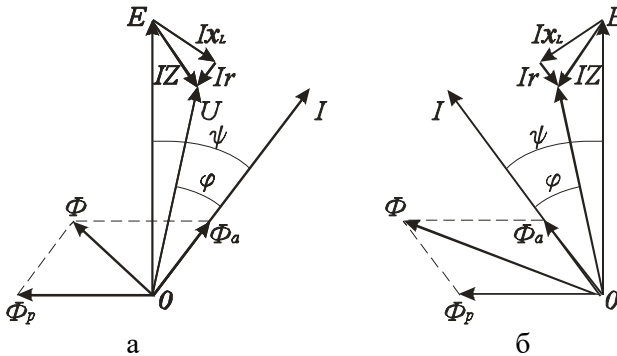


Рис. 3.4.

повному опорі, рівному  $Z\bar{I}$ . Для побудови цього вектора відкладають з кінця вектора  $\bar{E}$  перпендикулярно до вектора  $\bar{I}$  вектор падіння напруги на індуктивному опорі  $x_L I$ , і паралельно вектору  $\bar{I}$  - вектор падіння напруги на активному опорі  $rI$ . З'єднавши точку  $0$  з кінцем вектора  $rI$  (кінцем вектора  $Z\bar{I}$ ), одержимо вектор напруги  $\bar{U}$ . Кут  $\varphi$  між вектором  $\bar{I}$  і  $\bar{U}$  визначає характер навантаження.

Магнітні потоки ротора і статора, які стали за величиною і які обертаються з постійною швидкістю, можна замінити потоками, які змінюються за синусоїдним законом як і е.р.с. і струм. Тому на векторах е.р.с. напруг і струму (рис. 3.4,а) можна побудувати вектори магнітних потоків ротора і статора згідно рівняння /3.5/ і визначити результуючий магнітний потік генератора.

Е.р.с., яка створена магнітним потоком полюсів  $\overline{\Phi}_p$ , відстає від нього на кут  $\pi/2$ . Потік статора  $\Phi_a$  співпадає за напрямком зі струмом, який його створив. Сума векторів  $\overline{\Phi}_p$  і  $\overline{\Phi}_a$  дає результуючий потік генератор, що і зображено на рис. 3.4,а.

Із побудованої векторної діаграми видно, що при  $\cos\varphi = const$  зі збільшенням струму буде збільшуватись падіння напруги на повному опорі фазної обмотки статора і напруга буде зменшуватись. Одночасно буде зменшуватись результуючий магнітний потік із-за збільшення магнітного потоку статора  $\overline{\Phi}_a$ , що призведе до зменшення е.р.с. і ще більшого зменшення напруги генератора. Тому залежність  $U = f(I)$  є нелінійною, як показано на рис. 3.5 (крива 1).

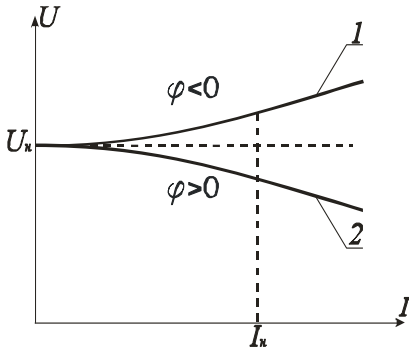


Рис. 3.5.

збільшується падіння напруг на опорах обмотки статора (крива 1 на рис. 3.5).

На рис. 3.4,б наведена векторна діаграма при активно-ємнісному навантаженні. Вона відрізняється від діаграми при активно-індуктивному навантаженні тим, що струм випереджає е.р.с. В результаті цього результуючий магнітний потік генератора збільшується зі збільшенням струму. Це призводить до

збільшення е.р.с. , хоча одночасно

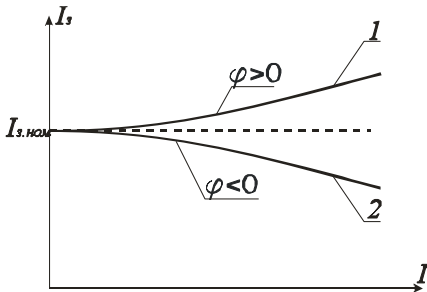


Рис. 3.6.

Зазвичай, синхронні генератори електричних станцій працюють на загальну мережу, в якій напруга  $U = const$ . Тому сталою повинна бути напруга на клеммах кожного генератора незалежно від величини і характеру навантаження. Цього добиваються тим, що при збільшенні струму відповідним

чином змінюють струм збудження.

Як залежить струм збудження при  $\cos\varphi = \text{const}$  і  $n_p = \text{const}$  від струму статора, за умови  $U = \text{const}$ , показує регульовальна характеристика  $I_s = f(I)$ .

На рис. 3.6 наведені регульовальні характеристики для різних значень  $\cos\varphi$ . Із них видно, що при активно-індуктивному навантаженні, коли  $\varphi \geq 0$  (крива 1), необхідно збільшувати струм збудження при збільшенні струму статора, а при активно-ємнісному, коли  $\varphi < 0$  (крива 2), - зменшувати. Такі залежності  $I_s = f(I)$  зумовлені дією реакції якоря і узгоджуються як з векторними діаграмами, так і з зовнішніми характеристиками.

### 3.3 Програма роботи

1. Вивчити будову і принцип дії трифазного синхронного генератора.
2. Ознайомитись з лабораторним стендом для дослідження характеристик синхронного генератора.
3. Зняти характеристики холостого ходу, зовнішню і регульовальну.
4. Побудувати векторну діаграму при активно-індуктивному навантаженні.

### 3.4. Опис лабораторної установки

Лабораторна установка для дослідження характеристик трифазного синхронного генератора з явно вираженими полюсами (рис. 3.7) складається з синхронного генератора  $CG$ , автотрансформатора  $TV$  з випрямлячем  $B$  для живлення обмотки збудження генератора, трифазного рідинного реостата  $R_n$ , двигуна постійного струму з паралельним збудженням  $D$  і вимірювальних приладів.

Пуск двигуна постійного струму здійснюють за допомогою пускового реостата  $R_n$ , швидкість обертання регулюють зміною струму збудження реостатом  $R_s$ .

Ротор синхронного генератора має дві пари полюсів, його синхронна швидкість  $n_0 = 1500$  об/хв., що відповідає частоті напруги  $f = 50$  Гц, яка контролюється частотоміром  $PF$ . Прилад для вимірю

вання  $\cos\varphi$  дозволяє визначити характер навантаження, що необхідно знати для побудови векторної діаграми машини.

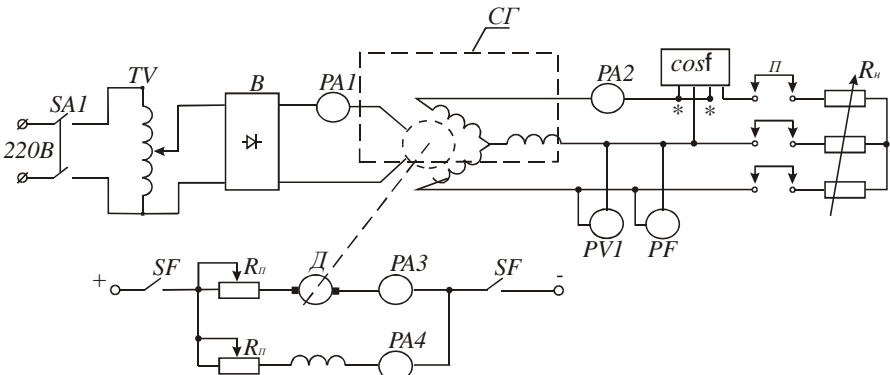


Рис. 3.7.

Щоби не перевантажити двигун постійного струму, передбачено контроль струму якоря амперметром  $PA3$ . Навантаження генератору створює водяний реостат  $R_n$ , який під'єднують до обмотки статора за допомогою перемичок. Електрична схема установки зібрана.

### 3.5. Порядок виконання роботи

1. Щоб детально вивчити будову синхронного генератора, його розібрано і всі частини розташовано окремо. Це дозволяє побачити розміщення магнітних полюсів ротора, обмотки збудження і контактних кілець, а також форму наконечників магнітних полюсів, яка забезпечує синусоїдний закон розподілу магнітної індукції у повітряному проміжку. Вивчаючи статор, слід звернути увагу на будову магнітопровода, на форму пазів і розташування обмоток.

2. Для успішного виконання роботи потрібно вивчити розташування на лабораторному стенді вимикачів, реостата для пуску двигуна постійного струму, засобів керування струмом збудження синхронного генератора і струмом збудження двигуна, пам'ятаючи, що зі зменшенням струму швидкість двигуна збільшується, а потужність не змінюється.

3. Для дослідження характеристики холостого ходу необхідно провести таку підготовчу роботу: зняти перемички  $\Pi$ , увімкнути

вимикач  $SA1$ , автотрансформатором  $TV$  встановити номінальний струм збудження, який вказаний на стенді. Після цього приступають до пуску двигуна: ручку пускового реостата  $R_n$  переводять у крайнє ліве положення, а повзунок реостата  $R_3$  – в крайнє праве; вимикачем  $SF$  подають постійну напругу на двигун, який почне розганятись. Поступово переводять ручку реостата  $R_n$  в крайнє праве положення, що призведе до збільшення швидкості обертання двигуна генератора. Якщо після пуску двигуна частота напруги генератора не буде рівною 50 гц, то, регулюючи струм збудження двигуна реостатом  $R_3$ , змінюють швидкість обертання доти, доки частотомір  $PF$  не покаже номінальну частоту  $f_n = 50 \text{ Гц}$ , що відповідатиме номінальній швидкості генератора  $n_0 = 1500 \text{ об/хв}$ . Покази вольметра  $PV1$  і амперметра  $PA1$  заносять в табл. 3.1 і це буде одна із точок характеристики  $E = f(I_3)$ .

Далі автотрансформатором  $TV$  збільшують струм збудження на 25-30% і фіксують ще дві точки характеристики. Після цього зменшують струм збудження від номінального до нуля і знімають ще 5-6 точок. При цьому контролюють частоту, яка не повинна змінюватись. За даними експерименту будують характеристику холостого ходу синхронного генератора  $E = f(I_3)$

Таблиця 3.1

$I_3, \text{ А}$	$I_{3,n}, \text{ А}$							
$E, \text{ В}$	220							

Зовнішня характеристика генератора представляє собою залежність напруги від струму навантаження  $U = f(I)$  при сталих значеннях коефіцієнта потужності  $\cos\varphi$ , швидкості обертання ротора  $n_0$  і струму збудження  $I_3$ . Щоби експериментально одержати зовнішню характеристику, необхідно навантажити генератор номінальним струмом  $I_n$  при номінальному стумі збудження  $I_3 = I_{3,n}$ . Для виконання цього експерименту треба зупинити генератор, відключивши двигун від мережі живлення вимикачем  $SF$ , поставити перемички  $\Pi$  і встановити максимальний опір реостата навантаження  $R_n$  шляхом підйому пластин поворотом ручки привода. Після цього провести вищеописаним методом пуск двигуна. Зміною швидкості двигуна

встановлюють частоту  $f = 50 \text{ Гц}$  при номінальному значенні струму збудження. Потім поступово зменшують опір реостата  $R_n$  доти, поки струм не досягне номінального значення  $I_n$ . Оскільки джерела живлення двигуна і обмотки збудження генератора невеликої потужності, то швидкість і струм збудження можуть зменшитися. Тому їх необхідно підрегулювати, щоби забезпечити  $f = 50 \text{ Гц}$  і  $I_3 = I_{3.n}$ . Покази амперметрів  $PA1$  і  $PA2$ , вольтметра  $PVI$ , частотоміра  $PF$  і значення  $\cos\varphi$  занести в табл. 3.2. Після зміною опору  $R_n$  зменшують струм навантаження до мінімально можливого значення і фіксують 5-6 точок зовнішньої характеристики. На протязі експерименту потрібно забезпечити  $f = 50 \text{ Гц}$  і  $I_3 = I_{3.n} = \text{const}$ . Дані експерименту занести в табл. 3.2.

Таблиця 3.2

$U, \text{ В}$								$U_n$
$I, \text{ А}$	$I_n$							0
$I_3, \text{ А}$	$I_{3.n}$							
$f, \text{ Гц}$	50							
$\cos\varphi$								

За експериментальними даними будують залежність  $U = f(I)$ . Значення напруги при  $I=0$  взяти з табл. 3.1.

Оскільки при знятті зовнішньої характеристики не витримувалась умова  $\cos\varphi = \text{const}$ , то отримані експериментальні дані є наближеними, бо струм змінювали шляхом зміни активного, а не повного опору навантаження.

Регульовальна характеристика представляє собою залежність струму збудження від струму статора  $I_3 = f(I)$  при  $U = U_n = \text{const}$ ,  $\cos\varphi = \text{const}$  і  $f = 50 \text{ Гц}$  і її змінюють так: при мінімальному струмі навантаження і  $f = 50 \text{ Гц}$  збільшують струм доти, доки напруга не стане номінальною. Покази приладів заносять в табл. 3.3. Далі за допомогою реостата  $R_n$  збільшують струм до номінального і знімають іще 5-6 точок характеристики, регулюючи струм збудження, щоби в кожній точці характеристики були  $U = U_n$  і  $f = 50 \text{ Гц}$ . За експериментальними даними будують характеристику. При  $I=0$  приймають  $I_3 = I_{3.n}$ . Ця характеристика також буде наближеною, бо не дотримувалась умова  $\cos\varphi = \text{const}$ .

Таблиця 3.3

$I, A$	$0$						
$I_3, A$	$I_{3,n}$						
$U, B$	$U_n$						
$f, Гц$	$50$						
$\cos\varphi$							

4. Векторну діаграму синхронного генератора будують для навантаження  $I=0,5I_n$ ,  $E=E_n$  і кута зсуву фаз між е.р.с. і струмом, який відповідає експериментальному значенню  $\cos\varphi$  згідно табл. 3.2. Методика побудови викладена в розділі 3.2. Опори фазної обмотки вказані на лабораторному стенді.

### 3.6. Контрольні запитання

1. Чому трифазний генератор змінного струму назвали синхронним генератором?
2. Які за конструкцією бувають ротори синхронних генераторів?
3. Яке існує співвідношення між швидкістю обертання ротора, числом його полюсів і частотою змінного струму?
4. За рахунок чого фазні е.р.с. двополюсного генератора зсунуті в часі на кут  $2\pi/3$ ?
5. Як добиваються розподілу магнітної індукції у повітряному проміжку між полюсами і статором за синусоїдним законом?
6. Чому магнітні потоки ротора і статора рухаються у просторі з однаковою швидкістю?
7. Які характеристики синхронного генератора відносять до основних?
8. Чому при активно-емнісному навантаженні зі збільшенням струму статора напруга також збільшується?
9. Що показує регульовальна характеристика генератора?
10. Для чого будують векторну діаграму синхронного генератора?



## Робота 4. Дослідження характеристик трифазного асинхронного двигуна з короткозамкненим ротором

### 4.1. Мета роботи

Вивчити конструкцію, принцип дії та експериментально дослідити основні характеристики трифазного асинхронного двигуна з короткозамкненим ротором.

### 4.2. Короткі теоретичні відомості

Із всіх електричних двигунів найбільш простими за конструкцією, надійністю в експлуатації, довговічністю та дешевизною є асинхронні трифазні двигуни. Вони складають більше 85% електричних двигунів, які використовуються в промисловості, в будівництві, на транспорті, в сільському господарстві та в інших установках.

В електричному двигуні відбувається процес перетворення електричної енергії в механічну за рахунок взаємодії магнітних полів. Тому для розуміння принципу дії електричних двигунів змінного струму необхідно знати як і які утворюються магнітні поля при протіканні синусоїдного струму в їх обмотках.



Рис. 4.1.

Більшість електричних машин конструктивно представляє собою два коаксимальних циліндри, які відділені один від одного повітряним проміжком (рис.4.1). Циліндри зібрані із тонких листів електротехнічної сталі з метою зменшення втрат на вихрові струми. Зовнішній циліндр, звичайно нерухомий, називають статором, а внутрішній, який обертається - ротором.

В пази статора закладають обмотку.

При протіканні струму з нею зчіплюється магнітний потік, лінії магнітної індукції якого замикаються по тілу статора, повітряних проміжках і тілу ротора. Місце виходу ліній магнітної індукції із статора приймають за північний полюс, а місце входу їх в статор – за південний полюс магнітного поля статора.

Отже, при одній обмотці маємо поле з однією парою полюсів, як показано на рис.4.1. Якщо в пазах статора розмістити дві обмотки, осі яких змістити на кут  $\pi$ , то одержимо магнітне поле з двома парами полюсів.

Лінії магнітної індукції, які проходять поза обмоткою, зчіплюються зі всіма витками обмотки, а ті, що перетинають її, - лише з частиною витків. Тому магнітна індукція (магнітний потік на одиницю площі) на осі обмотки буде найбільшою, а перпендикулярно до неї - буде дорівнювати нулю. Оскільки опір магнітному потоку повітря і міді провідників обмотки, розташованих в пазах, великий, то магнітний потік, в основному, буде проходити між пазами і розподіл магнітної індукції вздовж внутрішнього кола статора буде мати ступінчастий вигляд, як показано на рис.4.2.

Щоби одержати аналітичну залежність розподілу індукції по колу, ступінчастий графік можна розкласти в ряд Фур'є і розглянути першу гармоніку. Для першої гармоніки магнітна індукція в повітряному проміжку має найбільше значення  $B_0$  на осі обмотки і дорівнює нулю на нейтральній лінії, яка перпендикулярна до осі обмотки. Для точки, зміщеної відносно осі на кут  $\alpha$ ,  $B = B_0 \cos \alpha$ .

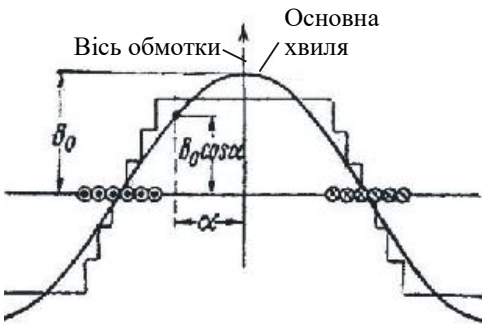


Рис.4.2.

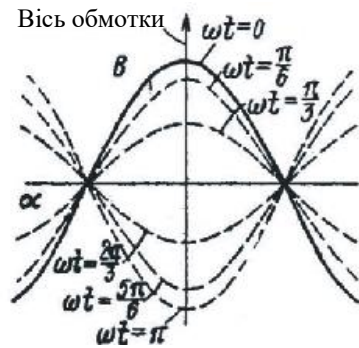


Рис.4.3.

Розподіл індукції за гармонічним законом вздовж кола статора, як показано на рис.4.2, відповідає вказаному напрямку струму в обмотці. Коли до обмотки прикласти синусоїдну напругу, то магнітний потік, який зчеплений з обмоткою, і магнітна індукція в будь-якій точці кола статора також будуть змінюватися за синусоїдним законом, тобто

$B_0 = B_m \cos \omega t$ . Позначивши максимальне значення індукції на осі обмотки через  $B_m$ , можна записати, що

$$B = B_0 \cos \alpha = B_m \cos \omega t \cos \alpha, \quad /4.1/$$

якщо рахунок часу вести з моменту, коли індукція має максимальне значення. Необхідно відмітити, що при зміні індукції в часі синусоїдний її розподіл по колу статора не буде порушуватися (змінюється лише амплітуда). На рис. 4.3. показані криві індукції для різних моментів часу (від  $\omega t = 0$  до  $\omega t = \pi$ ). Із цього рисунка видно, що вісь магнітного поля має незмінне положення у просторі і співпадає з віссю обмотки. Магнітне поле, яке має змінну амплітуду, а вісь якого не змінює свого положення у просторі, називається пульсуючим магнітним полем.

Пульсуюче магнітне поле не створює електромагнітного моменту. Його може створити магнітне поле, яке рухається. У 1885 р. італійський вчений В.Ферраріс відкрив явище обертового магнітного поля, яке було покладено в основу створення асинхронних двигунів.

Для створення обертового магнітного поля по колу статора розташували три обмотки, осі яких зсунуті одна відносно другої на кут  $2\pi/3$ , як показано на рис.4.4.

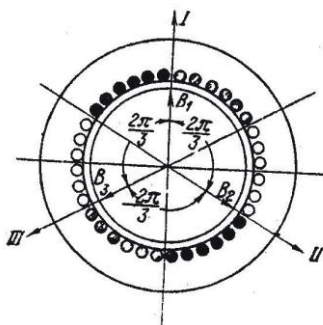


Рис.4.4.



Рис.4.5.

При живленні цих обмоток симетричною трифазною системою синусоїдних напруг виникають три пульсуючі магнітні поля, осі яких також будуть зсунуті на кут  $2\pi/3$ .

На рис.4.5 показана картина розподілу магнітної індукції у повітряному проміжку для випадку, коли в першій обмотці струм максимальний. Оскільки магнітний опір повітря сталий, то при визначенні результуючої індукції у будь-якій точці можна використати принцип накладання. Згідно з цим принципом миттєве значення результуючої індукції  $B$  у точці, зміщеної відносно осі першої обмотки на кут  $\alpha$ , дорівнюватиме

$$B = B_1 + B_2 + B_3, \quad /4.2/$$

де  $B_1, B_2, B_3$  – індукції, що створюють у цій точці пульсуючі поля, зв’язані з першою, другою і третьою обмотками.

Якщо відлік часу будемо вести від моменту, коли індукція на осі першої обмотки має максимальне значення, то, як і для одної обмотки згідно з /4.1/,

$$\begin{aligned} B_1 &= B_{10} \cos \alpha = B_m \cos \omega t \cdot \cos \alpha; \\ B_2 &= B_{20} \cos(\alpha + \frac{2\pi}{3}) = B_m \cos(\omega t - \frac{2\pi}{3}) \cos(\alpha + \frac{2\pi}{3}); \\ B_3 &= B_{30} \cos(\alpha + \frac{4\pi}{3}) = B_m \cos(\omega t - \frac{4\pi}{3}) \cos(\alpha + \frac{4\pi}{3}), \end{aligned} \quad /4.3/$$

де  $B_{10}, B_{20}, B_{30}$  – індукції на осях відповідних обмоток, а  $B_m$  – максимальне (амплітудне) значення на осі кожної обмотки.

Склавши рівняння /4.3/ і замінивши добуток косинусів сумою за формулою  $\cos \alpha \cdot \cos \beta = \frac{1}{2} [\cos \alpha (\alpha - \beta) + \cos(\alpha + \beta)]$ , одержимо

$$\begin{aligned} B &= \frac{B_m}{2} [3 \cos(\omega t + \alpha) + \cos(\omega t - \alpha) + \cos(\omega t - \alpha - \frac{4\pi}{3}) + \\ &+ \cos(\omega t - \alpha - \frac{8\pi}{3})] = \frac{3}{2} B_m \cos(\omega t + \alpha), \end{aligned} \quad /4.4/$$

тому що сума останніх трьох членів у рівнянні /4.4/ дорівнює нулю. У цьому легко переконатись, якщо використати формулу  $\cos(\alpha - \beta) = \cos \alpha \cdot \cos \beta + \sin \alpha \cdot \sin \beta$ .

Допустимо, що точка, в якій ми визначили індукцію, рухається по колу статора від осі першої обмотки з кутовою швидкістю  $\omega$  у від'ємному напрямку, тобто за годинниковою стрілкою. Тоді  $\alpha = -\omega t$  і в цій точці індукція

$$B = \frac{3}{2} B_m \cos(\omega t - \omega t) = \frac{3}{2} B_m. \quad /4.5/$$

Із рівняння /4.5/ слідує, що вісь результуючого магнітного поля обертається у від'ємному напрямку з кутовою швидкістю  $\omega$ , здійснюючи повний оберт за час, який дорівнює повному періоду змінного струму, що протікає в обмотці. Значення індукції на цій осі стає і дорівнює  $\frac{3}{2} B_m$ , а по колу статора індукція розподілена за синусоїдним законом.

Магнітне поле, вісь якого обертається, прийнято називати обертовим магнітним полем. Коли величина індукції у повітряному проміжку в точці, яка лежить на вісі обертового поля, не змінюється, то таке поле називають коловим обертовим полем, бо його можна представити вектором сталої довжини, кінець якого, рухаючись, описує коло.

Все сказане про обертове магнітне поле відноситься до випадку, коли обмотка статора складається із трьох секцій, зміщених у просторі на  $120^\circ$ , що відповідає одній парі полюсів ( $p=1$ ). Якщо збільшити число секцій в  $p$  разів, то кутова швидкість обертового магнітного поля буде в  $p$  разів меншою кутової частоти змінного струму, бо за період змінного струму  $T$  вісь поля повернеться на кут  $\frac{2\pi}{p}$ . Отже, в багатополосному двигуні кутова швидкість магнітного

поля  $\omega_0 = \frac{2\pi}{Tp} = \frac{2\pi f}{p}$ , де  $f$  – частота змінного струму. Оскільки

$\omega_0 = \frac{2\pi n_0}{60} = \frac{2\pi f}{p}$ , де  $n_0$  – швидкість в обертах за хвилину, то

$$n_0 = \frac{60f}{p}. \quad /4.6/$$

Асинхронний двигун як і синхронний генератор складається із статора і ротора. Статор представляє собою порожнистий циліндр, зібраний з тонких ізолюваних листів електротехнічної сталі. На внутрішній поверхні циліндра, в пазах, розміщена трифазна обмотка, яка вмикається в мережу трифазної напруги і створює обертове магнітне поле. Початки і кінці обмоток статора виведені на щиток. Якщо лінійна напруга в мережі  $U_{\text{л}} = 380 \text{ В}$ , то обмотки з'єднують зіркою, а коли  $U_{\text{л}} = 220 \text{ В}$  - то трикутником.

Ротор двигуна складається із осердя, зібраного як і статор із тонких листів електротехнічної сталі і закріпленого на валу, і обмотки, розміщеної в пазах. Обмотка короткозамкненого ротора представляє собою алюмінієві стержні, укладені в пази без ізоляції і замкнені з торців кільцями накоротко. За зовнішнім виглядом обмотка нагадує „колесо білки”.

Принцип дії асинхронного двигуна полягає у тому, що струм, протікаючи в обмотці, утворює магнітне поле, яке обертається відносно статора зі швидкістю  $n_0$ . Це магнітне поле індукуює в обмотці ротора трифазну систему е.р.с., котра зумовлює протікання трифазного струму. Трифазний струм створює своє магнітне поле, яке обертається відносно ротора зі швидкістю

$$n_p = \frac{60 f_p}{p}, \quad /4.7/$$

де  $f_p$  - частота струму в роторі. Частота струму в роторі згідно /4.7/

$$f_p = \frac{n_p p}{60} = \frac{n_0 - n}{60} p = \frac{n_0 - n}{n_0} \cdot \frac{n_0 p}{60} = f s, \quad /4.8/$$

де  $n$  – швидкість обертання ротора;  $s = \frac{n_0 - n}{n_0}$  - ковзання. У просторі магнітне поле буде рухатись зі швидкістю

$$n + n_p = n + \frac{60}{p} fs = n + n_0 s = n + \left( \frac{n_0 - n}{n_0} \right) n_0 = n_0, \quad \text{тобто магнітне}$$

поле, яке створюється струмом в обмотці ротора, обертається у просторі зі швидкістю магнітного поля статора. Однакова (синхронна) швидкість руху магнітних полів статора і ротора утворює електромагнітний момент і це спричиняє перетворення електричної енергії в механічну.

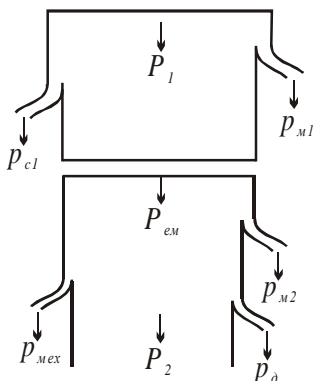


Рис. 4.6.

Будь-яке перетворення енергії одного виду в інший зв'язане з втратами. На рис. 13.6 показана енергетична діаграма двигуна, з якої видно, що підведена електрична потужність  $P_1 = \sqrt{3}U_1 I_1 \cos \varphi_1$ , витрачається на втрати в міді статора  $p_{m1}$  і в сталі (на гістерезис і перемагнічування)  $p_{cl}$ , а остання частина перетворюється у потужність магнітного потоку, що обертається (електромагнітна потужність  $P_{ем}$ ).

Електромагнітна потужність через повітряний проміжок передається на ротор. При протіканні струму в обмотці ротора мають місце втрати в міді  $p_{m2}$ . Втратами в сталі ротора нехтують, так як частота струму в ньому мала (1...3 Гц). Тому повна механічну потужність, яку розвиває двигун,

$$P_{мех} = P_{ем} - p_{m2}.$$

Корисна механічна потужність двигуна  $P_2$  менше потужності  $P_{мех}$  на величину механічних втрат  $p_{мх}$  на тертя і додаткових втрат  $p_д$ . Втрати  $p_д$  виникають в обмотках і сталі машини і зумовлені зубчастістю сталі статора і ротора і не цілком синусоїдним розподілом магнітного потоку у просторі. Ці втрати створюють додатковий гальмівний момент, як і механічні втрати, і тому їх додають до механічних втрат.

Отже, корисна потужність

$$P_2 = P_1 - (p_{m1} + p_{c1} + p_{m2} + p_{mx} + p_o) = P_1 - \Delta P. \quad /4.9/$$

Експлуатаційні показники роботи асинхронних двигунів визначають його механічна та робочі характеристики. До них відносять залежності потужність  $P_1$ , яку споживає двигун, струм статора  $I_1$ , ковзання  $s$ , коефіцієнт корисної дії  $\eta$  і коефіцієнт потужності  $\cos\phi$  від корисної потужності  $P_2$ . Характер цих залежностей можна вивести на підставі спрощеної заступної схеми.

На рис. 4.7 зображена схема, на якій прийняті такі позначення:  $U_\phi$  – фазна напруга живлення;  $I_1$  – фазний струм статора;  $I_2'$  – зведений до обмотки статора струм ротора;  $x_1$  і  $x_2'$  – реактивний опір обмотки статора і зведений до обмотки статора реактивний опір обмотки ротора;  $r_1$  і  $r_2'$  – активний і зведений опори обмоток статора і ротора;  $r_0$  і  $x_0$  – активний і реактивний опори контуру намагнічування (опори обмотки статора при холостому ході двигуна, тобто при  $n = n_0$ );  $I_0$  – струм контуру намагнічування;  $s = (n_0 - n) / n_0$  – ковзання ротора.

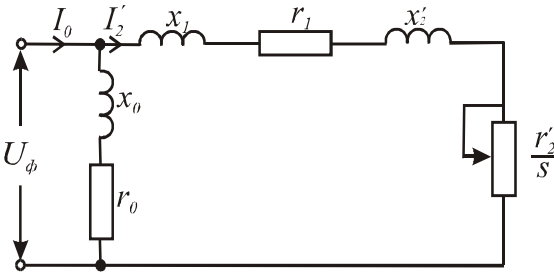


Рис.4.7.

Механічна характеристика асинхронного двигуна, як і будь-якого двигуна, представляє собою залежність швидкості обертання від моменту  $n = f(M)$ . Знайти аналітичний вираз  $n = f(M)$  досить складно.

Тому шукають залежність моменту від ковзання  $M = f(s)$ , знаючи, що швидкість двигуна

$$n = n_0(1 - s). \quad /13.10/$$



На підставі залежностей  $M = f(s)$  і  $n = f(s)$  будують механічну характеристику двигуна.

Момент, який розвиває асинхронний двигун, можна визначити із рівності втрати потужності в колі ротора втратам потужності на ковзання, а саме  $3(I'_2)^2 r'_2 = M\omega_0 s = \frac{2\pi}{60} Mn_0 s$ , звідки

$$M = \frac{3 \cdot 30(I'_2)^2 r'_2}{\pi n_0 s} . \quad /4.11/$$

У відповідності до заступної схеми зведений струм ротора

$$I'_2 = \frac{U_\phi}{\sqrt{(r_1 + r'_2/s)^2 + (x_1 + x'_2)^2}} . \quad /4.12/$$

Підставивши значення  $I'_2$  в /4.11/, одержимо

$$M = \frac{3 \cdot 30U_\phi^2 r'_2}{\pi n_0 [(r_1 + r'_2/s)^2 + (x_1 + x'_2)^2] s} . \quad /4.13/$$

Крива  $M = f(s)$  має два максимуми: один в генераторному режимі, коли  $n > n_0$ , другий – в режимі двигуна. Прирівнявши  $dM/ds = 0$ , визначають критичне значення  $s_\kappa$ , при якому момент двигуна досягає максимального (критичного) значення  $M_\kappa$ . Критичне ковзання

$$s_\kappa = \pm \frac{r'_2}{\sqrt{r_1^2 \pm (x_1 + x'_2)^2}} . \quad /4.14/$$

Підставивши значення  $s_\kappa$  в /4.13/, знаходять вираз для визначення критичного моменту

$$M_\kappa = \frac{3 \cdot 30U_\phi^2}{\pi n_0 \left[ r_1 \pm \sqrt{r_1^2 + (x_1 + x'_2)^2} \right]} . \quad /4.15/$$

Знак „+” в рівностях /4.14/ і /4.15/ відноситься до рушійного і гальмівного противмикання режимів, а знак „-” – до генераторного

режиму роботи двигуна паралельно з мережею живлення. Бо в цьому режимі він споживає з мережі струм намагнічування.

Якщо вираз /4.13/ розділити на /4.15/, то після нескладних перетворень одержимо

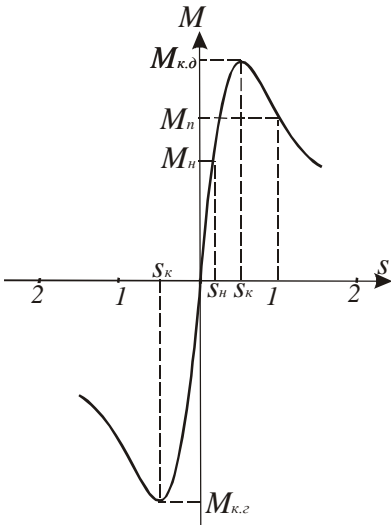
$$M = \frac{2M_{\kappa}(1 - as_{\kappa})}{\frac{s}{s_{\kappa}} + \frac{s_{\kappa}}{s} + 2as_{\kappa}}, \quad /4.16/$$

де  $a = r_1 / r_2'$ .

Із виразу /4.13/ видно, що момент двигуна пропорційний квадрату напруги, тобто момент двигуна дуже чутливий до коливань напруги в мережі. Так, при заданому ковзанні зменшенні напруги на 10% ( $U = 0.9U_{ном}$ ), момент зміниться на 19% ( $M = 0.91M_{ном}$ ), що необхідно враховувати при виборі потужності двигуна.

Критичне ковзання (формула 4.14) і швидкість ідеального холостого ходу (формула 4.16) не залежать від напруги.

На рис. 4.8 наведена характеристика  $M = f(s)$  асинхронного двигуна, яка має такі характерні точки: -  $s = 0$ ;  $M = 0$ , при цьому швидкість двигуна дорівнює синхронній;



-  $s = s_n$ ;  $M = M_n$ , що відповідає номінальному ковзанню і номінальному моменту;

-  $s = s_{\kappa}$ ;  $M = M_{\kappa.д}$  - критичне ковзання і максимальний момент в рушійному режимі роботи двигуна;

-  $s = 1.0$ ;  $M = M_n$  - початковий пусковий момент;

-  $s = -s_{\kappa}$ ;  $M = -M_{\kappa.г}$  - максимальний момент в генераторному режимі роботи двигуна.

При  $s > 1$  двигун працює в режимі гальмування противмиканням.

При  $s < 0$

має місце генераторний

Рис.4.8

мережею.

режим роботи двигуна паралельно з

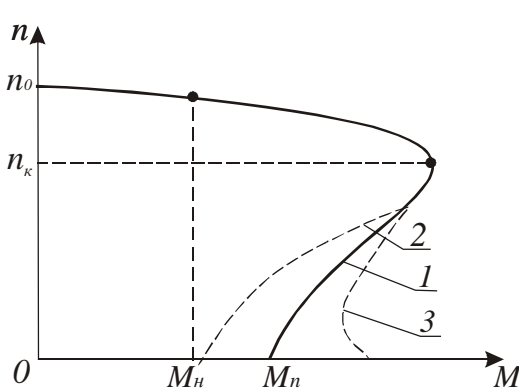
Якщо в рівнянні /4.16/ знехтувати активним опором обмотки статора, то отримаємо формулу, якою практично користуються при розрахунках:

$$M = \frac{2M_{\kappa}}{\frac{s}{s_{\kappa}} + \frac{s_{\kappa}}{s}}. \quad /4.17/$$

Підставивши в /4.17/ замість біжучих значень  $M$  і  $s$  їх номінальні значення  $s_n$  і  $M_n$  та позначивши  $M_{\kappa} / M_n = \lambda$ , одержимо

$$s_{\kappa} = s_n(\lambda + \sqrt{\lambda^2 - 1}). \quad /4.18/$$

На рис. 4.9 наведена механічна характеристика двигуна, ротор якого має круглі пази. Ділянка характеристики від  $n = n_0$  до  $n = n_{\kappa}$  відповідає рівнянню /4.17/. На ділянці від  $n_{\kappa}$  до 0 дійсні значення



моменту (крива 1) значно відрізняються від розрахункових (крива 2). Відношення пускового моменту до номінального  $M_n / M_n$  знаходиться в межах 1,2...2, при цьому більше відношення характерне для двигунів малої потужності..

Рис.4.9

Щоб збільшити пускочий момент випускають асинхронні двигуни спеціального призначення, ротори яких виготовляють з подвійними круглими пазами або з тонкими довгими пазами. Це призводить до збільшення пускового моменту, але при низькій швидкості момент двигуна стає меншим за пускочий (крива 3 на рис.4.9), що зумовлено впливом вищих гармонік із-за насичення сталі в зоні зубців ротора. Такі двигуни мають нижчі коефіцієнти корисної дії і потужності.

Робочі характеристики двигуна середньої потужності наведені на рис. 4.10. Їх характер пояснюється наступним. Залежність струму статора від навантаження  $I_1 = f(P_2)$  нелінійна. При  $P_2=0$  струм статора визначається, в основному, струмом намагнічування. При збільшенні навантаження збільшуються ковзання, е.р.с. обмотки ротора і, як наслідок, зростає струм ротора, що слідує із формули /4.12/. Це зростання не є пропорційним, бо одночасно змінюється і реактивний опір обмотки ротора  $x_2 = \omega L_p = 2\pi f L_p s$ , де  $L_p$  - індуктивність обмотки.

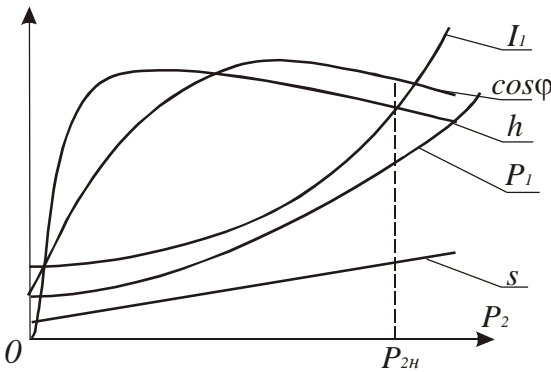


Рис. 4.10.

моменту двигуна від ковзання (формула 4.16).

Робоча характеристика  $\cos\varphi_1 = f(P_2)$  виражає залежність між корисною потужністю і потужністю, яку споживає двигун, тобто показує, яка частина повної потужності перетворюється в механічну потужність. Це перетворення залежить від фазового зсуву між напругою і струмом статора. Фазовий зсув визначає також потужність, яка йде на створення електромагнітного поля. Асинхронний двигун, як і трансформатор, споживає із мережі струм  $I_0$ , який йде на створення основного магнітного потоку і який відстає від напруги на кут  $\varphi_1$ , близький до  $\pi/2$ . Тому при холостому ході  $\cos\varphi_1 \leq 0.2$ . При збільшенні навантаження збільшуються активні складові струмів ротора і статора, що призводить до різкого збільшення  $\cos\varphi_1$ . Максимального значення  $\cos\varphi_1$  досягає при

Залежність  $s = f(P_2)$  має дві характерні точки: при  $P_2=0$  ковзання  $s_x$  визначає момент холостого ходу двигуна  $M_x$ ; при  $P_2=P_{2н}$   $s=s_n$ . Між цими точками ковзання змінюється за законом, близьким до лінійного, бо  $P_2 = M\omega = M\omega_0(1-s) = M(s)\omega_0(1-s)$ , де  $M(s)$  - залежність

$P_2 \approx P_{2n}$ . При подальшому збільшенні  $P_2$  величина  $\cos\varphi_1$  починає зменшуватись. Це зумовлене збільшенням ковзання, а значить і реактивного опору обмотки ротора, а значить, і фазового зсуву  $\varphi_2$ . Зі збільшенням  $\varphi_2$  збільшується і  $\varphi_1$ , а  $\cos\varphi_1$  буде зменшуватись. Для асинхронних двигунів номінальний  $\cos\varphi_{1n} = 0,75 \dots 0,95$ . Менша цифра відноситься до двигунів малої потужності.

Характер робочої характеристики  $\eta = f(P_2)$  пояснюється наступним. Коефіцієнт корисної дії

$$\eta = \frac{P_2}{P_1} = \frac{P_1 - \Delta P}{P_1} = 1 - \frac{\Delta P}{P_1}. \quad /4.19/$$

Втрати потужності  $\Delta P$  згідно з /4.19/ складається із постійних втрат і змінних, які пропорційні квадрату струму і які залежать від навантаження. При холостому ході переважають втрати в сталі, бо  $I_2 \approx 0$  і  $I_1$  дорівнює струму холостого ходу, який близький до струму намагнічування  $I_0$ . Зі збільшенням  $P_2$  змінні втрати (втрати в міді обмоток  $p_{m1}$  і  $p_{m2}$ ) зростають і коли вони досягнуть постійних втрат, к.к.д. буде максимальним. При подальшому зростанні  $P_2$  змінні втрати збільшуються, що призводить до значного зменшення к.к.д. Коефіцієнт корисної дії асинхронних двигунів досить високий і знаходиться в межах  $0,7 \dots 0,96$  в залежності від потужності: двигуни великої потужності мають вищий к.к.д.

Вид робочої характеристики  $P_1 = f(P_2)$  визначає те, що  $P_1 = P_2 / \eta$ . Оскільки залежність  $\eta = f(P_2)$  спочатку різко зростає, досягає максимуму, а потім знижується, то крива  $P_1 = f(P_2)$  спочатку збільшується помалу, а потім значно зростає, наближаючись до прямої лінії.

Важливою характеристикою асинхронних двигунів є пусковий струм, який в залежності від потужності і конструкції більший номінального в  $5 \dots 7$  разів. Це зумовлено тим, що в момент пуску робота двигуна подібна до роботи трансформатора в режимі короткого замикання, бо індукована в обмотці ротора е.р.с.  $E_{20}$  максимальна із-за пересікання її магнітним потоком зі швидкістю  $n_0$ .

Максимальна е.р.с. спричинить максимальний струм в обмотці ротора і відповідно – максимальний (пусковий) струм в обмотці статора. Після пуску е.р.с.  $E_2 = E_{20} \cdot s$  буде зменшуватись, зменшуватись будуть і струми в обмотках ротора і статора до значення, яке відповідатиме рівності моменту двигуна моменту сил опору механізму, який приводиться в рух.

### 4.3 Програма роботи

1. Ознайомитись з будовою і принципом роботи трифазного асинхронного двигуна з коротко замкненим ротором.
2. Вивчити схему пуску і будову гальмівного механізму.
3. Експериментально дослідити робочі характеристики двигуна.
4. За експериментальними і розрахунковими даними в одних координатах побудувати робочі характеристики.
5. За паспортними даними двигуна побудувати механічну характеристику і порівняти її з експериментальною. Зробити висновки щодо точності розрахунків.

### 4.4. Опис лабораторної установки

Лабораторна установка (рис. 4.11) складається з трифазного асинхронного двигуна з короткозамкненим ротором  $M$ , тахогенератора  $BR$ , механічного пристрою для створення і вимірювання гальмівного моменту МП, автоматичного вимикача  $QF$  і вимірювальних приладів (амперметра  $PA$ , вольтметра  $PV$ , трифазного ватметра  $PW$ ), які знаходяться на окремій панелі.

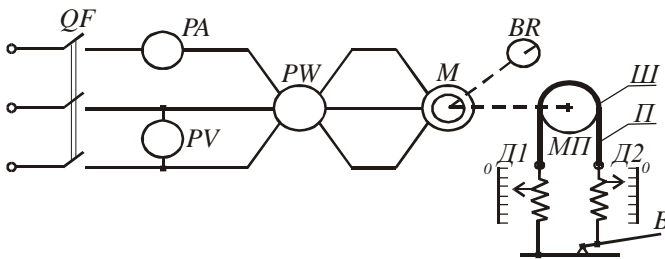


Рис. 4.11

Пристрій для створення і вимірювання гальмівного моменту  $M_c$  складається із шківів  $III$ , паса  $II$ , двох пружинних динамометрів  $D_1$  і  $D_2$  і важеля  $B$ . Натяг паса здійснюють за допомогою важеля. Натягуючи пас, змінюють силу тертя  $F_m$ , яка чисельно дорівнює різниці показів динамометрів.

Гальмівний момент в ньютонах

$$M_c = R_u g (F_1 - F_2), \quad /4.20/$$

де  $R_u$  - радіус шківів в метрах;  $F_1$  і  $F_2$  - покази динамометрів в кілограмах;  $g = 9.81 \text{ м/с}^2$ .

В усталеному режимі момент двигуна зрівноважується гальмівним моментом, тобто

$$M = M_c. \quad /4.21/$$

Паспортні дані двигуна і радіус шківів вказані на панелі приладів.

#### 4.5. Порядок виконання роботи

1. Вивчаючи будову розібраного асинхронного двигуна, зверніть увагу на форму пазів, в яких знаходяться обмотки статора і ротора, на систему вентиляції і визначте число пар полюсів за номінальною швидкістю обертання і за з'єднанням секцій обмотки статора. Крім того, зверніть увагу на конструкцію магнітопроводів двигуна.

2. Оскільки двигун невеликої потужності, то пуск здійснюють безпосереднім підключенням обмотки статора до мережі живлення автоматичним вимикачем, натиснувши верхню кнопку.

Для створення гальмівного моменту використовується шків з пасом. Випробуйте дію пристрою при нерухомому роторі, натиснувши на важіль, і зверніть увагу на покази динамометрів при зміні сили натягу паса.

3. Експериментальне дослідження робочих характеристик проводять у такій послідовності. При не натягнутому пасі включають двигун і в режимі холостого ходу покази вольтметра, амперметра, ватметра і тахогенератора заносять в табл. 4.1.

Поступово навантажуючи двигун гальмівним пристроєм, записати

покази приладів для значень струму, вказаних в табл. 4.1.

Таблиця 4.1

№ п/п	Виміряно						Вирахувано				
	$I_1, A$	$U, B$	$P_1, Вт$	$n$	$F_1$	$F_2$	$M$	$P_2$	$s$	$\cos\varphi_1$	$\eta$
1	$I_{x,x}$										
2	$0.2I_n$										
3	$0.4I_n$										
4	$0.6I_n$										
5	$0.8I_n$										
6	$I_n$										
7	$1.2I_n$										

4. За даними вимірювань вирахувати момент за формулою /4.20/, потужність, ковзання,  $\cos\varphi$  і  $\eta$  за такими формулами:

$$P_2 = M\omega = \frac{\pi}{30} Mn = 0.1Mn ;$$

$$s = \frac{n_0 - n}{n_0} ;$$

$$\cos\varphi_1 = \frac{P_1}{UI} - \text{при з'єднанні обмотки статора трикутником}$$

або  $\cos\varphi_1 = \frac{P_1}{\sqrt{3}UI}$  - при з'єднанні обмотки зіркою;

$$\eta = \frac{P_2}{P_1} .$$

За даними експериментів і вимірювань в одній системі координат побудувати робочі характеристики  $I_1 = f(P_2)$ ,  $P_1 = f(P_2)$ ,  $s = f(P_2)$ ,  $\cos\varphi_1 = f(P_2)$  і  $\eta = f(P_2)$ .

5. За формулою /4.17/ і  $s = \frac{n_0 - n}{n_0}$  розрахувати і побудувати механічну характеристику двигуна  $n = f(M)$ , попередньо визначивши  $\lambda = \frac{M_\kappa}{M_n}$ ,  $M_n = \frac{P_{2n}}{0.105n_n}$  і  $s_\kappa$  згідно формули /4.18/.



Порівняйте значення розрахункового моменту  $M_n$  з експериментальним значенням і зробіть висновок про точність експерименту і про фактори, які могли на її вплинути.

#### 4.6. Контрольні запитання

1. Що створює обертове магнітне поле в асинхронному двигуні?
2. Як залежить швидкість обертання магнітного поля статора від числа полюсів?
3. Як визначити швидкість ідеального холостого ходу двигуна?
4. Що таке ковзання і як його визначити?
5. З якою швидкістю рухається у просторі магнітне поле ротора?
6. Чому трифазний двигун змінного струму назвали асинхронним двигуном?
7. Чи залежить частота струму в обмотці ротора від ковзання?
8. Чому залежність коефіцієнта корисної дії від корисної потужності має екстремум?
9. Чим пояснити великий пусковий струм асинхронного двигуна з короткозамкненим ротором?
10. Які вживають конструктивні заходи, щоб зменшити величину пускового струму?

## **Робота 5. Дослідження однофазного асинхронного двигуна та випробування трифазного асинхронного двигуна в режимі однофазного**

### **5.1. Мета роботи**

Вивчити будову і принцип дії однофазного асинхронного двигуна та дослідити його робочі характеристики. Навчитися використовувати трифазний асинхронний двигун з короткозамкненим ротором в режимі однофазного.

### **5.2. Короткі теоретичні відомості**

Трифазні асинхронні двигуни випускаються серійно потужністю від 90 Вт до 400 кВт і використовуються скрізь, де є доцільною трифазна мережа живлення. У випадку, коли недоцільно влаштовувати трифазну мережу (побутові приміщення, самотні споживачі невеликої потужності тощо) прокладають однофазну мережу і використовують однофазні двигуни, які потужністю до 600 Вт називають мікродвигунами.

Однофазний асинхронний двигун відрізняється від трифазного тим, що в пазах статора укладають дві однофазні обмотки: робочу, яка займає  $2/3$  пазів, і пускову, яка зсунута по колу статора відносно робочої обмотки на  $90$  градусів. Ротор двигуна короткозамкнений типу “колеса білки”.

Розташування в статорі двох зсунутих у просторі обмоток зумовлено тим, що двигун з однією обмоткою не створює при пуску ( $n=0$ ) пускового моменту і двигун не може зрушитись з місця. Пояснюється це тим, що однофазна обмотка створює пульсуюче магнітне поле, яке не може створити обертового моменту при пуску.

Проте, якщо ротор зовнішньою силою розкрутити в будь-яку сторону, то він буде продовжувати обертатись у цьому ж напрямку, розвиваючи певний обертовий момент. Останнє можна пояснити тим, що пульсуюче магнітне поле можна представити у вигляді суми двох полів, що обертаються з синхронною швидкістю в різні сторони.

Раніше було показано, що індукція в точці, зміщеній на кут  $\alpha$  відносно осі однофазної обмотки, змінюється за законом (рівняння 5.1)

$$B = B_m \cos \omega t \cdot \cos \alpha, \quad /5.1/$$

якщо рахунок часу вести від моменту, коли індукція на осі обмотки має максимальне значення  $B_m$ . Рівняння /5.1/ показує, що в часі (при зміні  $t$ ) індукція  $B$  буде змінюватись від  $B_m$  ( $t=0$ ) до нуля  $\left(t = \frac{\pi}{\omega}\right)$ , потім до  $-B_m$  ( $t = 2\pi/\omega$ ). Поле, коли індукція на осі змінюється в часі від  $B_m$  до  $-B_m$ , називають пульсуючим.

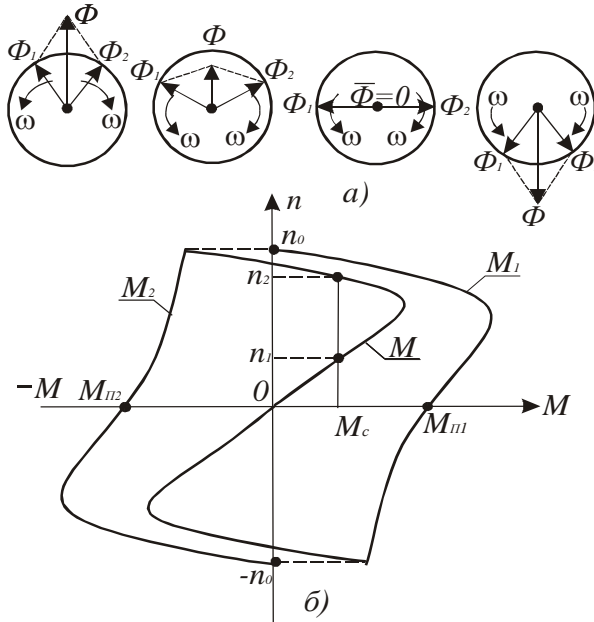


Рис. 5.1.

Рівність /5.1/ можна представити у вигляді

$$B = B_m \cos \omega t \cdot \cos \alpha = \frac{B_m}{2} [\cos(\omega t + \alpha) + \cos(\omega t - \alpha)]. \quad /5.2/$$

Кожна складова рівності /5.2/ описує колове магнітне поле. Отже, пульсуюче магнітне поле представляє собою суму двох колових полів, які рухаються в протилежних напрямках з кутовою швидкістю  $\omega$  і амплітудою, яка дорівнює половині амплітуди пульсуючого поля.

На рис 5.1,а обертові магнітні поля представлені векторами  $\overline{\Phi}_1$  і  $\overline{\Phi}_2$ , які рівні за амплітудами, але обертаються з однаковою кутовою швидкістю  $\omega$  в різні сторони. Сума цих векторів дає вектор пульсуючого поля  $\overline{\Phi} = \overline{\Phi}_1 + \overline{\Phi}_2$ , який нерухомий у просторі.

На рис.5.1,б зображені залежності швидкості від моментів, які створюють пряме і зворотне магнітні поля. Сума цих моментів дає результуючий момент  $M$  однофазного асинхронного двигуна з однією обмоткою в статорі. Як видно з рис.5.1,б при  $n = 0$  пусковий момент  $M_n = M_{n1} - M_{n2} = 0$ , а при швидкості  $n > 0$  існує обертовий момент.

Якщо при моменті сил опору  $M_c$  розкрутити ротор зовнішньою силою до швидкості  $n > n_1$  і зняти цю силу, то результуючий момент двигуна буде більшим моменту сил опору ( $M > M_c$ ) і двигун буде розганятись до швидкості  $n_2$ , при якій настане усталений режим ( $M = M_c$ ).

При обертанні ротора обертовий момент  $M_1$  від прямого поля, яке обертається в ту ж сторону, що і ротор, буде більшим, ніж момент  $M_2$  від зворотного поля, яке обертається у зворотну сторону. Цим і пояснюється існування обертового моменту у однофазного двигуна при обертанні його ротора, а також у трифазного двигуна при обриві однієї із фаз під час роботи.

Отже, для того щоби мати обертовий момент при пуску однофазного двигуна необхідно створити обертове магнітне поле. Для цього треба мати мінімум дві зсунуті по колу статора (у просторі) обмотки, по яких повинні протікати струми, зсунуті за фазою в часі. Така система обмоток і струмів утворить обертове магнітне поле, яке, обертаючись у просторі, змінюється за величиною. Таке поле називають еліптичним, бо кінець вектора поля при обертанні описує еліпс.

Еліптичне поле також розкладається на два несиметричні поля, які обертаються в протилежні сторони. Оскільки ці поля несиметричні, то виникає пусковий момент. Щоби зробити його максимальним в пазах статора розміщують додаткову (пускову) обмотку, зсунуту відносно

основної на  $90^\circ$ , і струм в пусковій обмотці зсувають у часі відносно струму в основній обмотці за допомогою фазозсуваючих елементів: конденсатора, реактора або резистора. Поле найбільше наближене до колового, і найкращі властивості двигуна одержать у тому випадку, коли фазозсуваючим елементом буде конденсатор певної ємності.

Додаткова обмотка послідовно з конденсатором може під'єднуватись до однофазної мережі на час пуску (рис. 5.2,а) або постійно (рис.5.2,б). В обох випадках при розгоні маємо фактично

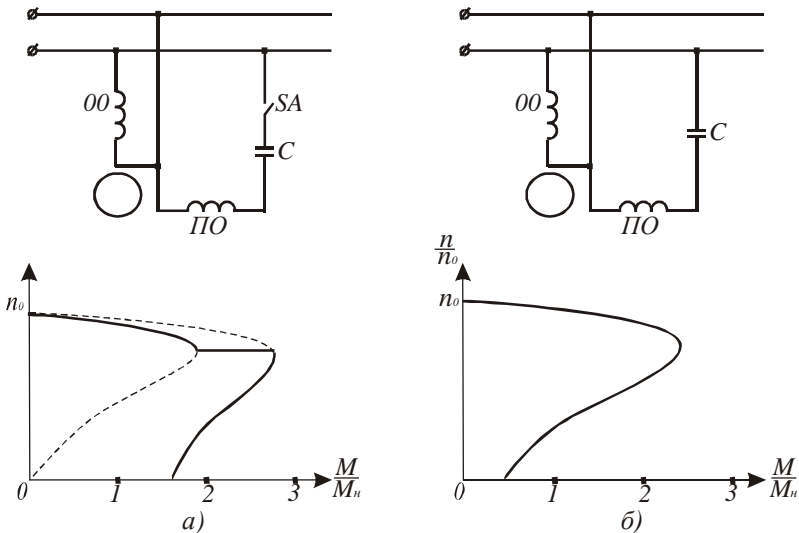


Рис. 5.2.

двофазний асинхронний двигун, який живиться від однофазної мережі. При відключенні пускової обмотки момент, створений полем, близьким до кругового обертового, стрибком змінюється і двигун продовжує працювати як чисто однофазний. На рис.5.2,а показано, що його пусковий момент більший від пускового моменту двигуна з постійно підключеною додатковою обмоткою за рахунок того, що ємність двигуна з пусковою обмоткою вибирається за умови створення колового поля при пуску, а у другому випадку – за умови створення колового поля при розрахунковому навантаженні.

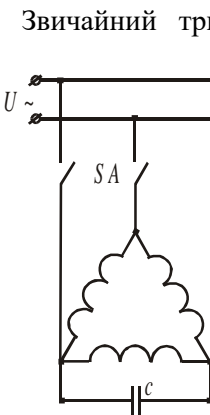
Двигуни з постійно підключеною додатковою обмоткою називають конденсаторними двигунами. Вони мають кращі експлуатаційні показники: більш жорстку механічну характеристику, вищий

коефіцієнт корисної дії і вищий  $\cos\varphi$ . Тому їх використовують в пральних машинах, пілосмоках, центрифугах, холодильниках тощо.

Робочі характеристики однофазного двигуна подібні до робочих характеристик трифазного двигуна, бо вони зумовлені дією обертових магнітних полів.

Для зміни напрямку обертання однофазних двигунів необхідно поміняти місцями виводи основної або пускової обмотки.

При експлуатації трифазних асинхронних двигунів можливі аварійні випадки, коли двигун переходить в однофазний режим роботи. Це відбувається при обриві одного з трьох проводів чи перегоранні запобіжника. Якщо це відбулося при роботі двигуна, то він продовжує працювати як однофазний. При цьому збільшуються струм фази і  $\cos\varphi$  двигуна. Тривала робота при навантаженні, близькому до номінального, призведе до перегріву обмоток і виходу двигуна з ладу. Однофазний режим роботи супроводжується характерним гудінням, яке зв'язане з тим, що зворотнє магнітне поле індукує струм в роторі з частотою  $f_s = f(2 - s) \approx 95 \dots 97 \text{ Гц}$ .



Звичайний трифазний асинхронний двигун з короткозамкненим ротором невеликої потужності можна використати в якості однофазного. При фазній напрузі 220В його вмикають в мережу за схемою згідно рис.5.3. При цьому напруга мережі не повинна перевищувати фазну напругу двигуна. Величину ємності в мкФ при частоті 50Гц визначають за формулою:

$$C = 4800I_1U, \quad /5.3/$$

де  $I_1$  - номінальний фазний струм обмотки статора, А;  $U$  - напруга в мережі, В.

Якщо пуск двигуна потрібно проводити при великому навантаженні, то для збільшення пускового моменту необхідно паралельно до ємності  $C$  під'єднати пускову ємність  $C_n = (2.5 \dots 3)C$ . У цьому випадку пусковий момент буде дорівнювати номінальному.

При використанні трифазного двигуна в однофазному режимі його корисна потужність складе 70...80% номінальної потужності.

Надійна робота трифазного двигуна в однофазному режимі залежить від правильного вибору конденсатора за напругою. Для схеми, наведеної на рис.5.3, напруга на конденсаторі  $U_k = 1.15U$ .

В конденсаторних двигунах переважно застосовують паперові конденсатори в металевому герметичному корпусі прямокутної форми. На корпусі конденсатора вказують ємність і робочу напругу постійного струму. При вмиканні такого конденсатора в мережу змінного струму потрібно приблизно вдвічі зменшити робочу напругу. Наприклад, якщо на конденсаторі вказана напруга 600В, то робочу напругу при змінному струмі слід вважати 300В.

### 5.3 Програма роботи

1. Вивчити будову і принцип дії однофазного асинхронного двигуна.
2. Випробувати однофазний асинхронний двигун без пускової обмотки і з нею.
3. Дослідити основні робочі характеристики однофазного асинхронного двигуна.
4. Дослідити роботу трифазного асинхронного двигуна з короткозамкненим ротором при обриві однієї із фаз.
5. Навчитися використовувати трифазний асинхронний двигун з режимі однофазного.

### 5.4. Опис лабораторної установки

Лабораторна установка для дослідження однофазного асинхронного двигуна (рис. 5.4) складається з асинхронного двигуна з пусковою обмоткою  $M$ , механічного гальма  $MG$ , давача сили з цифровою індикацією  $DF$ , тахогенератора  $BR$ , теплового реле  $KK$  і вимірювальних приладів: амперметра  $PA$ , вольтметра  $PV$ , прилада для вимірювання коефіцієнта потужності  $\cos\varphi$  і спеціального триполюсного вимикача  $SA$ .

Для захисту обмотки статора від перегрівання, яке виникає при тривалому навантаженні двигуна, застосоване електротеплове реле  $KK$ . Нормально замкнені контакти якого  $KK$  розмикають коло

живлення робочої обмотки  $PO$ , коли її температура досягне граничного значення.

Механічне гальмо  $МГ$  складається із шківів  $Ш$ , паса  $П$ , тензометричного датчика  $ДФ$  з цифровою індикацією сили в ньютонках і важеля  $В$ , за допомогою якого створюється гальмівний момент  $M_c = F R_{ш}$ , де  $F$  – сила натягу паса;  $R_{ш}$  – радіус шківів в метрах.

Швидкість обертання двигуна контролюється тахогенератором  $BR$  і вимірюється приладом  $P$ , який проградуєований в обертах за хвилину.

Спеціальний вимикач  $SA$  має три контакти: верхній контакт вмикає пускову обмотку  $ΠO$  і не має механічної зачіпки, і він розмикається при відпусканні кнопки; два інші – мають зачіпки, які утримують їх в замкненому стані при відпусканні кнопки. Щоб ці контакти розімкнути, потрібно натиснути на нижню кнопку, яка діє за зачіпки.

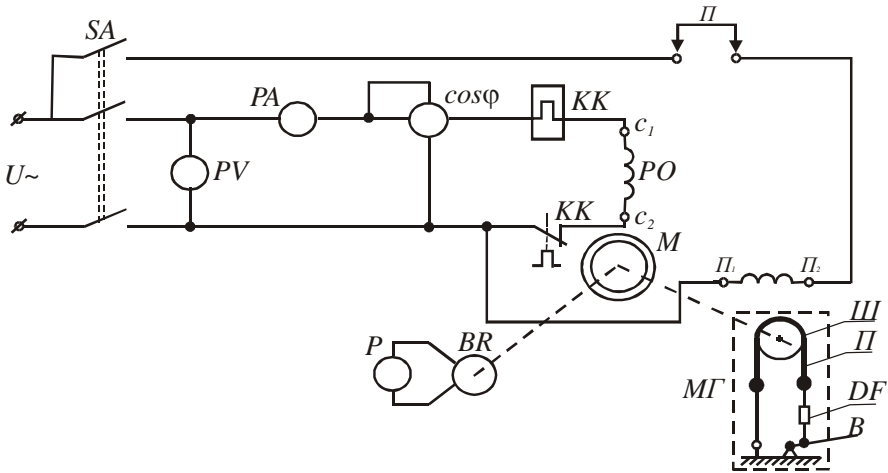


Рис. 5.4.

Перемикач  $Π$  призначена для випробування двигуна без пускової обмотки.

Лабораторна установка для випробування трифазного асинхронного двигуна в режимі однофазного наведена на рис. 5.5.



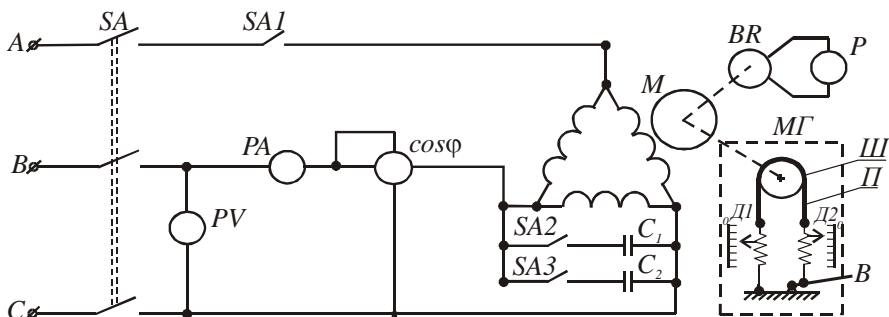


Рис. 5.5.

Вона складається з двигуна  $M$ , обмотка статора якого з'єднана трикутником, механічного гальма  $МГ$ , тахогенератора  $ВР$  з приладом  $P$ , шкала якого проградуєвана в обертах за хвилину, конденсаторів  $C_1$  і  $C_2$ , автоматичного вимикача  $SF$ , вимикачів  $SA1$ ,  $SA2$ ,  $SA3$  і вимірювальних приладів  $PA$ ,  $PV$ ,  $\cos \varphi$ .

## 5.5. Порядок виконання роботи

1. Вивчаючи будову однофазного асинхронного двигуна, потрібно звернути увагу на конструктивне виконання ротора і на кількість виводів обмоток статора. Для вивчення конструкції триконтактного вимикача, потрібно натиснути на верхню кнопку і подивитися на рух контактів. Відпустивши кнопку, переконайтеся, що один з контактів розімкнувся, а два інші залишилися замкненими. Натиснути на нижню кнопку і переконайтеся, що контакти розімкнулися.

2. Схема лабораторної установки зібрана. Тому з дозволу викладача подати напругу на стенд і приступити до проведення випробувань. Для випробування роботи двигуна без пускової обмотки зняти перемичку  $\Pi$  і ослабити пас гальма. На вал між ротором двигуна і тахогенератором туго намотати 4 – 5 витків стрічки за напрямком годинникової стрілки і утримувати в легко натягнутому стані. Увімкнути вимикач  $SA$  і переконайтеся, що двигун не обертається. Запам'ятайте величину струму в обмотці і це буде пусковий струм. Потягнувши стрічку до себе, надайте ротору невелику початкову швидкість і двигун повинен продовжувати розганятись. При холостому ході двигуна визначте і занесіть в табл.5.1 покази амперметра, вольтметра, тахогенератора і величину  $\cos \varphi$ . Виключіть

вимикач SA. Після зупинки двигуна знову намотайте стрічку на вал в напрямку проти годинникової стрілки, увімкніть вимикач SA, переконайтесь знову, що ротор не рухається, запам'ятайте величину струму, стрічкою поверніть вал і покази вимірювальних приладів при холостому ході занесіть в табл. 5.1.

Визначити активну, реактивну і повну потужності при холостому ході і записати їх значення в табл.5.1. ( $P = UI \cos \varphi$ ;  $Q = UI \sin \varphi$ ;  $S = \sqrt{P^2 + Q^2}$ ). При відключеному двигуні поставити перемицку П. Натиснути на верхню кнопку вимикача SA і утримувати її 2 – 3 секунди. Запам'ятайте кидок струму при пуску. Покази вимірювальних приладів при холостому ході занесіть в табл.1. Відключіть двигун, поміняйте місцем кінці пускової обмотки П1 і П2. Увімкніть двигун. Експериментальні дані занесіть в табл. 5.1. Визначити потужності.

Таблиця 5.1

№п/ п	Способи пуску		Без пускової обмотки		З пусковою обмоткою	
	Параметри		Оберт. вправо	Оберт. вліво	Оберт. вправо	Оберт. Вліво
1	Пусковий струм, А					
2	Струм хол. ходу, А					
3	Швидкість хол. ходу, об/хв.					
4	cosφ при хол. ході					
5	Напруга живлення, В					
6	Потужність хол. ходу, Вт	Акт.				
		Реак.				
		Повна				

На підставі експериментальних і розрахункових даних зробити висновки про пуск однофазного двигуна без пускової обмотки і з нею.

3. Дослідження роботи двигуна під навантаженням починають з режиму холостого ходу. Для цього потрібно запустити двигун і покази вимірювальних приладів записати в табл. 5.2. Після, навантажуючи

двигун за допомогою гальма, записати покази вимірювальних приладів для струмів, вказаних в табл. 5.2.

Виразувати момент на валу двигуна  $M$ , потужності  $P_1$  і  $P_2$ , і коефіцієнт корисної дії  $\eta$  за формулами  $M = FR_{щ}$ , де  $R_{щ}$  - радіус шківів,  $P_1 = UI \cos \varphi$ ;  $P_2 = \frac{\pi n}{30} M$  і  $\eta = \frac{P_2}{P_1}$ . За експериментальними і розрахунковими даними побудувати в одних координатах механічну характеристику  $n = f(M)$  і залежності  $M$ ,  $n$ ,  $\cos \varphi$ , і  $\eta$  від  $P_2$ .

Таблиця 5.2

№ п/п	Виміряно					Вичислено			
	$I$ , А	$U$ , В	$n$ , об/хв	$\cos \varphi$	$F$ , Н	$M$ , Н*М	$P_1$ , Вт	$P_2$ , Вт	$\eta$
1.	$I_{x,x}$								
2.	$0.25I_n$								
3.	$0.5I_n$								
4.	$0.75I_n$								
5.	$1.0I_n$								
6.	$1.25I_n$								

4. Дослідження роботи трифазного асинхронного двигуна в режимі однофазного проводять на стенді, схема якого наведена на рис. 5.5.

Щоби визначити, що змінюється при переході двигуна від трифазного режиму до однофазного, спочатку випробувати його, як трифазного в режимах холостого ходу і номінального, який створити за допомогою гальма ( $I = I_n$ ). Покази вимірювальних приладів занести в табл. 5.3.

При холостому ході двигуна вимкнути вимикач  $SA1$ . Двигун перейде в режим однофазного. Покази приладів занести в табл. 5.3. Далі створити гальмом номінальне навантаження ( $I = I_n$ ) і дані вимірювань записати.

Вимкнути двигун. Коли його швидкість зменшиться в 5-6 разів, увімкнути вимикач  $SF$  і переконатись, що двигун почне розганятись. Знову вимкнути двигун. Після зупинки ротора увімкнути на 1...2 секунди вимикач  $SF$  і переконатися, що ротор не рухається.

Вимикачем  $SA2$  під'єднайте ємність  $C1$  і увімкніть вимикач  $SF$ . Покази вимірювальних приладів при холостому ході і номінальному навантаженні занесіть в табл. 5.3. Не знімаючи гальма виключати двигун. Коли він зупиниться, знову включити і спостерігати за валом двигуна не довше 1...2 секунд. Після вимикачем  $SA3$  під'єднати ємність  $C2$  – двигун почне розганятись. Результати вимірювань для режимів номінального і холостого ходу занести в табл. 5.3.

Таблиця 5.3

№ п / п	Режим роботи двигуна		Виміряно				Вчислено			
			$I$ , А	$U$ , В	$n$ , об/хв	$\cos\varphi$	$F_1-F_2$ , кг	$M$ , Н*м	$P_1$ , кВт	$P_2$ , кВт
1	Трифазний	Холостий хід								
		Ном. навантаж	$I_n$							
2	Однофазний	Холостий хід								
		Ном. навантаж	$I_n$							
3	Однофазний з ємністю $C_1$	Холостий хід								
		Ном. навантаж	$I_n$							
4	Однофазний з ємністю $C_1$ і $C_2$	Холостий хід								
		Ном. навантаж	$I_n$							

За даними вимірювань вчислити момент  $M = (F_1 - F_2)gR_w$ , де  $F_1$  і  $F_2$  - покази динамометрів;  $R_w$  - радіус шківів. Активну  $P_1$  і корисну  $P_2$  потужності та коефіцієнт корисної дії  $\eta$  вирахувати за формулами які будуть наведені вище.

На підставі експериментальних і розрахункових даних провести аналіз зміни, які відбувалися в двигуні при переході від трифазного режиму до однофазного, і впливу ємностей на показники роботи двигуна.

## 5.6. Контрольні запитання

1. Чим конструктивно відрізняється однофазний асинхронний двигун від трифазного?
2. Яке магнітне поле створює однофазна обмотка статора однофазного двигуна?
3. Які існують способи пуску однофазних асинхронних двигунів?
4. Як здійснюють зміну напрямку обертання однофазних асинхронних двигунів?
5. Які переваги мають конденсаторні однофазні асинхронні двигуни?
6. Як можна змінювати величину пускового моменту однофазного асинхронного двигуна?
7. За якої умови працюючий трифазний асинхронний двигун переходить в режим однофазного?
8. Чи можна при обриві провода в мережі живлення пустити трифазний асинхронний двигун?
9. Що треба зробити, щоби трифазний асинхронний двигун працював в режимі однофазного?
10. Які засоби використовують для збільшення пускового моменту трифазного асинхронного двигуна в режимі однофазного?

### Основи техніки електробезпеки

Порушення правил техніки безпеки приводить до електротравматизму. Всім, хто зв'язаний з експлуатацією електротехнічного устаткування, в обов'язковому порядку необхідно знати «Правила технічної експлуатації електроустаткування» та «Правила техніки електробезпеки».

При обслуговуванні електроустаткування напруга і струм не виявляють зовнішніх ознак, тому ураження електричним струмом настає несподівано. Залежно від величини і часу дії струму, що проходить через організм людини, може виникнути електротравма у вигляді опіків, непритомності, судом, припинення дихання і навіть смерть.

Дослідженнями встановлено, що людина не відчуває дії струму до 0,5 мА. Відчутний струм до 1,5 мА не уражає людину. При струмі 10...15 мА людина не може відірвати рук від електродів. Струм уражає органи дихання та серцево-судинну систему. При 100 мА серце припиняє діяльність і, отже, цей струм вважають смертельним.

На ступінь ураження впливає не тільки величина струму, а і час його дії. Пояснюється це тим, що із збільшенням часу дії струму зменшується опір тіла людини за рахунок розширення судин шкіри, підвищення виділення поту. Опір тіла людини буває від 600 до 100 000 Ом. Крім того, величина струму залежить від величини прикладеної напруги та від опору кола, по якому проходить струм. Опір тіла людини - величина змінна і зменшується із збільшенням

напруги. Тому із збільшенням часу проходження струму, а також із збільшенням напруги опір зменшується, а струм зростає, а з ним зростає і ступінь ураження. Зауважимо, що опір людини у нетверезому стані, а також у стані нервового збудження і з дефектами шкіри значно менший, ніж у здорової людини. Це створює ще більшу небезпеку ураження електричним струмом.

Дослідження електротравматизму показують, що близько 60 % нещасних випадків відбуваються через безпосередній дотик до голих струмоведучих частин, які знаходяться під напругою. Велике значення у зменшенні струму ураження мають наявність сухої підлоги,

взуття, діелектричних рукавичок, бот і калош, гумових килимків та інших діелектриків, які в електричному колі створюють додатковий опір, чим значно обмежується сила струму . Слід пам'ятати, що у вологих приміщеннях (відносна вологість яких перевищує 75 %) і у приміщеннях з пилом, що пропускає електричний струм, особливо небезпечно торкатись до струмоведучих частин, ізоляція яких може бути значно нижчою і ненадійною.

## Основні правила електробезпеки в електротехнічних лабораторіях

1. До роботи в лабораторії допускаються лише особи, які вивчили інструкцію з правил безпеки.

2. Вивчивши зміст інструкції і прослухавши додатковий інструктаж, студент розписується в журналі з техніки безпеки і несе відповідальність за виконання основних правил електробезпеки.

3. Забороняється торкатися до неізольованих частин електричної установки, що перебуває під напругою.

4. Не можна без дозволу викладача або завідувача лабораторіями робити будь-які вмикання і перемикання на головному розподільному щиті.

5. Складати коло за схемою можна тільки при вимкненій напрузі.

6. Забороняється прокладати провідники через проходи між робочими місцями і скручувати їх у клубок. Провідники треба брати ізольовані, відповідного перерізу і з ізольованими наконечниками.

7. Усі вимірювальні прилади треба розміщувати так, щоб можна було спостерігати за їх показами, не перехиляючись через провідники.

8. Вмикати струм у колі можна тільки з дозволу викладача.

9. Забороняється виконувати будь-які переминання схеми під напругою.

10. Якщо під час роботи виникла несправність електрообладнання, то про це треба негайно повідомити викладача.

11. У випадку ураження струмом необхідно негайно вимкнути відповідний вимикач, повідомити викладача та надати першу допомогу потерпілому і викликати швидку медичну допомогу.